

ENGLISH
(Gujarati Medium)

કેટેગરી

A

પરીક્ષાર્થીનો બેઠક ક્રમાંક

--	--	--	--	--	--	--	--	--	--

પરીક્ષાનો બ્લોક નંબર

--

પરીક્ષાર્થીની સહી

--

બ્લોક સુપરવાઈઝરની સહી

--

પરીક્ષાર્થીઓ માટે અગત્યની સૂચનાઓ

(1)	તમને કહેવામાં ન આવે ત્યાં સુધી પ્રશ્ન પુસ્તિકા ખોલવી નહીં
(2)	પરીક્ષા દરમ્યાન પરીક્ષાર્થી પાસેથી કોઈ પણ સાહિત્ય ગાઈડ, માર્ગદર્શિકા, કાપલી, સ્લીપો, અન્ય હસ્ત લિખિત કે પ્રિન્ટેડ સાહિત્ય, મોબાઈલ ફોન, કેલક્યુલેટર, સ્પાય કેમરા, હેડ ફોન કે અન્ય વીજાણું ઉપકરણો હોવાનું જણાશે તો પરીક્ષાર્થીને ગેરલાયક ગણવામાં આવશે.
(3)	ચાલુ પરીક્ષા દરમ્યાન અંદરોઅંદર વાતચીત કરવી, અવાજ કરવો કે સુપરવાઈઝરની સૂચનાઓનું ઉલ્લંઘન કરવું તે ગેરશિસ્ત ગણાશે.
(4)	પ્રશ્નપત્ર મળે કે તરત જ ઉત્તરપત્ર (OMR SHEET) માં નિયત કરેલ જગ્યાએ પોતાનો બેઠક નંબર સ્વચ્છ અક્ષરે લખવો.
(5)	ઉત્તરપત્ર (OMR SHEET) માં નિશ્ચિત જગ્યા સિવાય પરીક્ષાર્થીએ પોતાનો બેઠક ક્રમાંક લખવો નહીં તથા પોતાની આગવી ઓળખ છતી થાય તેવી નામ સહિતની અન્ય કોઈ પણ પ્રકારની નિશાની કરવાની સખ્ત મનાઈ છે. તેમ છતાં પણ કોઈ પણ નિશાની કે ઓળખ માલૂમ પડશે તો તેને સંપૂર્ણ ગેરશિસ્ત ગણવામાં આવશે અને પરીક્ષા માટે ગેરલાયક ગણવામાં આવશે.
(6)	ઉત્તરપત્ર (OMR SHEET) ના પ્રમાણપત્રમાં પરીક્ષાર્થી તથા સુપરવાઈઝર બંનેની સહી ફરજિયાત છે. બંનેની સહી વિનાના ઉત્તરપત્ર (OMR SHEET) નું મુલ્યાંકન થશે નહીં. જેથી ઉમેદવારે સુપરવાઈઝરશ્રીની સહી અવશ્ય મેળવી લેવી.
(7)	પરીક્ષાર્થીએ બ્લ્યુ/બ્લેક બોલપોઈન્ટ પેનનો ઉપયોગ કરી શકાશે. અન્ય શાહી કે પેન કે પેન્સિલ તથા સફેદ શાહીનો ઉપયોગ કરી શકશે નહીં.
(8)	પ્રશ્નપત્રમાં આપેલ વિકલ્પોમાં કોઈપણ પ્રકારની નિશાની કરવી નહીં.
(9)	આ કસોટી પત્રમાં કુલ -200 પ્રશ્નો છે. પ્રત્યેક પ્રશ્નનો ઉત્તર A, B, C અને D પૈકી કોઈ એક છે. દરેક પ્રશ્ન માટે ચાર વિકલ્પો આપવામાં આવેલ છે. તમારે બધા જ પ્રશ્નોના ઉત્તર આપવાના છે. ઉદાહરણ તરીકે : ગુજરાતનું પાટનગર કયું છે ? (A) અમદાવાદ (B) ગાંધીનગર (C) વડનગર (D) પાટણ અહીં જવાબ (B) ગાંધીનગર જવાબ સાચો હોય, OMR SHEET માં વિકલ્પ (B) નું વર્તુળ ઘૂંટવાનું (Encode) કરવાનું થાય. A ● C D
(10)	પ્રત્યેક સાચા જવાબદીઠ 1 (એક) ગુણ મળવાપત્ર થશે. પ્રત્યેક ખોટા ઉત્તર માટે 0.25 ગુણ કપાશે (નેગેટીવ 0.25) જો ઉમેદવાર કોઈ પ્રશ્નનો ઉત્તર આપવા માંગતા ન હોય તો વિકલ્પ E પસંદ કરવાનો રહેશે. વિકલ્પ E માટે નેગેટીવ ગુણ રહેશે નહીં.
(11)	છેકછાકવાળા જવાબ તથા એકથી વધારે વિકલ્પમાં આપેલ જવાબ તથા બ્લેડ કે રબ્બર કે વાઈટનર (સફેદ શાહી) નો ઉપયોગ કરી બદલાવેલ જવાબ માટે 0.25 નેગેટીવ ગુણ મળશે.
(12)	પરીક્ષા પૂરી થયા બાદ ઉત્તરપત્ર (OMR SHEET) બ્લોક સુપરવાઈઝરને પરત કર્યા બાદ વર્ગખંડ છોડવાનો રહેશે. તેમ કરવામાં કસૂર થયેથી શિસ્ત ભંગના પગલાં ગણી પરીક્ષા માટે જે તે ઉમેદવારને ગેરલાયક ઠેરવવામાં આવશે.
(13)	આ પરીક્ષાનો સમય 180 મિનિટનો છે.
(14)	સૌથી યોગ્ય વિકલ્પ જવાબ તરીકે ધ્યાને લેવાશે.

રફ કામ માટેનું પેઈજ

- (1) 'સંવિધાનને વફાદાર રહેવાની અને તેના આદર્શો અને સંસ્થાઓના રાષ્ટ્રધ્વજનો અને રાષ્ટ્રગીતનો આદર કરવાની જોગવાઈ ભારતના સંવિધાનની કઈ કલમમાં દર્શાવવામાં આવી છે ?'
- (A) 51. ક (ક) (B) 51. ક (છ) (C) 51. ક (ડ) (D) 51. ક (ગ)
- (2) ભારતીય સંવિધાનના ભાગ-4માં 'રાજનીતિના માર્ગદર્શક સિદ્ધાંતો' ની જોગવાઈ કઈ કલમથી ક્યાં સુધીની કલમમાં કરવામાં આવેલ છે ?
- (A) 36 થી 45 (B) 35 થી 48 (C) 34 થી 50 (D) 36 થી 51
- (3) દરિયાના જળનું ઘનત્વ (Density) વધતું જાય છે, તેમ તેમ.....
- (A) ઉંડાણ અને ખારાશ ઘટે છે. (B) ઉંડાણ વધે છે અને ખારાશ ઘટે છે.
(C) ઉંડાણ ઘટે છે અને ખારાશ વધે છે. (D) ઉંડાણ અને ખારાશ વધે છે.
- (4) ભારતની પ્રાચીનતમ ક્રુટબોલ ટૂર્નામેન્ટ કઈ છે ?
- (A) સંતોષ ટ્રાફી (B) ડૂરંડ કપ
(C) રોવર્સ કપ (D) આઈ. એફ. એ. શીલ્ડ
- (5) હડપ્પા સંસ્કૃતિના પ્રમુખ સ્થળ 'લોથલ'ની શોધ કોણે કરી હતી ?
- (A) વી. ડી. શર્મા (B) યજ્ઞદત્ત શર્મા
(C) એસ. આર. રાવ (D) પ્રો. સુરજભાન
- (6) વધારે મેહસુલ પ્રાપ્તિ માટે કરવેરા ઉઘરાવવાના સંદર્ભમાં વિકાસના હેતુથી કયા કાળને પ્રમુખ માનવામાં આવે છે ?
- (A) મોર્યકાળ (B) ઉત્તર વૈદિકકાળ
(C) ગુપ્તકાળ (D) છઠ્ઠી શતાબ્દિ ઈસ્વી. પૂર્વ
- (7) પ્રાથમિક શિક્ષણમાં પ્રવેશ માટે લંબાવેલી મુદત, શાળાના શૈક્ષણિક વર્ષ શરૂ થયાથી કેટલા મહિના સુધીની રહેશે ?
- (A) 5 મહિના (B) 3 મહિના (C) 9 મહિના (D) 6 મહિના
- (8) રાષ્ટ્રીય શિક્ષણનીતિ-2020 માં સામાજિક અને આર્થિક રીતે પછાત વિસ્તારો માટે વિદ્યાર્થીઓ અને શિક્ષકનો રેશિયો કેટલો નિર્ધારિત કરેલ છે ?
- (A) 30:1 (B) 35:1 (C) 25:1 (D) 20:1
- (9) રાષ્ટ્રીય શિક્ષણનીતિ-2020માં નેશનલ ક્યુરીક્યુલમ ફ્રેમવર્કને કેટલા વર્ષમાં રીવાઈઝ્ડ અને અદ્યતન રાખવાની ભલામણ કરવામાં આવેલ છે ?
- (A) પાંચ વર્ષ (B) ત્રણ વર્ષ (C) આઠ વર્ષ (D) પ્રતિવર્ષ
- (10) 'જ્યાં સુધી માતૃભાષા (ગુજરાતી)ને હું ઉચ્ચ સ્થાન પર નહીં મૂકું ત્યાં સુધી હું પાઘડી નહીં બાંધું' એવું કોણે કહ્યું હતું ?
- (A) કવિ પ્રેમાનંદ (B) કવિ નર્મદ (C) કવિ કલાપી (D) કવિ સુન્દરમ્
- (11) 'વિશ્વ વસતી દિન' ક્યારે ઉજવવામાં આવે છે ?
- (A) 11 ઓગસ્ટ (B) 11 ઓક્ટોબર (C) 11 જૂન (D) 11 જુલાઈ
- (12) આગામી ઓલીમ્પીક કઈ જગ્યાએ યોજનાર છે ?
- (A) જાપાન (ટોક્યો) (B) ચીન (શાંઘાઈ)
(C) ફ્રાન્સ (પેરીસ) (D) ઈંગ્લેન્ડ (લંડન)

- (13) નવી ખાનગી માધ્યમિક શાળાની મંજૂરી કોણ આપે છે ?
 (A) જિલ્લાશિક્ષણાધિકારી (B) નિયામક, શાળાઓની કચેરી
 (C) શિક્ષણ સચિવ - શિક્ષણ વિભાગ (D) ગુજરાત માધ્યમિક અને ઉ.મા. શિક્ષણ બોર્ડ
- (14) ‘મારે ટોડલે બેઠો રે મોર’ ગીતને કોણે ચિરસ્મરણીય કર્યું ?
 (A) દમયંતી બરડાઈ (B) મીનાબેન પટેલ
 (C) દિવાળીબેન ભીલ (D) ગીતાબેન રબારી
- (15) ભારતનું કયું નગર ‘સિલિકોન વેલી’ તરીકે જાણીતું બન્યું છે ?
 (A) દિલ્લી (B) મુંબઈ (C) કલકત્તા (D) બેંગલુરુ
- (16) હાલમાં ગુજરાતમાં વર્લ્ડ બેંકના વડા તેમજ અમેરિકાના ટ્રેઝરી સેક્રેટરીએ નીચે પૈકી કઈ શૈક્ષણિક સંસ્થાની મુલાકાત લીધી હતી ?
 (A) જી.સી.ઈ.આર.ટી. (B) વિદ્યા સમીક્ષા કેન્દ્ર
 (C) ગુજરાત યુનિવર્સિટી (D) આયુર્વેદ યુનિવર્સિટી
- (17) દૂરવર્તી શિક્ષણમાં અભ્યાસ કેવી રીતે થઈ શકે ?
 (A) કોલેજ ગ્રંથાલયમાં છપાયેલી અધ્યયન સામગ્રી દ્વારા
 (B) જ્યાં રહેતા હોય ત્યાં માધ્યમો દ્વારા તથા છપાયેલી અધ્યયન સામગ્રી દ્વારા
 (C) કોલેજમાં અધ્યયનની વિવિધ પદ્ધતિઓ દ્વારા
 (D) કોલેજમાં હાજરી આપ્યા સિવાય સ્વપ્રયત્નો દ્વારા
- (18) ‘શિક્ષણમાં સંપૂર્ણ ગુણવત્તા વ્યવસ્થાપન’ પુસ્તકના લેખક કોણ છે ?
 (A) પ્રો. યશપાલ (B) ડૉ. ગુણવંત શાહ
 (C) પ્રો. મર્મર મુખોપાધ્યાય (D) ડૉ. ભદ્રાયુ વચ્છરાજાની
- (19) કેન્દ્ર સરકાર દ્વારા શરૂ કરવામાં આવેલી ‘વિદ્યાંજલિ’ યોજના શાના માટે છે ?
 (A) વાંચન વિકસાવવા માટેની યોજના
 (B) શાળા પુસ્તકાલય સમૃદ્ધ બનાવવા પુસ્તક દાન માટેની યોજના
 (C) શાળાની વિવિધ શૈક્ષણિક પ્રક્રિયામાં રસ ધરાવતાં સમાજના વ્યક્તિઓ માટે શિક્ષણ દાન માટેની યોજના
 (D) નબળા બાળકોને દત્તક લઈ સઘન શિક્ષણ આપવાની યોજના
- (20) 21 મી સદીના પડકારોને પહોંચી વળવા માટે ડેલોર્સ રિપોર્ટ Learning The Treasure within માં શિક્ષણના કયા બે સ્તંભનો ઉલ્લેખ કર્યો છે ?
 (i) ટકાઉ વિકાસ પ્રાપ્ત કરતાં શીખવું.
 (ii) શાંતિપૂર્ણ સહઅસ્તિત્વ સિદ્ધ કરતાં શીખવું.
 (iii) શીખતાં શીખવું
 (iv) સહજીવન શીખવું
 (A) i, ii (B) i, iii (C) iii, iv (D) ii, iii
- (21) કયું લક્ષણ અવૈધિક શિક્ષણનું છે ?
 (A) પરીક્ષા અને સર્ટિફિકેટનું મહત્ત્વ (B) શીખવનારની ઉચ્ચ લાયકાત
 (C) બાળકમાં જીવન-કૌશલ્યોનો વિકાસ કરવાનો ઉદ્દેશ (D) સાક્ષરતા કરતાં આજીવિકાલક્ષી શિક્ષણ પર ભાર

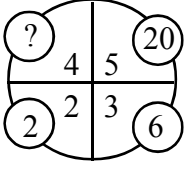
- (22) વર્ગ-શિક્ષણ દરમિયાન આદર્શવાદી શિક્ષક નીચેના પૈકી કઈ પદ્ધતિનો ઉપયોગ નહીં કરે ?
 (A) આગમન (B) ચર્ચા-સંવાદ (C) પ્રશ્નોત્તરી (D) પ્રવચન
- (23) ગાંધીજીએ આપેલી શિક્ષણની વ્યાખ્યામાં શિક્ષણનું કયું ધ્યેય પ્રગટ થાય છે ?
 (A) વ્યક્તિલક્ષી (B) સામાજિક (C) વિશિષ્ટ (D) આધ્યાત્મિક
- (24) “બાળક એ કંઈ પ્રૌઢની લઘુ આવૃત્તિ નથી.” - આ ગૃહીત/ધારણા કોણે રજૂ કરી ?
 (A) ડ્યૂઈ (B) રૂસો (C) પ્લેટો (D) સોક્રેટીસ
- (25) શિક્ષણના ત્રણ ‘વાદ’ અને તેમાં સ્વીકૃત થયેલા વિદ્યાર્થીના સ્વરૂપ અંગેના ખ્યાલોને યોગ્ય રીતે જોડો :
 1. આદર્શવાદ અ. સામાજિક સ્વરૂપ
 2. પ્રકૃતિવાદ બ. આત્મિક સ્વરૂપ
 3. વ્યવહારવાદ ક. શારીરિક સ્વરૂપ
 સાચો વિકલ્પ પસંદ કરો.
 (A) 1-બ, 2-અ, 3-ક, (B) 1-અ, 2-ક, 3-બ,
 (C) 1-ક, 2-બ, 3-અ, (D) 2-બ, 2-ક, 3-અ,
- (26) “વાસ્તવના સ્વરૂપનું તાર્કિક અન્વેષણ એ તત્ત્વજ્ઞાન છે.” - આ વ્યાખ્યા કોણે આપી છે ?
 (A) ડૉ. રાધાકૃષ્ણાન્ (B) મહર્ષિ અરવિંદ
 (C) રવિન્દ્રનાથ ટાગોર (D) જે. કૃષ્ણમૂર્તિ
- (27) નીચેનામાંથી કઈ પ્રક્રિયા - સાચી રીતે આગળ વધે છે ?
 (A) તત્ત્વજ્ઞાન - શિક્ષણ ઉદ્દેશો - પાઠ્યક્રમ - અભ્યાસક્રમ
 (B) તત્ત્વજ્ઞાન - શિક્ષણ ઉદ્દેશો - અભ્યાસક્રમ - પાઠ્યક્રમ
 (C) શિક્ષણ ઉદ્દેશો - તત્ત્વજ્ઞાન - અભ્યાસક્રમ - પાઠ્યક્રમ
 (D) પાઠ્યક્રમ - અભ્યાસક્રમ - તત્ત્વજ્ઞાન - શિક્ષણ ઉદ્દેશો
- (28) “વિદ્યાર્થીમાં રહેલા સદ્અંશો, સદ્વૃત્તિઓ અને સુરુચિઓ જાગૃત કરવાનું, વિકસાવવાનું અને યોગ્ય માર્ગે વાળવાનું કામ કેળવણીનું છે ?” - આ વિચાર કોણે આપ્યો ?
 (A) વિનોબાજી (B) નાનાભાઈ ભટ્ટ
 (C) ગાંધીજી (D) શ્રી અરવિંદ
- (29) શિક્ષણની કઈ વિચારધારામાં વસ્તુ કરતાં વિચારને વધુ મહત્ત્વ આપવામાં આવે છે ?
 (A) પ્રકૃતિવાદ (B) આદર્શવાદ
 (C) વ્યવહારવાદ (D) અસ્તિત્વવાદ
- (30) વ્યવહારવાદ અનુસાર શિક્ષણ આપવાના હેતુઓ સંદર્ભે કયો હેતુ યોગ્ય નથી ?
 (A) બાળક અનુભવ મળતા જ નવા પ્રકારના જ્ઞાનનું સર્જન કરે છે.
 (B) બાળકમાં સર્જનાત્મક શક્તિનો વિકાસ કરવો જોઈએ.
 (C) બાળકનો આધ્યાત્મિક વિકાસ કરવો જોઈએ.
 (D) બાળકને સમસ્યા ઉકેલ રીતથી વાકેફ કરવો જોઈએ.

- (31) સમગ્ર જીવનની અગીયાર અવસ્થાઓ પૈકી નીચે આપેલી અવસ્થાઓને ક્રમાનુસાર ગોઠવો.
 (A) બાલ્યાવસ્થા
 (B) વૃદ્ધાવસ્થા
 (C) પ્રારંભિક પુખ્તાવસ્થા
 (D) મધ્યવય
 (E) પ્રારંભિક બાલ્યાવસ્થા
 (A) E, A, B, C, D (B) A, E, C, D, B (C) A, E, D, C, B (D) A, E, B, C, D
- (32) અધ્યાપન મનોવિજ્ઞાન
- (A) વાતાવરણની દેન છે.
 (B) વારસો અને વાતાવરણની વચ્ચેની આંતરક્રિયાનું પરિણામ છે.
 (C) વારસાનું અસરનું પરિણામ છે.
 (D) જે મનોવિજ્ઞાનના સિદ્ધાંતોના ઉપયોગ દ્વારા અધ્યયનની પ્રક્રિયાની સુધારણા માટે સિદ્ધાંતો અને નિયમો આપે છે.
- (33) અહં - આદર્શની રચના એ કઈ અવસ્થા દરમિયાન વ્યક્તિત્વ વિકાસનું લક્ષણ છે ?
 (A) તુરુણાવસ્થા (B) પ્રારંભિક બાલ્યાવસ્થા (C) ઉત્તર - બાલ્યાવસ્થા (D) વૃદ્ધાવસ્થા
- (34) સિદ્ધાંતો અને તેના જનકનાં સાચાં જોડકાં બનાવો.
 1) બહુ અવયવ સિદ્ધાંત a) ગોલમેન
 2) સાંવેગિક બુદ્ધિ સિદ્ધાંત b) સ્ટર્નબર્ગ
 3) બહુવિધબુદ્ધિ સિદ્ધાંત c) થર્સ્ટન
 4) ત્રિ-સ્વરૂપિય બુદ્ધિસિદ્ધાંત d) ગાર્ડનર
 (A) 1) c, 2) a, 3) d, 4) b (B) 1) a, 2) c, 3) b, 4) d
 (C) 1) d, 2) c, 3) b, 4) a (D) 1) a, 2) b, 3) d, 4) c
- (35) શૈક્ષણિક મનોવિજ્ઞાનનું જ્ઞાન ધરાવતા શિક્ષક...
 1) વિદ્યાર્થીની કક્ષાને અનુરૂપ અધ્યાપનની તૈયારી કરે છે.
 2) યોગ્ય ઝડપે આગળ વધે છે.
 3) શિક્ષક દ્વારા રજૂ થતું વિષયવસ્તુ વિદ્યાર્થીની ક્ષમતાને અનુરૂપ હોય છે.
 (A) (1) અને (2) સાચાં છે. (B) (2) અને (3) સાચાં છે.
 (C) (1), (2) અને (3) સાચાં છે. (D) (1) અને (3) સાચાં છે.
- (36) અધ્યયનના નિયમો (Laws of Learning) સંદર્ભે નીચે પૈકી કયો નિયમ લાગુ પડતો નથી ?
 (A) અસરનો નિયમ (B) પુનરાવર્તનનો નિયમ (C) ભૂલનો નિયમ (D) તત્પરતાનો નિયમ
- (37) કઈ અધ્યયન પદ્ધતિ દ્વારા વિદ્યાર્થીઓ 'કઈ રીતે શીખવું' તે શીખે છે ?
 (A) પ્રયત્ન અને ભૂલ (B) કારક અભિસંધાન
 (C) ઈરણ ઘટાડાનો સિદ્ધાંત (D) અન્વેષણાત્મક અધ્યયન
- (38) 'પોતાના દોષો બીજામાં જોવાનો પ્રયત્ન કરવો.' - આ કયા પ્રકારની બચાવ પ્રયુક્તિ છે ?
 (A) પ્રક્ષેપણ (B) દમન (C) સ્થગિતતા (D) પ્રાયશ્ચિત

- (39) એરિક એરિકશનના મતે વ્યક્તિત્વ પર અસર કરતાં પરિબળો પૈકી નીચેનામાંથી કયું લાગુ પડતું નથી ?
 (A) અહમ્ (B) સામાજિકતા (C) સંસ્કૃતિ (D) આનુવંશિકતા
- (40) નીચેના પૈકી કઈ બાબત શાસ્ત્રીય અભિસંધાન માટે લાગુ પડતી નથી ?
 (A) પાવલોવે કૂતરા પર પ્રયોગો કરી આ અભિસંધાનનો સિદ્ધાંત આપ્યો.
 (B) આ અભિસંધાનમાં ઉદ્દીપક હોવો જરૂરી છે.
 (C) આ અનુસંધાન R પ્રકારનું અભિસંધાન પણ કહેવાય છે.
 (D) મુખ્ય ઉદ્દીપક સાથે ગૌણ ઉદ્દીપક મૂકવામાં આવે છે.
- (41) વ્યક્તિને કોઈ વસ્તુ, અન્ય વ્યક્તિ કે પ્રવૃત્તિ પર ધ્યાન આપવા માટે પ્રેરિત કરતી શક્તિ એટલે શું ?
 (A) પ્રેરણા (B) બુદ્ધિ
 (C) રસ (અભિરુચિ) (D) અભિયોગ્યતા
- (42) અધ્યયન પ્રક્રિયાની સમજ પ્રયોગો દ્વારા આપનારમાં નીચેના પૈકી કોનો સમાવેશ થતો નથી ?
 (A) પાવલોવ (B) સ્કીનર (C) સ્ટ્રોંગ (D) થોર્નડાઈક
- (43) ગણિતમાં નિષ્ફળ જનાર વ્યક્તિ જ્યારે ચિત્રકામમાં પ્રાવીણ્ય મેળવીને સિદ્ધિ હાંસલ કરે તો તેને કઈ બચાવપ્રયુક્તિ કહેવાય ?
 (A) યૌક્તિકીકરણ (B) પ્રક્ષેપણ
 (C) ઊર્ધ્વીકરણ (D) ક્ષતિપૂર્તિ
- (44) મેદ પ્રધાન અને સ્નાયુ પ્રધાન એવા વ્યક્તિત્વના પ્રકારો કયા મનોવૈજ્ઞાનિકે રજૂ કર્યા છે ?
 (A) શેલ્ડન (B) ટર્મેન (C) યુંગ (D) કેશમર
- (45) 1927માં પાંચ વિભાગમાં તૈયાર થયેલ રસસંશોધનિકાના રચયિતા મનોવૈજ્ઞાનિક કોણ હતા ?
 (A) કુડર (B) થર્સ્ટન (C) સ્ટ્રોંગ (D) ગીલફર્ડ
- (46) ગુજરાતમાં 1960 માં યાંત્રિક અભિયોગ્યતા કસોટી કોણે પ્રમાણિત કરી હતી ?
 (A) ડૉ. કે.જી. દેસાઈ (B) ડૉ. જે. સી. પરીખ
 (C) પ્રો. ટી. પી. લેલે (D) ડૉ. આર. બી. નાયક
- (47) બેન્જમિન બ્લૂમે રજૂ કરેલ મૂલ્યાંકન ત્રિકોણમાં કઈ બાબત સમાવિષ્ટ નથી ?
 (A) સાહિત્ય નિર્માણ (B) અધ્યાપન અનુભવો
 (C) શિક્ષણના હેતુઓ (D) મૂલ્યાંકન
- (48) નીચેના પૈકી કયું ક્રિયાત્મક કસોટીનું લક્ષણ છે ?
 (A) બોલ્યા વગર જવાબ આપી શકાય નહિ.
 (B) મૂલ્યાંકન સામૂહિક રીતે હાથ ધરી શકાય.
 (C) જ્ઞાન, સમજ, ઉપયોજન અને કૌશલ્યોનું માપન થઈ શકે છે.
 (D) અનૌપચારિક રીતે હાથ ધરાય છે.
- (49) $Z = 3M - \bar{X}$ આ સૂત્ર દ્વારા શું શોધી શકાય છે ?
 (A) મધ્યક (B) વિચલન (C) મધ્યસ્થ (D) બહુલક

- (50) આંકડાશાસ્ત્રની દૃષ્ટિએ નીચેમાંથી કઈ માહિતી એ પ્રાથમિક માહિતી નથી.
 (A) સંશોધક દ્વારા સૌ પ્રથમ વખત અસલ સ્વરૂપે એકઠી કરાયેલ હોય તેવી માહિતી.
 (B) નેશનલ સેમ્પલ સર્વે ઓર્ગેનાઈઝેશન દ્વારા એકત્રિત કરાયેલ હોય તેવી ભારતની વસ્તી ગણતરીની માહિતી.
 (C) ભારતના રજિસ્ટ્રાર ઓફિસ, ન્યુ દિલ્લી દ્વારા મૃત્યુદર અને જન્મદરને લગતી પ્રકાશિત માહિતી.
 (D) ભારતની વસ્તી ગણતરીની માહતી જે U.N. Statistical Abstract માં પ્રકાશિત કરવામાં આવેલ હોય.
- (51) એક વર્ગખંડમાં નીચે મુજબની પ્રવૃત્તિઓ થતી જોવા મળે છે.
 1. શિક્ષક વિદ્યાર્થીઓ સમક્ષ સાતત્યપૂર્ણ રીતે વિવિધ ઊદાહરણો રજૂ કરે છે.
 2. શિક્ષક વિદ્યાર્થીઓને પોતાના દ્વારા રજૂ થયેલ ઊદાહરણો પરથી સામાન્ય સિદ્ધાંત તારવવાનું કહે છે.
 ઉપરોક્ત બે પ્રવૃત્તિઓને જોતા આપને શિક્ષણના કયા અભિગમનો ઉપયોગ થયેલ જોવા મળે છે.
 (A) આગમન અભિગમ (B) નિગમન અભિગમ
 (C) સમસ્યા ઊકેલ અભિગમ (D) પૂછપરછ અભિગમ
- (52) શિક્ષણમાં વિવિધ અભ્યાસક્રમો ટેકનોલોજીના માધ્યમથી વિદ્યાર્થીઓ સુધી પહોચાડવામાં ઉપયોગમાં આવતું પ્લેટફોર્મ DIKSHA એટલે ...
 (A) Digital Infrastructure for Knowledge Sharing (B) Digital Initiative for Knowledge Sharing
 (C) Digital Interactive for Knowledge Sharing (D) Digital Interface for Knowledge Sharing
- (53) ધોરણ - 11 અને ધોરણ - 12 ના NCERT આધારિત અભ્યાસક્રમ માટે SWAYAM MOOCS ના જુદાં જુદાં ઓનલાઈન કોર્સનું નિર્માણ થયેલ છે. MOOC ને નીચેનામાંથી કયા નામથી ઓળખવામાં આવે છે ?
 (A) Module open online courses (B) Massive open online courses
 (C) Mathematics open online courses (D) Management open online courses
- (54) બ્લુમ ટેક્સોનોમીના મુખ્ય ત્રણ સૂત્રોમાં નીચેનામાંથી કયા મુખ્યક્ષેત્રનો સમાવેશ થતો નથી ?
 (A) જ્ઞાનાત્મક (Cognitive) (B) ભાવાત્મક (Affective)
 (C) ક્રિયાત્મક (Psychomotor) (D) અનુભવાત્મક (Experiential)
- (55) રચનાત્મક મૂલ્યાંકનના સંદર્ભમાં નીચેનામાંથી શું સાચું નથી.
 (A) રચનાત્મક મૂલ્યાંકન એ વર્ગખંડ શિક્ષણનો એકભાગ છે.
 (B) રચનાત્મક મૂલ્યાંકન શિખવાની પ્રક્રિયા પર ભાર મૂકે છે.
 (C) રચનાત્મક મૂલ્યાંકન માટે અવલોકન, પ્રશ્નોત્તરી, વર્કસીટ, પ્રોજેક્ટ જેવી પદ્ધતિઓનો ઉપયોગ થાય છે.
 (D) રચનાત્મક મૂલ્યાંકન નિર્ધારિત પાઠ્યક્રમને ઉપયોગ કરીને ઔપચારિક રીતે કરવામાં આવે છે.
- (56) પાંચ લાકડી A, B, C, D અને S છે. A, B થી નાની પણ S થી લાંબી છે. C તેમાં સૌથી લાંબી છે. D, B થી થોડી નાની અને A થી થોડી મોટી છે. લાકડીને લંબાઈના ઉતરતા ક્રમમાં ગોઠવતાં ચોથા ક્રમે કઈ લાકડી આવશે ?
 (A) A (B) B (C) S (D) D
- (57) P, Q, R, S, T, V, W અને Z કેન્દ્ર તરફ મોં રાખીને ગોળાકાર ટેબલની આજુબાજુ બેઠા છે. દરેક ઉપરના ક્રમમાં બેઠા નથી. S, P ની જમણે ત્રીજા સ્થાને છે. P, V ની જમણે બીજા સ્થાને છે. R, V ની ડાબી બાજુ બીજા સ્થાને અને Q ની જમણે ત્રીજા સ્થાને છે. W, V ની સામે બેઠો છે. Z, T ની જમણે બીજા સ્થાને છે. તો T ની ડાબે પ્રથમ સ્થાને કોણ બેઠું છે ?
 (A) V (B) R (C) P (D) Q

(58) નીચેની આકૃતિમાં પ્રશ્નાર્થ ચિહ્નની જગ્યાએ શું આવે ?



- (A) 12 (B) 10 (C) 14 (D) 16

(59) વ્યક્તિ A પૂર્વ દિશામાં 6 મીટર ચાલે છે ત્યાંથી ઉત્તર દિશામાં 8 મીટર ચાલે છે. ત્યાંથી નૈઋત્ય દિશામાં 12 મીટર ચાલે છે તો વ્યક્તિ મૂળબિંદુથી કેટલો દૂર હશે ?

- (A) 10 મીટર (B) 2 મીટર (C) 26 મીટર (D) 4 મીટર

(60) શ્રેણી પૂર્ણ કરો.

4, 8, 9, 27, 16, 64, 25?.....

- (A) 101 (B) 98 (C) 100 (D) 125

(61) આપેલ શબ્દોને અંગ્રેજી મૂળાક્ષરોનાં ક્રમ પ્રમાણે ગોઠવો.

(1) TEACHER

(2) TRAINEE

(3) TUTION

(4) TUTORIAL

(5) TRAILER

- (A) 1, 2, 5, 3, 4 (B) 1, 5, 2, 4, 3 (C) 1, 5, 2, 3, 4 (D) 1, 2, 5, 4, 3

(62) નીચે આપેલ શ્રેણી પૂર્ણ કરો.

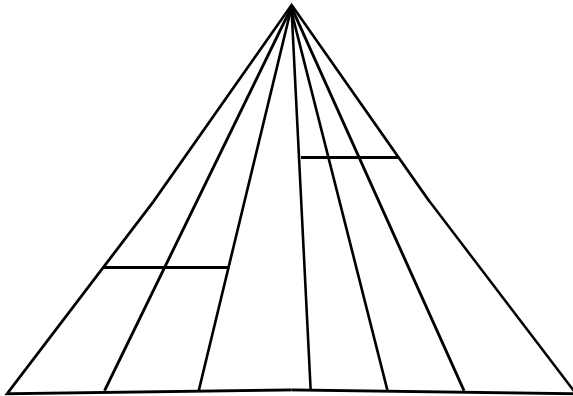
1, 2, 10, 37,?.....

- (A) 61 (B) 47 (C) 64 (D) 101

(63) આજે સોમવાર છે. 62 દિવસ પછી કયો વાર આવશે ?

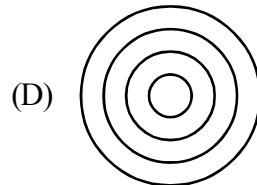
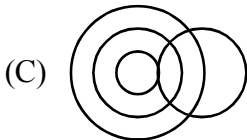
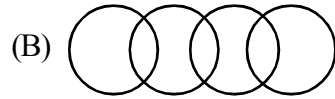

- (A) શનિવાર (B) રવિવાર (C) મંગળવાર (D) બુધવાર

(64) આકૃતિમાં કેટલા ત્રિકોણ છે ?



- (A) 21 (B) 24 (C) 27 (D) 28

- (65) એક વ્યક્તિ પૂર્વ દિશા તરફ મોં રાખીને ઊભો છે. તે 90° ના ખૂણે ઘડિયાળના કાંટાની વિરુદ્ધ દિશામાં ફરે છે. ફરી પાછો ઘડિયાળના કાંટાની દિશામાં 45° ફરે છે. ત્યાંથી પાછો ઘડિયાળના કાંટાની દિશામાં 180° ફરે છે. ત્યાર બાદ ઘડિયાળના કાંટાની વિરુદ્ધ દિશામાં 270° ફરે છે. તો હવે તે કઈ દિશામાં મોં રાખીને ઊભો હશે ?
- (A) ઉત્તર - પશ્ચિમ (B) પશ્ચિમ - દક્ષિણ
(C) દક્ષિણ - પૂર્વ (D) ઉત્તર - પૂર્વ
- (66) ફૂલ : પાંદડી
નીચેના પૈકી યોગ્ય જૂથ શોધો જે ઉપરના જૂથને રજૂ કરે.
- (A) બોલ : બેટ (B) ટાયર : સાઈકલ
(C) પેન્સીલ : નોટ (D) આખડિયો : વેલણ
- (67) રાજેશ ખૂબ મોટા મોલમાંથી કેટલીક વસ્તુ ખરીદીને તેનું પેમેન્ટ પોતાના ડેબીટ કાર્ડથી કરે છે. મોલની સામે આવેલ મેટ્રો સ્ટેશનથી તે મેટ્રો ટ્રેન પકડી પોતાના ઘરે પહોંચે છે તો રાજેશ ક્યાં રહેતો હશે ?
- (A) સુરત (B) પુરી
(C) હૈદરાબાદ (D) જોધપુર
- (68) (i) છેલ્લાં બે વર્ષથી જિલ્લાનો સાક્ષરતા દર વધે છે.
(ii) જિલ્લા પ્રસાસને છેલ્લાં કેટલાક સમયથી સાક્ષરતા ઝુંબેશ સાથે સંકળાયેલ વ્યક્તિઓની સઘન તાલીમ કરેલ છે અને તેમના કાર્યનું નિરીક્ષણ કરવામાં આવે છે.
- (A) વિધાન (i) એ કારણ છે અને વિધાન (ii) એ અસર છે.
(B) વિધાન (i) અને વિધાન (ii) એ બન્ને સ્વતંત્ર અસર છે.
(C) વિધાન (ii) કારણ છે અને વિધાન (i) એ અસર છે.
(D) વિધાન (i) અને (ii) બન્ને કારણ છે.
- (69) મહેશનું મોઢું પૂર્વદિશામાં છે તે હવે 180° કલોક વાઈઝ ફરે છે ત્યાર બાદ 90° એન્ટી કલોક વાઈઝ ફરે છે. તો હવે તેનું મોઢું કઈ દિશામાં હશે ?
- (A) પૂર્વ (B) દક્ષિણ
(C) ઉત્તર (D) પશ્ચિમ
- (70) નીચે પૈકી કયો વેન ડાયાગ્રામ વિશ્વ, એશિયા, ભારત અને ગુજરાતને દર્શાવે છે.



- (71) 'परिरंभ' शब्दનો समानार्થી शब्द શું થાય ?
 (A) તેજ (B) બનાવટ (C) આલિંગન (D) લુચ્ચું
- (72) શુદ્ધ શબ્દ કયો છે ?
 (A) મબલખ (B) શૃંગાર (C) ઔદ્યોગીકરણ (D) પ્રિયવંદા
- (73) 'એ પરીક્ષા : નિમિષ નહિ ચક્ષ, વિરજ વસ્ત્ર, ઊભા અંતરિક્ષ' - પંક્તિમાં રેખાંકિત કરેલ શબ્દ 'વિરજ'નો અર્થ શું થાય છે ?
 (A) મુલાયમ (B) રેશમી (C) રંગીન (D) સ્વચ્છ
- (74) આપેલાં વાક્યોમાં 'વિધ્યર્થ વાક્ય' કયું છે ?
 (A) ભગવાન ભજયા હોત તો ખોટું કાર્ય ન કરત. (B) આટલું મારું માનશો તો સો વર્ષ જીવશો.
 (C) પહેરજે, શર્ટ ફાડી નાખતો નહીં. (D) ભાઈ, કર્યા ભોગવવાં છે !
- (75) શબ્દ અને તેના અનેકાર્થી શબ્દોની ખોટી જોડ હોય તેવો વિકલ્પ કયો છે ?
 (A) મકરંદ - ભમરો, કોકિલ (B) કોઠો - મન, અંતઃકરણ
 (C) અર્ક - કિરણ, આકડો (D) પટ - ઢાંકણ, ગડી
- (76) 'પગ મૂકી શકાય નહીં એવું' ? - શબ્દસમૂહ માટેનો એક શબ્દ કયો છે ?
 (A) અગોચર (B) અચિંત્ય (C) અચર (D) અછડતું
- (77) પદ્ધત્તમ યોગ્ય રીતે સચવાયો હોય તેવું વાક્ય કયું છે ?
 (A) ગામમાં એક અનાજ વેચતો ફેરિયો દેખાયો.
 (B) મેં આજે ચામડાની, એક, નાનકડી બેગ ખરીદી
 (C) વ્યાયામવીરો રોજ સવારે ઝડપથી મેદાનમાં દોડતા હોય છે.
 (D) રોજ સવારે માળી બગીચામાં ઝાડને પાણી પાય છે.
- (78) નીચે આપેલાં વાક્યોમાં 'અધિકરણ વિભક્તિ'નો પ્રયોગ થયો હોય તેવું વાક્ય કયું છે ?
 (A) તે કાલે રાત્રે ગયો. (B) કૂતરી તેનાં ગલુડિયાં સાથે આવી.
 (C) ભાવનગરથી અંબાજી ઘણું દૂર છે. (D) સમીરે તેને ગુલાબ આપ્યું.
- (79) શબ્દાર્થની ખોટી જોડ હોય તેવો કયો વિકલ્પ છે ?
 (A) રબીશ - અર્થહીન (B) હિચકારું - હીન કોટિનું
 (C) અજંપો - કુદાર (D) આશલેષ - ભેટવું
- (80) ભાષાકીય રીતે શુદ્ધ વાક્ય કયું છે ?
 (A) ગોપાલભાઈ સજ્જન વ્યક્તિ છે.
 (B) વિદ્યાર્થીનું એક માત્ર લક્ષ હોય છે - ઉત્તમ અભ્યાસ.
 (C) આ ટીશર્ટની શી કિંમત છે ?
 (D) ઓફિસમાં સફાઈકામ કરતા કર્મચારીઓ એકઠા થવાના છે.
- (81) 'મંદિરની આગળ એક નાનકડો બગીચો છે.' - વાક્યમાં વપરાયેલ નામયોગી ઓળખો.
 (A) મંદિર (B) ની (C) આગળ (D) બગીચો

- (82) 'તુંબડીમાં કાંકરા હોવા' રૂઢિપ્રયોગનો અર્થ શું થાય ?
 (A) કશી જ સમજ ન પડવી (B) નુકશાનમાં વધુ નુકસાન
 (C) ભેદભાવ હોવો (D) વજૂદ વિનાનું હોવું
- (83) સંધિની કઈ જોડ ખોટી છે ?
 (A) કલા + ઊર્મિ = કલોર્મિ (B) નવ + ઓઢા = નવોઢા
 (C) અનુ + એષણા = અન્વેષણા (D) વાકૂ + આડંબર = વાગાડંબર
- (84) વિરામચિહ્નોનો ઉચિત પ્રયોગ ન થયો હોય તેવું વાક્ય કયું છે ?
 (A) એણે કહ્યું : હું ત્યાં ક્યારેય આવીશ નહીં.
 (B) મા'રાજ, આ માટે શું જોઈશે ?
 (C) બધાં જ તત્ત્વજ્ઞાન (?) સમજી શકતા હશે ?
 (D) "બોલે એનાં બોર વેચાય"
- (85) ખોટી જોડણી કયા શબ્દની છે ?
 (A) કમિશનર (B) ઉતુંગ (C) કમિટી (D) નૈર્ઝત્ય
- (86) Find the different word from following words.
 (A) retrieve (B) rescue (C) salvage (D) evade
- (87) Neither you nor your friend was sick ?
 (Put a suitable question tag choosing from the given options below.)
 (A) Wasn't he ? (B) Was he ? (C) Weren't they ? (D) Were they ?
- (88) If Mr. Shah had saved money earlier, he a new car.
 (A) bought (B) have had bought
 (C) will have bought (D) would have bought
- (89) Shruti said to Neha, "You are my best friend now." - find correct indirect speech.
 (A) Shruti told Neha the she was her best friend then.
 (B) Shruti told Neha that she was her best friend now.
 (C) Shruti told Neha that she was her best friend then.
 (D) Shruti said Neha that she is her best friend then.
- (90) The lightning has a tongue of flame. Identify the figure of speech used in the sentence.
 (A) Irony (B) Personification
 (C) Metaphor (D) Simile
- (91) Dr. Harris welcomed the members of the committee and went on the subject of the meeting.
 Put Proper verb form.
 (A) introduced (B) introducing
 (C) introduces (D) to introduce

- (92) Find out similar word for : Assault
 (A) Defence (B) Beating (C) Shooting (D) Attack
- (93) Select the correct sentence.
 (A) Unless you worked hard, you will fail.
 (B) Unless you don't work hard, you will fail.
 (C) Unless you work hard, you will fail.
 (D) Unless you will work hard, you will fail.
- (94) Intelligent he is, he could not pass that exam.
 (A) though (B) however (C) yet (D) as
- (95) Parth filled ten litres of petrol to go to Ahmedabad. Select the most appropriate option to get the underlined word as answer.
 (A) How much petrol Parth filled to go to Ahmedabad ?
 (B) How much petrol did Parth filled to go to Ahmedabad ?
 (C) How much petrol did Parth fill to go to Ahmedabad ?
 (D) How much petrol Parth fill to go to Ahmedabad ?
- (96) Let her kill the mouse. Select the correct passive sentence.
 (A) The mouse was killed by her.
 (B) Let the mouse be killed by her.
 (C) Let the mouse is killed by her.
 (D) Let her kill the mouse.
- (97) No sooner did I reach the college
 (Select correct option to complete the sentence)
 (A) when it started to rain. (B) and it started to rain.
 (C) than it started to rain. (D) after it started to rain.
- (98) Neither of your friend will come. Identify the Pronoun.
 (A) Distributive (B) Demonstrative
 (C) Indefinite (D) Reciprocal
- (99) Many times he helps those he doesn't know.
 (A) who (B) which (C) what (D) whom
- (100) If you the rumour, you
 (A) had spread, would have been arrested.
 (B) had spread, would have arrested
 (C) had spreaded, would have been arrested
 (D) had spreaded, could have arrested

- (101) The sounds produced when the vocal cords vibrate are called _____ sounds.
 (A) Glottal (B) Voiced (C) Voiceless (D) Nasal
- (102) Which one of the following is not an element of a sentence?
 (A) Complement (B) Adverbial (C) Subject (D) Adjective
- (103) _____ is the repetition of consonant sounds in a sequence of nearby words.
 (A) Alliteration (B) Hyperbole (C) Personification (D) Irony
- (104) If we had more money, we could buy a car. Here “could” shows.....
 (A) Possibility or ability in unreal conditions (B) Past ability
 (C) Present possibility (D) Present or future permission
- (105) A good teacher will have a large repertoire of activities for his/her class. Here the underlined word means.....
 (A) Knowledge (B) Space (C) Stock (D) Number
- (106) He will help you if you ask him. Here the underlined word refers to _____.
 (A) Insistence (B) Willingness (C) Intention (D) Prediction
- (107) Find out the incorrect pair.
 (A) Denmark-Danish (B) Finland-Finnish (C) Spain-Spanish (D) Sweden-Swedes
- (108) English today, like Sanskrit in the past, has become a lingua franca means a sort of _____ language.
 (A) International (B) Urban (C) Common (D) Link
- (109) No one must fool himself. Here the underlined word is used as _____ pronoun.
 (A) Reflexive (B) Possessive (C) Reciprocal (D) Relative
- (110) We speak of _____ when we are considering the prominence with which one part of a word or of a longer utterance is distinguished from other parts.
 (A) Intonation (B) Rhythm (C) Stress (D) Punctuation
- (111) Walking is the best exercise. Here the underlined word is used as _____.
 (A) Present Participle (B) Gerund (C) Past Participle (D) Predicator
- (112) I have left smoking. Replace the incorrect part by choosing an appropriate option.
 (A) lost (B) gave up (C) given up (D) lose
- (113) In ‘the journey of my life: from Earth to Everest- Arunima had been inspired by _____.
 (A) Bachendri Pal (B) Arunima’s sister
 (C) Neema Kancha (D) Arunima’s Brother in-law
- (114) In ‘Palanpur youth reinvents.....’ Pranav Mistry achieved his basic education from _____ school.
 (A) Vivekananda Vidyamandir (B) Saraswati Vidyalaya
 (C) Vividhlakshi Vidyamandir (D) Sardar Vidya Sankul
- (115) In ‘Mind, Body, Medicine’, Ayurved recognizes _____ levels of healing.
 (A) 4 (B) 2 (C) 5 (D) 3

- (128) In ‘Magnificent Mary’, Mary was a trained boxer by _____.
 (A) Dingo Singh (B) Kripal Singh (C) Narjit Singh (D) Harpal Singh
- (129) As per the text, Lajja won medals twice in _____.
 (A) International shooting competition (B) Commonwealth games
 (C) Asian games (D) I.S.S.F. world cup
- (130) Select the correct sentence.
 (A) Unless you read well, you will fail in the exam.
 (B) Unless you read well, you will not fail in the exam.
 (C) Unless you do not read well, you will fail in exam.
 (D) Unless you not read well, you will not fail in exam.
- (131) A thing or person of little value is known as _____.
 (A) Philatelist (B) Extempore (C) Despicable (D) Orthodox
- (132) The stricter you are, the worse the growth of the child is. Select the correct function of the sentence.
 (A) Comparison (B) Result (C) Contrast (D) Double comparison
- (133) Select the word nearly opposite in meaning: dwell: _____.
 (A) live (B) migrate (C) brood (D) inhabit
- (134) In ‘Unforgettable Walt Disney’ Walt’s first series was _____.
 (A) Oswald, the Rabbit (B) Mickey
 (C) Alice in Cartoon Land (D) Pinocchio
- (135) _____, I would have attended your wedding reception. Complete the sentence with correct option.
 (A) If you had sent me the invitation (B) If you sent me the invitation
 (C) If you have send me the invitation (D) If you send me the invitation
- (136) He is _____ on fulfilling his dreams.
 (A) grinned (B) hell bent (C) dissent (D) riveted
- (137) Unlike Sunil, Kohli plays fast. Select the language function of the above sentence.
 (A) expressing manner of action
 (B) comparing people
 (C) making supposition of an action
 (D) talking about person, place, thing in relation to something
- (138) In ‘Manage your stress’, which of the following processes, if doesn’t take place in your mind, induces chances of your failing the exam?
 (A) tangling of information (B) flicking of information
 (C) retrieval of information (D) drifting of information
- (139) If you become _____, you don’t stay _____.
 (A) belligerent, decent (B) wrought, abolished
 (C) freight, disparage (D) grieved, unscrupulous

- (140) In the 'Adjustment', 'He would keep quibbling with her all the time.' Select the correct option that conveys the meaning of the above sentence.
- (A) He kept on opposing her all the time.
 (B) He kept on fighting with petty issues all the time.
 (C) He kept on objecting over petty issues all the time.
 (D) He kept on worrying about her all the time.
- (141) Gandhiji was a great man _____ we respect very much. Put proper connector.
- (A) who (B) whom (C) whose (D) when
- (142) Raj said to Shyam, "Hurray! We have won the match today." Turn into indirect.
- (A) Raj told Shyam that they had won the match that day.
 (B) Raj exclaimed with joy to Shyam that they won the match that day.
 (C) Raj told Shyam that they have won the match that day.
 (D) Raj exclaimed with joy to Shyam that they had won the match that day.
- (143) Which ants are the most ferocious kind of ants in the lesson 'Ants'?
- (A) Driver Ants of Africa (B) Umbrella ants of South America
 (C) Red Ants of Europe (D) Black Ants of North America
- (144) What impact will automated fabrication have on society?
- (A) Naturally talented village craft workers will be back with a bang.
 (B) Mass production will increase.
 (C) Smaller and community-based facilities will disappear.
 (D) Factories will be centralized.
- (145) How many families lived at the height of Doom in Kangad?
- (A) 300 (B) 400 (C) 500 (D) 200
- (146) Which form of the element carbon is unstable and weakly radioactive?
- (A) Carbon 12 (B) Carbon 13 (C) Carbon 14 (D) Carbon 11
- (147) Complete the sentence: In the modern developed world, our problems are _____.
- (A) mainly physical (B) mainly psychological
 (C) mainly physiological (D) mainly mental
- (148) What did Lajja Goswami play with in her childhood?
- (A) Dolls (B) Toys (C) Guns (D) Musical instrument
- (149) What is the name of Mary Kom's autobiography?
- (A) Breakable (B) Unbreakable (C) A Champion (D) Magnificent Mary
- (150) What is the arched stone bridge compared with in the poem?
- (A) An eye (B) A mouth (C) A flag (D) Chimneys
- (151) With which profession does Pratik's IQ match?
- (A) A teacher (B) An artist (C) A scientist (D) A doctor

- (152) Savi said to Sneha, "Let's visit Kedarnath during this vacation." Find the correct sentence converted into indirect speech.
- (A) Savi suggested to visiting Kedarnath during that vacation.
 (B) Savi suggested that they should visit Kedarnath during that vacation.
 (C) Savi told to visiting Kedarnath during this vacation.
 (D) Savi suggests visit Kedarnath during that vacation.
- (153) Unless you attend the classes regularly _____. [Complete it selecting the sentence showing condition.]
- (A) you would not understand the topic. (B) you shall understand the topic.
 (C) you will not understand the topic. (D) you will now understand the topic.
- (154) Select the most appropriate response.
 Pratyush: Why did you lift the box?
 Sweety: _____ (Showing reason-result.)
- (A) The box is too heavy for me to lift. (B) The box was too heavy for I to lift.
 (C) The box is heavy enough for me to lift. (D) The box was heavy enough for me to lift.
- (155) Say true (T) or false (F). Select the correct answer.
- Be heroes in an army of construction.
 - The family was frightened by Morri's depiction of India.
 - Delete the phrase I can from your vocabulary.
- (A) 1-F, 2-T, 3-F (B) 1-T, 2-F, 3-F (C) 1-F, 2-F, 3-T (D) 1-T, 2-T, 3-F
- (156) When should one take the print out from the printer?
- (A) when it is absolutely inevitable. (B) whenever we want.
 (C) whenever unnecessarily (D) whenever we want to do proof reading.
- (157) What is headache?
- (A) A curse conferred on mankind (B) A great embarrassment
 (C) Very unfair, undesirable thing (D) An excuse, an elegant falsehood.
- (158) What amount of money did gentleman from Maw and Meggins handover to Mrs. White?
- (A) 200 pounds (B) 100 pounds (C) 250 pounds (D) 150 pounds
- (159) From which countries did Helen Keller read papers and magazines?
- (A) England, France, Austria, Greenland (B) England, France, Austria, Greece
 (C) England, France, Germany, Austria (D) England, France, Germany, Argentina
- (160) What does the poet read in the lines of foreign men's hands?
- (A) A labour different from our own (B) A labour not like our own
 (C) A labour deprived with (D) A labour not different from our own.
- (161) What does the old man do sitting on the stony bank of the river?
- (A) Swims humming a song (B) Weaving a yard of rainbow
 (C) Weaving a cloth of nature (D) Weaving a yarn of rainbow

(162) What is Dr. K.D. Kamble?
(A) A psychiatrist (B) A physician (C) A naturopath (D) A neurologist

(163) What was Walt Disney to the bankers who financed him?
(A) A complex man (B) A warm, kindly personality
(C) A Wildman hell-bent for bankruptcy (D) A genius

(164) Match the words with their meanings

A	B
(a) Defile	1) eternal
(b) Everlasting	2) calmness
(c) Orchard	3) spoil
(d) Tranquility	4) plantation

(A) a-3, b-1, c-4, d-2 (B) a-1, b-3, c-2, d-4
(C) a-3, b-2, c-4, d-1 (D) a-2, b-4, c-1, d-3

(165) Tick mark true (T) or false (F)

(a) Tele touch lets you interact with world with touch from a distance.
(b) Conversation of forest is not our moral duty.
(c) Surya Namaskar is an ancient form of yoga.
(A) a-T, b-T, c-T (B) a-T, b-T, c-F (C) a-F, b-T, c-T (D) a-T, b-F, C-T

(166) Select the most appropriate question to get the underlined word/phrase as answer:-

Coffee will be served in a few minutes?
(A) When will coffee be served? (B) How will coffee be served?
(C) Why will coffee be served? (D) When would coffee be served?

(167) Fill in the blanks with appropriate words :-

The ants began _____ the small bits of these _____ up to their _____.
(A) fetch, insects, hill (B) bringing, animals, anthills
(C) fetching, insects, anthills (D) brought, birds, anthill

(168) When do red ants ambush the nest of the black ants?

(A) when they want slaves (B) when they want honey like liquid
(C) when they want to do farming (D) when they want greenflies

(169) Complete the sentence.

If he had invited me, _____ (showing condition)
(A) I would have attend the party. (B) I shall have attended the party.
(C) I will have attended the party. (D) I would have attended the party.

(170) Complete the sentence.

Beautiful as Kinjal was _____. (Showing contrast)
(A) She can win the beauty contest. (B) She could not win the beauty contest.
(C) She could won the beauty contest. (D) She could not wins the beauty contest.

(171) Select the most appropriate response.

Hitarth: Why do you eat banana?

Shivani: _____ . (Showing comparison)

- (A) Banana is one of the list delicious fruits. (B) Banana is one of the most delicious fruits.
(C) Banana will one of the most delicious fruits. (D) Banana is the delicious fruits.

(172) Select the most appropriate question to get the underlined word as answer:-

Monali speaks English fluently.

- (A) Which language did Monali speak fluently? (B) Which language do Monali speak fluently?
(C) Which language does Monali speak fluently? (D) What did Monali speak?

(173) Find the nearest meaning of the word:- brittle.

- (A) soft and fragile (B) hard but easily breakable
(C) resilient (D) flexible

(174) Find the correct answer:-

What was cooked by Shruti in the morning? (doer is important)

- (A) What does Shruti cook in the morning? (B) What do Shruti cook in the morning?
(C) What will Shruti cook in the morning? (D) What did Shruti cook in the morning?

(175) Do as directed:-

My friend is a good girl. She gets up early in the morning. She washes clothes everyday. Start like this:-

My friends are _____ .

- (A) My friends are good girls. They get up early in the morning. They wash clothes.
(B) My friends are good girl. They gets up early in the morning. They washes clothes.
(C) My friends are good girl. Them gets up early in the morning. Them wash clothes.
(D) My friends are good girls. They gets up early in the morning. They washing clothes.

(176) Select the most appropriate response.

Anjali: How does Shesha walk? (showing supposition)

- (A) Shesha walks like an actress. (B) Shesha walks as an actress does.
(C) Shesha has walks as if she was an actress. (D) Shesha walks as if she were an actress.

(177) Tick mark the appropriate option:-

In the poem 'Shaper Shaped', the poet wishes to surrender to God because _____ .

- (A) He wants to acquire emeralds and pearls.
(B) He has learnt the truth of mortality of living being.
(C) He wants to win hundred battles.
(D) He wishes to impress others.

(178) Turn into indirect speech:-

"What a beautiful piece of work!" said Prabhu

- (A) Prabhu exclaimed with praise that what a beautiful piece of work.
(B) Prabhu exclaimed with praise that it was indeed a beautiful piece of work.
(C) Prabhu asked what a piece of work.
(D) Prabhu exclaimed with joy that it is indeed a beautiful piece of work.

- (179) Complete the sentence:
The teacher came to my house _____.
- (A) so to meet my father. (B) with a view to meet my father.
(C) in order that to meet my father. (D) so that he could meet my father.
- (180) Identify the function:
However well Tejal performed, she did not get prize.
- (A) Contrasting (B) Showing preference
(C) Showing purpose (D) Showing result
- (181) In which classroom learning activity classroom can become chaotic if work distribution is not planned and students remain confused, thus demand attention?
- (A) Individual learning activities (B) Role playing
(C) Text based activities (D) Peer or group activities
- (182) Which techniques can be combined in Realia for both the presentation phase and the practice phase of the lesson?
- (A) vocabulary and grammar activities (B) puppets and name the object activities
(C) story telling and role play (D) correction and feedback activities
- (183) Which teaching resource developed by Shaw and Tylor in 1978 and referred these aids as “non pictorial visuals”.
- (A) graphics (B) movies and dramas
(C) roll up board (D) digital projects
- (184) Fill in the blank with appropriate word.
_____ are versatile and useful resources for teaching aspects of grammar that require structural meaning match.
- (A) Comparison (B) Graphs (C) Puppets (D) Pictures
- (185) Fill in the blank with appropriate word.
A way of dealing with something, a way of doing or thinking about something is considered as _____.
- (A) an exercise (B) techniques (C) methods (D) approaches
- (186) Which method came into existence as a reaction and opposition to the Grammar-Translation Method?
- (A) Grammar Transparent Method (B) Interactive Method
(C) Direct Method (D) Constructivist Method
- (187) Which kind of reading is mainly meant for comprehension?
- (A) Silent reading (B) Loud reading (C) Drill reading (D) Soft reading
- (188) Fill in the blank with appropriate word.
_____ means any one of the smallest units of speech and language that distinguishes one word from another.
- (A) Phonetics (B) Phoneme (C) Word (D) Morphemes

- (189) _____ involves glancing rapidly through the text to find out some specific piece of information.
 (A) Skimming (B) Scanning
 (C) Extensive reading (D) Intensive reading
- (190) 'The students sell the words correctly' ... is one of the specific objectives of _____ skill.
 (A) Listening (B) Speaking (C) Reading (D) Writing
- (191) _____ is concerned with what happens in the actual class room.
 (A) Approach (B) Procedure (C) Method (D) Technique
- (192) Sometimes, because of the loss of vision, a child is not able to read and interpret a text. In such situation a child may be helped by _____.
 (A) placing him/her near the board
 (B) giving instructions sitting around an ease/ where words are written in large font-sizes
 (C) providing a large-point written materials
 (D) All of the above
- (193) A/An _____ test is given to assess a student's ability to communicate in future actual situations.
 (A) Aptitude (B) Achievement (C) Proficiency (D) Diagnostic
- (194) _____ language learning and teaching from form based to meaning based is known as _____ approach.
 (A) situational (B) structural (C) direct (D) communicative
- (195) The use of _____ in an ESL classroom enables students to explore the linguistic and conceptual aspects of the written text without concentrating on the mechanics of language.
 (A) Prose (B) Poetry (C) Vocabulary (D) Grammar
- (196) _____ refers to the correspondence of two or more words with similar sounding final syllables placed so as to echo one another.
 (A) Rhyme (B) Simile (C) Pun (D) Metaphor
- (197) _____ is concerned with relevance that is, whether the test actually tests what it aimed to test or not.
 (A) Reliability (B) Practicality (C) Validity (D) Objectivity
- (198) _____ deals with reproduction of sounds.
 (A) syntactic (B) semantic (C) phonic (D) morphic
- (199) Which is not a role of the teacher?
 (A) Diagnostician (B) Facilitator (C) Physician (D) Planner
- (200) Which plan is broader in nature and considered for the whole textbooks and the course curriculum in hand for the duration of whole academic year.
 (A) Monthly plan (B) Unit plan (C) Lesson plan (D) Yearly plan



રફ કામ માટેનું પેઈજ

રફ કામ માટેનું પેઈજ

પરીક્ષા પૂરી થયા બાદ ઉત્તરપત્ર (OMR SHEET) ખંડ નિરીક્ષકને ખુલ્લું (કવરમાં મુક્યા વગર) પરત કર્યા બાદ જ પરીક્ષા ખંડ છોડવાનો રહેશે. તેમ કરવામાં કસૂર થયેથી શિસ્તભંગના પગલાં ગણી પરીક્ષા માટે જે તે ઉમેદવારને ગેરલાયક ઠેરવવામાં આવશે.