

**COMMERCE**  
(Gujarati Medium)

કેટેગરી

**A**

પરીક્ષાર્થીનો બેઠક ક્રમાંક

--	--	--	--	--	--	--	--	--	--

પરીક્ષાનો બ્લોક નંબર

--

પરીક્ષાર્થીની સહી

--

બ્લોક સુપરવાઈઝરની સહી

--

પરીક્ષાર્થીઓ માટે અગત્યની સૂચનાઓ	
(1)	તમને કહેવામાં ન આવે ત્યાં સુધી પ્રશ્ન પુસ્તિકા ખોલવી નહીં
(2)	પરીક્ષા દરમ્યાન પરીક્ષાર્થી પાસેથી કોઈ પણ સાહિત્ય ગાઈડ, માર્ગદર્શિકા, કાપલી, સ્લીપો, અન્ય હસ્ત લિખિત કે પ્રિન્ટેડ સાહિત્ય, મોબાઈલ ફોન, કેલક્યુલેટર, સ્પાય કેમરા, હેડ ફોન કે અન્ય વીજાણું ઉપકરણો હોવાનું જણાશે તો પરીક્ષાર્થીને ગેરલાયક ગણવામાં આવશે.
(3)	ચાલુ પરીક્ષા દરમ્યાન અંદરોઅંદર વાતચીત કરવી, અવાજ કરવો કે સુપરવાઈઝરની સૂચનાઓનું ઉલ્લંઘન કરવું તે ગેરશિસ્ત ગણાશે.
(4)	પ્રશ્નપત્ર મળે કે તરત જ ઉત્તરપત્ર (OMR SHEET) માં નિયત કરેલ જગ્યાએ પોતાનો બેઠક નંબર સ્વચ્છ અક્ષરે લખવો.
(5)	ઉત્તરપત્ર (OMR SHEET) માં નિશ્ચિત જગ્યા સિવાય પરીક્ષાર્થીએ પોતાનો બેઠક ક્રમાંક લખવો નહીં તથા પોતાની આગવી ઓળખ છતી થાય તેવી નામ સહિતની અન્ય કોઈ પણ પ્રકારની નિશાની કરવાની સખ્ત મનાઈ છે. તેમ છતાં પણ કોઈ પણ નિશાની કે ઓળખ માલૂમ પડશે તો તેને સંપૂર્ણ ગેરશિસ્ત ગણવામાં આવશે અને પરીક્ષા માટે ગેરલાયક ગણવામાં આવશે.
(6)	ઉત્તરપત્ર (OMR SHEET) ના પ્રમાણપત્રમાં પરીક્ષાર્થી તથા સુપરવાઈઝર બંનેની સહી ફરજિયાત છે. બંનેની સહી વિનાના ઉત્તરપત્ર (OMR SHEET) નું મુલ્યાંકન થશે નહીં. જેથી ઉમેદવારે સુપરવાઈઝરશ્રીની સહી અવશ્ય મેળવી લેવી.
(7)	પરીક્ષાર્થીએ બ્લ્યુ/બ્લેક બોલપોઈન્ટ પેનનો ઉપયોગ કરી શકાશે. અન્ય શાહી કે પેન કે પેન્સિલ તથા સફેદ શાહીનો ઉપયોગ કરી શકશે નહીં.
(8)	પ્રશ્નપત્રમાં આપેલ વિકલ્પોમાં કોઈપણ પ્રકારની નિશાની કરવી નહીં.
(9)	આ કસોટી પત્રમાં કુલ -200 પ્રશ્નો છે. પ્રત્યેક પ્રશ્નનો ઉત્તર A, B, C અને D પૈકી કોઈ એક છે. દરેક પ્રશ્ન માટે ચાર વિકલ્પો આપવામાં આવેલ છે. તમારે બધા જ પ્રશ્નોના ઉત્તર આપવાના છે. ઉદાહરણ તરીકે : ગુજરાતનું પાટનગર કયું છે ? (A) અમદાવાદ (B) ગાંધીનગર (C) વડનગર (D) પાટણ અહીં જવાબ (B) ગાંધીનગર જવાબ સાચો હોય, OMR SHEET માં વિકલ્પ (B) નું વર્તુળ ઘૂંટવાનું (Encode) કરવાનું થાય. A ● C D
(10)	પ્રત્યેક સાચા જવાબદીઠ 1 (એક) ગુણ મળવાપત્ર થશે. પ્રત્યેક ખોટા ઉત્તર માટે 0.25 ગુણ કપાશે (નેગેટીવ 0.25) જો ઉમેદવાર કોઈ પ્રશ્નનો ઉત્તર આપવા માંગતા ન હોય તો વિકલ્પ E પસંદ કરવાનો રહેશે. વિકલ્પ E માટે નેગેટીવ ગુણ રહેશે નહીં.
(11)	છેકછાકવાળા જવાબ તથા એકથી વધારે વિકલ્પમાં આપેલ જવાબ તથા બ્લેડ કે રબ્બર કે વાઈટનર (સફેદ શાહી) નો ઉપયોગ કરી બદલાવેલ જવાબ માટે 0.25 નેગેટીવ ગુણ મળશે.
(12)	પરીક્ષા પૂરી થયા બાદ ઉત્તરપત્ર (OMR SHEET) બ્લોક સુપરવાઈઝરને પરત કર્યા બાદ વર્ગખંડ છોડવાનો રહેશે. તેમ કરવામાં કસૂર થયેથી શિસ્ત ભંગના પગલાં ગણી પરીક્ષા માટે જે તે ઉમેદવારને ગેરલાયક ઠેરવવામાં આવશે.
(13)	આ પરીક્ષાનો સમય 180 મિનિટનો છે.
(14)	સૌથી યોગ્ય વિકલ્પ જવાબ તરીકે ધ્યાને લેવાશે.

રફ કામ માટેનું પેઈજ

- (1) 'સંવિધાનને વફાદાર રહેવાની અને તેના આદર્શો અને સંસ્થાઓના રાષ્ટ્રધ્વજનો અને રાષ્ટ્રગીતનો આદર કરવાની જોગવાઈ ભારતના સંવિધાનની કઈ કલમમાં દર્શાવવામાં આવી છે ?'
- (A) 51. ક (ક) (B) 51. ક (છ) (C) 51. ક (ડ) (D) 51. ક (ગ)
- (2) ભારતીય સંવિધાનના ભાગ-4માં 'રાજનીતિના માર્ગદર્શક સિદ્ધાંતો' ની જોગવાઈ કઈ કલમથી ક્યાં સુધીની કલમમાં કરવામાં આવેલ છે ?
- (A) 36 થી 45 (B) 35 થી 48 (C) 34 થી 50 (D) 36 થી 51
- (3) દરિયાના જળનું ઘનત્વ (Density) વધતું જાય છે, તેમ તેમ.....
- (A) ઉંડાણ અને ખારાશ ઘટે છે. (B) ઉંડાણ વધે છે અને ખારાશ ઘટે છે.  
(C) ઉંડાણ ઘટે છે અને ખારાશ વધે છે. (D) ઉંડાણ અને ખારાશ વધે છે.
- (4) ભારતની પ્રાચીનતમ ક્રુટબોલ ટૂર્નામેન્ટ કઈ છે ?
- (A) સંતોષ ટ્રાફી (B) ટૂરંડ કપ  
(C) રોવર્સ કપ (D) આઈ. એફ. એ. શીલ્ડ
- (5) હડપ્પા સંસ્કૃતિના પ્રમુખ સ્થળ 'લોથલ'ની શોધ કોણે કરી હતી ?
- (A) વી. ડી. શર્મા (B) યજ્ઞદત્ત શર્મા  
(C) એસ. આર. રાવ (D) પ્રો. સુરજભાન
- (6) વધારે મેહસુલ પ્રાપ્તિ માટે કરવેરા ઉઘરાવવાના સંદર્ભમાં વિકાસના હેતુથી કયા કાળને પ્રમુખ માનવામાં આવે છે ?
- (A) મોર્યકાળ (B) ઉત્તર વૈદિકકાળ  
(C) ગુપ્તકાળ (D) છઠ્ઠી શતાબ્દિ ઈસ્વી. પૂર્વ
- (7) પ્રાથમિક શિક્ષણમાં પ્રવેશ માટે લંબાવેલી મુદત, શાળાના શૈક્ષણિક વર્ષ શરૂ થયાથી કેટલા મહિના સુધીની રહેશે ?
- (A) 5 મહિના (B) 3 મહિના (C) 9 મહિના (D) 6 મહિના
- (8) રાષ્ટ્રીય શિક્ષણનીતિ-2020 માં સામાજિક અને આર્થિક રીતે પછાત વિસ્તારો માટે વિદ્યાર્થીઓ અને શિક્ષકનો રેશિયો કેટલો નિર્ધારિત કરેલ છે ?
- (A) 30:1 (B) 35:1 (C) 25:1 (D) 20:1
- (9) રાષ્ટ્રીય શિક્ષણનીતિ-2020માં નેશનલ ક્યુરીક્યુલમ ફેમવર્કને કેટલા વર્ષમાં રીવાઈઝ્ડ અને અદ્યતન રાખવાની ભલામણ કરવામાં આવેલ છે ?
- (A) પાંચ વર્ષ (B) ત્રણ વર્ષ (C) આઠ વર્ષ (D) પ્રતિવર્ષ
- (10) 'જ્યાં સુધી માતૃભાષા (ગુજરાતી)ને હું ઉચ્ચ સ્થાન પર નહીં મૂકું ત્યાં સુધી હું પાઘડી નહીં બાંધું' એવું કોણે કહ્યું હતું ?
- (A) કવિ પ્રેમાનંદ (B) કવિ નર્મદ (C) કવિ કલાપી (D) કવિ સુન્દરમ્
- (11) 'વિશ્વ વસતી દિન' ક્યારે ઉજવવામાં આવે છે ?
- (A) 11 ઓગસ્ટ (B) 11 ઓક્ટોબર (C) 11 જૂન (D) 11 જુલાઈ
- (12) આગામી ઓલીમ્પીક કઈ જગ્યાએ યોજનાર છે ?
- (A) જાપાન (ટોક્યો) (B) ચીન (શાંઘાઈ)  
(C) ફ્રાન્સ (પેરીસ) (D) ઈંગ્લેન્ડ (લંડન)

- (13) નવી ખાનગી માધ્યમિક શાળાની મંજૂરી કોણ આપે છે ?  
 (A) જિલ્લાશિક્ષણાધિકારી (B) નિયામક, શાળાઓની કચેરી  
 (C) શિક્ષણ સચિવ - શિક્ષણ વિભાગ (D) ગુજરાત માધ્યમિક અને ઉ.મા. શિક્ષણ બોર્ડ
- (14) 'મારે ટોડલે બેઠો રે મોર' ગીતને કોણે ચિરસ્મરણીય કર્યું ?  
 (A) દમયંતી બરડાઈ (B) મીનાબેન પટેલ  
 (C) દિવાળીબેન ભીલ (D) ગીતાબેન રબારી
- (15) ભારતનું કયું નગર 'સિલિકોન વેલી' તરીકે જાણીતું બન્યું છે ?  
 (A) દિલ્લી (B) મુંબઈ (C) કલકત્તા (D) બેંગલુરુ
- (16) હાલમાં ગુજરાતમાં વર્લ્ડ બેંકના વડા તેમજ અમેરિકાના ટ્રેઝરી સેક્રેટરીએ નીચે પૈકી કઈ શૈક્ષણિક સંસ્થાની મુલાકાત લીધી હતી ?  
 (A) જી.સી.ઈ.આર.ટી. (B) વિદ્યા સમીક્ષા કેન્દ્ર  
 (C) ગુજરાત યુનિવર્સિટી (D) આયુર્વેદ યુનિવર્સિટી
- (17) દૂરવર્તી શિક્ષણમાં અભ્યાસ કેવી રીતે થઈ શકે ?  
 (A) કોલેજ ગ્રંથાલયમાં છપાયેલી અધ્યયન સામગ્રી દ્વારા  
 (B) જ્યાં રહેતા હોય ત્યાં માધ્યમો દ્વારા તથા છપાયેલી અધ્યયન સામગ્રી દ્વારા  
 (C) કોલેજમાં અધ્યયનની વિવિધ પદ્ધતિઓ દ્વારા  
 (D) કોલેજમાં હાજરી આપ્યા સિવાય સ્વપ્રયત્નો દ્વારા
- (18) 'શિક્ષણમાં સંપૂર્ણ ગુણવત્તા વ્યવસ્થાપન' પુસ્તકના લેખક કોણ છે ?  
 (A) પ્રો. યશપાલ (B) ડૉ. ગુણવંત શાહ  
 (C) પ્રો. મર્મર મુખોપાધ્યાય (D) ડૉ. ભદ્રાયુ વચ્છરાજાની
- (19) કેન્દ્ર સરકાર દ્વારા શરૂ કરવામાં આવેલી 'વિદ્યાંજલિ' યોજના શાના માટે છે ?  
 (A) વાંચન વિકસાવવા માટેની યોજના  
 (B) શાળા પુસ્તકાલય સમૃદ્ધ બનાવવા પુસ્તક દાન માટેની યોજના  
 (C) શાળાની વિવિધ શૈક્ષણિક પ્રક્રિયામાં રસ ધરાવતાં સમાજના વ્યક્તિઓ માટે શિક્ષણ દાન માટેની યોજના  
 (D) નબળા બાળકોને દત્તક લઈ સઘન શિક્ષણ આપવાની યોજના
- (20) 21 મી સદીના પડકારોને પહોંચી વળવા માટે ડેલોર્સ રિપોર્ટ Learning The Treasure within માં શિક્ષણના કયા બે સ્તંભનો ઉલ્લેખ કર્યો છે ?  
 (i) ટકાઉ વિકાસ પ્રાપ્ત કરતાં શીખવું.  
 (ii) શાંતિપૂર્ણ સહઅસ્તિત્વ સિદ્ધ કરતાં શીખવું.  
 (iii) શીખતાં શીખવું  
 (iv) સહજીવન શીખવું  
 (A) i, ii (B) i, iii (C) iii, iv (D) ii, iii
- (21) કયું લક્ષણ અવૈધિક શિક્ષણનું છે ?  
 (A) પરીક્ષા અને સર્ટિફિકેટનું મહત્ત્વ (B) શીખવનારની ઉચ્ચ લાયકાત  
 (C) બાળકમાં જીવન-કૌશલ્યોનો વિકાસ કરવાનો ઉદ્દેશ (D) સાક્ષરતા કરતાં આજીવિકાલક્ષી શિક્ષણ પર ભાર

- (22) વર્ગ-શિક્ષણ દરમિયાન આદર્શવાદી શિક્ષક નીચેના પૈકી કઈ પદ્ધતિનો ઉપયોગ નહીં કરે ?  
 (A) આગમન (B) ચર્ચા-સંવાદ (C) પ્રશ્નોત્તરી (D) પ્રવચન
- (23) ગાંધીજીએ આપેલી શિક્ષણની વ્યાખ્યામાં શિક્ષણનું કયું ધ્યેય પ્રગટ થાય છે ?  
 (A) વ્યક્તિલક્ષી (B) સામાજિક (C) વિશિષ્ટ (D) આધ્યાત્મિક
- (24) “બાળક એ કંઈ પ્રૌઢની લઘુ આવૃત્તિ નથી.” - આ ગૃહીત/ધારણા કોણે રજૂ કરી ?  
 (A) ડ્યૂઈ (B) રૂસો (C) પ્લેટો (D) સોક્રેટીસ
- (25) શિક્ષણના ત્રણ ‘વાદ’ અને તેમાં સ્વીકૃત થયેલા વિદ્યાર્થીના સ્વરૂપ અંગેના ખ્યાલોને યોગ્ય રીતે જોડો :  
 1. આદર્શવાદ અ. સામાજિક સ્વરૂપ  
 2. પ્રકૃતિવાદ બ. આત્મિક સ્વરૂપ  
 3. વ્યવહારવાદ ક. શારીરિક સ્વરૂપ  
 સાચો વિકલ્પ પસંદ કરો.  
 (A) 1-બ, 2-અ, 3-ક, (B) 1-અ, 2-ક, 3-બ,  
 (C) 1-ક, 2-બ, 3-અ, (D) 2-બ, 2-ક, 3-અ,
- (26) “વાસ્તવના સ્વરૂપનું તાર્કિક અન્વેષણ એ તત્ત્વજ્ઞાન છે.” - આ વ્યાખ્યા કોણે આપી છે ?  
 (A) ડૉ. રાધાકૃષ્ણાન્ (B) મહર્ષિ અરવિંદ  
 (C) રવિન્દ્રનાથ ટાગોર (D) જે. કૃષ્ણમૂર્તિ
- (27) નીચેનામાંથી કઈ પ્રક્રિયા - સાચી રીતે આગળ વધે છે ?  
 (A) તત્ત્વજ્ઞાન - શિક્ષણ ઉદ્દેશો - પાઠ્યક્રમ - અભ્યાસક્રમ  
 (B) તત્ત્વજ્ઞાન - શિક્ષણ ઉદ્દેશો - અભ્યાસક્રમ - પાઠ્યક્રમ  
 (C) શિક્ષણ ઉદ્દેશો - તત્ત્વજ્ઞાન - અભ્યાસક્રમ - પાઠ્યક્રમ  
 (D) પાઠ્યક્રમ - અભ્યાસક્રમ - તત્ત્વજ્ઞાન - શિક્ષણ ઉદ્દેશો
- (28) “વિદ્યાર્થીમાં રહેલા સદ્અંશો, સદ્વૃત્તિઓ અને સુરુચિઓ જાગૃત કરવાનું, વિકસાવવાનું અને યોગ્ય માર્ગે વાળવાનું કામ કેળવણીનું છે ?” - આ વિચાર કોણે આપ્યો ?  
 (A) વિનોબાજી (B) નાનાભાઈ ભટ્ટ  
 (C) ગાંધીજી (D) શ્રી અરવિંદ
- (29) શિક્ષણની કઈ વિચારધારામાં વસ્તુ કરતાં વિચારને વધુ મહત્ત્વ આપવામાં આવે છે ?  
 (A) પ્રકૃતિવાદ (B) આદર્શવાદ  
 (C) વ્યવહારવાદ (D) અસ્તિત્વવાદ
- (30) વ્યવહારવાદ અનુસાર શિક્ષણ આપવાના હેતુઓ સંદર્ભે કયો હેતુ યોગ્ય નથી ?  
 (A) બાળક અનુભવ મળતા જ નવા પ્રકારના જ્ઞાનનું સર્જન કરે છે.  
 (B) બાળકમાં સર્જનાત્મક શક્તિનો વિકાસ કરવો જોઈએ.  
 (C) બાળકનો આધ્યાત્મિક વિકાસ કરવો જોઈએ.  
 (D) બાળકને સમસ્યા ઉકેલ રીતથી વાકેફ કરવો જોઈએ.

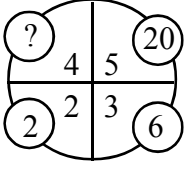
- (31) સમગ્ર જીવનની અગીયાર અવસ્થાઓ પૈકી નીચે આપેલી અવસ્થાઓને ક્રમાનુસાર ગોઠવો.  
 (A) બાલ્યાવસ્થા  
 (B) વૃદ્ધાવસ્થા  
 (C) પ્રારંભિક પુખ્તાવસ્થા  
 (D) મધ્યવય  
 (E) પ્રારંભિક બાલ્યાવસ્થા  
 (A) E, A, B, C, D (B) A, E, C, D, B (C) A, E, D, C, B (D) A, E, B, C, D
- (32) અધ્યાપન મનોવિજ્ઞાન .....
- (A) વાતાવરણની દેન છે.  
 (B) વારસો અને વાતાવરણની વચ્ચેની આંતરક્રિયાનું પરિણામ છે.  
 (C) વારસાનું અસરનું પરિણામ છે.  
 (D) જે મનોવિજ્ઞાનના સિદ્ધાંતોના ઉપયોગ દ્વારા અધ્યયનની પ્રક્રિયાની સુધારણા માટે સિદ્ધાંતો અને નિયમો આપે છે.
- (33) અહં - આદર્શની રચના એ કઈ અવસ્થા દરમિયાન વ્યક્તિત્વ વિકાસનું લક્ષણ છે ?  
 (A) તુરુણાવસ્થા (B) પ્રારંભિક બાલ્યાવસ્થા (C) ઉત્તર - બાલ્યાવસ્થા (D) વૃદ્ધાવસ્થા
- (34) સિદ્ધાંતો અને તેના જનકનાં સાચાં જોડકાં બનાવો.  
 1) બહુ અવયવ સિદ્ધાંત a) ગોલમેન  
 2) સાંવેગિક બુદ્ધિ સિદ્ધાંત b) સ્ટર્નબર્ગ  
 3) બહુવિધબુદ્ધિ સિદ્ધાંત c) થર્સ્ટન  
 4) ત્રિ-સ્વરૂપિય બુદ્ધિસિદ્ધાંત d) ગાર્ડનર  
 (A) 1) c, 2) a, 3) d, 4) b (B) 1) a, 2) c, 3) b, 4) d  
 (C) 1) d, 2) c, 3) b, 4) a (D) 1) a, 2) b, 3) d, 4) c
- (35) શૈક્ષણિક મનોવિજ્ઞાનનું જ્ઞાન ધરાવતા શિક્ષક...  
 1) વિદ્યાર્થીની કક્ષાને અનુરૂપ અધ્યાપનની તૈયારી કરે છે.  
 2) યોગ્ય ઝડપે આગળ વધે છે.  
 3) શિક્ષક દ્વારા રજૂ થતું વિષયવસ્તુ વિદ્યાર્થીની ક્ષમતાને અનુરૂપ હોય છે.  
 (A) (1) અને (2) સાચાં છે. (B) (2) અને (3) સાચાં છે.  
 (C) (1), (2) અને (3) સાચાં છે. (D) (1) અને (3) સાચાં છે.
- (36) અધ્યયનના નિયમો (Laws of Learning) સંદર્ભે નીચે પૈકી કયો નિયમ લાગુ પડતો નથી ?  
 (A) અસરનો નિયમ (B) પુનરાવર્તનનો નિયમ (C) ભૂલનો નિયમ (D) તત્પરતાનો નિયમ
- (37) કઈ અધ્યયન પદ્ધતિ દ્વારા વિદ્યાર્થીઓ 'કઈ રીતે શીખવું' તે શીખે છે ?  
 (A) પ્રયત્ન અને ભૂલ (B) કારક અભિસંધાન  
 (C) ઈરણ ઘટાડાનો સિદ્ધાંત (D) અન્વેષણાત્મક અધ્યયન
- (38) 'પોતાના દોષો બીજામાં જોવાનો પ્રયત્ન કરવો.' - આ કયા પ્રકારની બચાવ પ્રયુક્તિ છે ?  
 (A) પ્રક્ષેપણ (B) દમન (C) સ્થગિતતા (D) પ્રાયશ્ચિત

- (39) એરિક એરિકશનના મતે વ્યક્તિત્વ પર અસર કરતાં પરિબળો પૈકી નીચેનામાંથી કયું લાગુ પડતું નથી ?  
 (A) અહમ્ (B) સામાજિકતા (C) સંસ્કૃતિ (D) આનુવંશિકતા
- (40) નીચેના પૈકી કઈ બાબત શાસ્ત્રીય અભિસંધાન માટે લાગુ પડતી નથી ?  
 (A) પાવલોવે કૂતરા પર પ્રયોગો કરી આ અભિસંધાનનો સિદ્ધાંત આપ્યો.  
 (B) આ અભિસંધાનમાં ઉદ્દીપક હોવો જરૂરી છે.  
 (C) આ અનુસંધાન R પ્રકારનું અભિસંધાન પણ કહેવાય છે.  
 (D) મુખ્ય ઉદ્દીપક સાથે ગૌણ ઉદ્દીપક મૂકવામાં આવે છે.
- (41) વ્યક્તિને કોઈ વસ્તુ, અન્ય વ્યક્તિ કે પ્રવૃત્તિ પર ધ્યાન આપવા માટે પ્રેરિત કરતી શક્તિ એટલે શું ?  
 (A) પ્રેરણા (B) બુદ્ધિ  
 (C) રસ (અભિરુચિ) (D) અભિયોગ્યતા
- (42) અધ્યયન પ્રક્રિયાની સમજ પ્રયોગો દ્વારા આપનારમાં નીચેના પૈકી કોનો સમાવેશ થતો નથી ?  
 (A) પાવલોવ (B) સ્કીનર (C) સ્ટ્રોંગ (D) થોર્નડાઈક
- (43) ગણિતમાં નિષ્ફળ જનાર વ્યક્તિ જ્યારે ચિત્રકામમાં પ્રાવીણ્ય મેળવીને સિદ્ધિ હાંસલ કરે તો તેને કઈ બચાવપ્રયુક્તિ કહેવાય ?  
 (A) યૌક્તિકીકરણ (B) પ્રક્ષેપણ  
 (C) ઊર્ધ્વીકરણ (D) ક્ષતિપૂર્તિ
- (44) મેદ પ્રધાન અને સ્નાયુ પ્રધાન એવા વ્યક્તિત્વના પ્રકારો કયા મનોવૈજ્ઞાનિકે રજૂ કર્યા છે ?  
 (A) શેલ્ડન (B) ટર્મેન (C) યુંગ (D) કેશમર
- (45) 1927માં પાંચ વિભાગમાં તૈયાર થયેલ રસસંશોધનિકાના રચયિતા મનોવૈજ્ઞાનિક કોણ હતા ?  
 (A) કુડર (B) થર્સ્ટન (C) સ્ટ્રોંગ (D) ગીલફર્ડ
- (46) ગુજરાતમાં 1960 માં યાંત્રિક અભિયોગ્યતા કસોટી કોણે પ્રમાણિત કરી હતી ?  
 (A) ડૉ. કે.જી. દેસાઈ (B) ડૉ. જે. સી. પરીખ  
 (C) પ્રો. ટી. પી. લેલે (D) ડૉ. આર. બી. નાયક
- (47) બેન્જમિન બ્લૂમે રજૂ કરેલ મૂલ્યાંકન ત્રિકોણમાં કઈ બાબત સમાવિષ્ટ નથી ?  
 (A) સાહિત્ય નિર્માણ (B) અધ્યાપન અનુભવો  
 (C) શિક્ષણના હેતુઓ (D) મૂલ્યાંકન
- (48) નીચેના પૈકી કયું ક્રિયાત્મક કસોટીનું લક્ષણ છે ?  
 (A) બોલ્યા વગર જવાબ આપી શકાય નહિ.  
 (B) મૂલ્યાંકન સામૂહિક રીતે હાથ ધરી શકાય.  
 (C) જ્ઞાન, સમજ, ઉપયોજન અને કૌશલ્યોનું માપન થઈ શકે છે.  
 (D) અનૌપચારિક રીતે હાથ ધરાય છે.
- (49)  $Z = 3M - \bar{X}$  આ સૂત્ર દ્વારા શું શોધી શકાય છે ?  
 (A) મધ્યક (B) વિચલન (C) મધ્યસ્થ (D) બહુલક

- (50) આંકડાશાસ્ત્રની દૃષ્ટિએ નીચેમાંથી કઈ માહિતી એ પ્રાથમિક માહિતી નથી.  
 (A) સંશોધક દ્વારા સૌ પ્રથમ વખત અસલ સ્વરૂપે એકઠી કરાયેલ હોય તેવી માહિતી.  
 (B) નેશનલ સેમ્પલ સર્વે ઓર્ગેનાઈઝેશન દ્વારા એકત્રિત કરાયેલ હોય તેવી ભારતની વસ્તી ગણતરીની માહિતી.  
 (C) ભારતના રજિસ્ટ્રાર ઓફિસ, ન્યુ દિલ્લી દ્વારા મૃત્યુદર અને જન્મદરને લગતી પ્રકાશિત માહિતી.  
 (D) ભારતની વસ્તી ગણતરીની માહતી જે U.N. Statistical Abstract માં પ્રકાશિત કરવામાં આવેલ હોય.
- (51) એક વર્ગખંડમાં નીચે મુજબની પ્રવૃત્તિઓ થતી જોવા મળે છે.  
 1. શિક્ષક વિદ્યાર્થીઓ સમક્ષ સાતત્યપૂર્ણ રીતે વિવિધ ઊદાહરણો રજૂ કરે છે.  
 2. શિક્ષક વિદ્યાર્થીઓને પોતાના દ્વારા રજૂ થયેલ ઊદાહરણો પરથી સામાન્ય સિદ્ધાંત તારવવાનું કહે છે.  
 ઉપરોક્ત બે પ્રવૃત્તિઓને જોતા આપને શિક્ષણના કયા અભિગમનો ઉપયોગ થયેલ જોવા મળે છે.  
 (A) આગમન અભિગમ (B) નિગમન અભિગમ  
 (C) સમસ્યા ઊકેલ અભિગમ (D) પૂછપરછ અભિગમ
- (52) શિક્ષણમાં વિવિધ અભ્યાસક્રમો ટેકનોલોજીના માધ્યમથી વિદ્યાર્થીઓ સુધી પહોચાડવામાં ઉપયોગમાં આવતું પ્લેટફોર્મ DIKSHA એટલે ...  
 (A) Digital Infrastructure for Knowledge Sharing (B) Digital Initiative for Knowledge Sharing  
 (C) Digital Interactive for Knowledge Sharing (D) Digital Interface for Knowledge Sharing
- (53) ધોરણ - 11 અને ધોરણ - 12 ના NCERT આધારિત અભ્યાસક્રમ માટે SWAYAM MOOCS ના જુદાં જુદાં ઓનલાઈન કોર્સનું નિર્માણ થયેલ છે. MOOC ને નીચેનામાંથી કયા નામથી ઓળખવામાં આવે છે ?  
 (A) Module open online courses (B) Massive open online courses  
 (C) Mathematics open online courses (D) Management open online courses
- (54) બ્લુમ ટેક્સોનોમીના મુખ્ય ત્રણ સૂત્રોમાં નીચેનામાંથી કયા મુખ્યક્ષેત્રનો સમાવેશ થતો નથી ?  
 (A) જ્ઞાનાત્મક (Cognitive) (B) ભાવાત્મક (Affective)  
 (C) ક્રિયાત્મક (Psychomotor) (D) અનુભવાત્મક (Experiential)
- (55) રચનાત્મક મૂલ્યાંકનના સંદર્ભમાં નીચેનામાંથી શું સાચું નથી.  
 (A) રચનાત્મક મૂલ્યાંકન એ વર્ગખંડ શિક્ષણનો એકભાગ છે.  
 (B) રચનાત્મક મૂલ્યાંકન શિખવાની પ્રક્રિયા પર ભાર મૂકે છે.  
 (C) રચનાત્મક મૂલ્યાંકન માટે અવલોકન, પ્રશ્નોત્તરી, વર્કસીટ, પ્રોજેક્ટ જેવી પદ્ધતિઓનો ઉપયોગ થાય છે.  
 (D) રચનાત્મક મૂલ્યાંકન નિર્ધારિત પાઠ્યક્રમને ઉપયોગ કરીને ઔપચારિક રીતે કરવામાં આવે છે.
- (56) પાંચ લાકડી A, B, C, D અને S છે. A, B થી નાની પણ S થી લાંબી છે. C તેમાં સૌથી લાંબી છે. D, B થી થોડી નાની અને A થી થોડી મોટી છે. લાકડીને લંબાઈના ઉતરતા ક્રમમાં ગોઠવતાં ચોથા ક્રમે કઈ લાકડી આવશે ?  
 (A) A (B) B (C) S (D) D
- (57) P, Q, R, S, T, V, W અને Z કેન્દ્ર તરફ મોં રાખીને ગોળાકાર ટેબલની આજુબાજુ બેઠા છે. દરેક ઉપરના ક્રમમાં બેઠા નથી. S, P ની જમણે ત્રીજા સ્થાને છે. P, V ની જમણે બીજા સ્થાને છે. R, V ની ડાબી બાજુ બીજા સ્થાને અને Q ની જમણે ત્રીજા સ્થાને છે. W, V ની સામે બેઠો છે. Z, T ની જમણે બીજા સ્થાને છે. તો T ની ડાબે પ્રથમ સ્થાને કોણ બેઠું છે ?  
 (A) V (B) R (C) P (D) Q



(58) નીચેની આકૃતિમાં પ્રશ્નાર્થ ચિહ્નની જગ્યાએ શું આવે ?



- (A) 12 (B) 10 (C) 14 (D) 16

(59) વ્યક્તિ A પૂર્વ દિશામાં 6 મીટર ચાલે છે ત્યાંથી ઉત્તર દિશામાં 8 મીટર ચાલે છે. ત્યાંથી નૈઋત્ય દિશામાં 12 મીટર ચાલે છે તો વ્યક્તિ મૂળબિંદુથી કેટલો દૂર હશે ?

- (A) 10 મીટર (B) 2 મીટર (C) 26 મીટર (D) 4 મીટર

(60) શ્રેણી પૂર્ણ કરો.

4, 8, 9, 27, 16, 64, 25 .....?.....

- (A) 101 (B) 98 (C) 100 (D) 125

(61) આપેલ શબ્દોને અંગ્રેજી મૂળાક્ષરોનાં ક્રમ પ્રમાણે ગોઠવો.

(1) TEACHER

(2) TRAINEE

(3) TUTION

(4) TUTORIAL

(5) TRAILER

- (A) 1, 2, 5, 3, 4 (B) 1, 5, 2, 4, 3 (C) 1, 5, 2, 3, 4 (D) 1, 2, 5, 4, 3

(62) નીચે આપેલ શ્રેણી પૂર્ણ કરો.

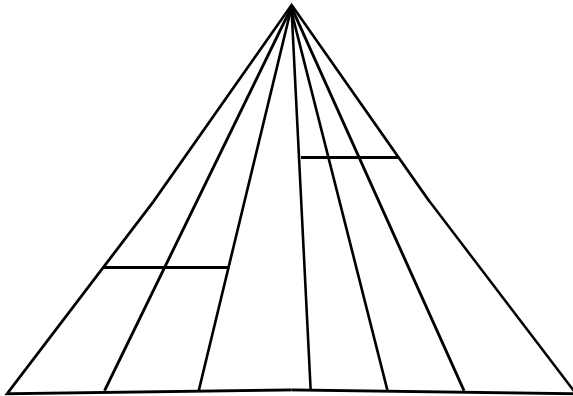
1, 2, 10, 37, .....?.....

- (A) 61 (B) 47 (C) 64 (D) 101

(63) આજે સોમવાર છે. 62 દિવસ પછી કયો વાર આવશે ?

- (A) શનિવાર (B) રવિવાર (C) મંગળવાર (D) બુધવાર

(64) આકૃતિમાં કેટલા ત્રિકોણ છે ?



- (A) 21 (B) 24 (C) 27 (D) 28

(65) એક વ્યક્તિ પૂર્વ દિશા તરફ મોં રાખીને ઊભો છે. તે  $90^{\circ}$  ના ખૂણે ઘડિયાળના કાંટાની વિરુદ્ધ દિશામાં ફરે છે. ફરી પાછો ઘડિયાળના કાંટાની દિશામાં  $45^{\circ}$  ફરે છે. ત્યાંથી પાછો ઘડિયાળના કાંટાની દિશામાં  $180^{\circ}$  ફરે છે. ત્યાર બાદ ઘડિયાળના કાંટાની વિરુદ્ધ દિશામાં  $270^{\circ}$  ફરે છે. તો હવે તે કઈ દિશામાં મોં રાખીને ઊભો હશે ?

- (A) ઉત્તર - પશ્ચિમ (B) પશ્ચિમ - દક્ષિણ  
(C) દક્ષિણ - પૂર્વ (D) ઉત્તર - પૂર્વ

(66) ફૂલ : પાંદડી

નીચેના પૈકી યોગ્ય જૂથ શોધો જે ઉપરના જૂથને રજૂ કરે.

- (A) બોલ : બેટ (B) ટાયર : સાઈકલ  
(C) પેન્સીલ : નોટ (D) આખડિયો : વેલણ

(67) રાજેશ ખૂબ મોટા મોલમાંથી કેટલીક વસ્તુ ખરીદીને તેનું પેમેન્ટ પોતાના ડેબીટ કાર્ડથી કરે છે. મોલની સામે આવેલ મેટ્રો સ્ટેશનથી તે મેટ્રો ટ્રેન પકડી પોતાના ઘરે પહોંચે છે તો રાજેશ ક્યાં રહેતો હશે ?

- (A) સુરત (B) પુરી  
(C) હૈદરાબાદ (D) જોધપુર

(68) (i) છેલ્લાં બે વર્ષથી જિલ્લાનો સાક્ષરતા દર વધે છે.

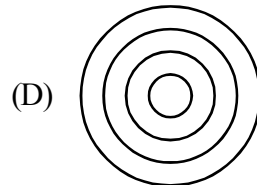
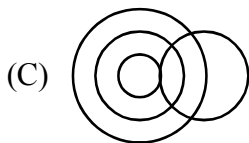
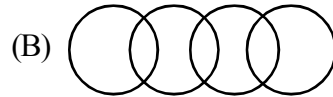
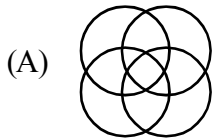
(ii) જિલ્લા પ્રસાસને છેલ્લાં કેટલાક સમયથી સાક્ષરતા ઝુંબેશ સાથે સંકળાયેલ વ્યક્તિઓની સઘન તાલીમ કરેલ છે અને તેમના કાર્યનું નિરીક્ષણ કરવામાં આવે છે.

- (A) વિધાન (i) એ કારણ છે અને વિધાન (ii) એ અસર છે.  
(B) વિધાન (i) અને વિધાન (ii) એ બન્ને સ્વતંત્ર અસર છે.  
(C) વિધાન (ii) કારણ છે અને વિધાન (i) એ અસર છે.  
(D) વિધાન (i) અને (ii) બન્ને કારણ છે.

(69) મહેશનું મોઢું પૂર્વદિશામાં છે તે હવે  $180^{\circ}$  કલોક વાઈઝ ફરે છે ત્યાર બાદ  $90^{\circ}$  એન્ટી કલોક વાઈઝ ફરે છે. તો હવે તેનું મોઢું કઈ દિશામાં હશે ?

- (A) પૂર્વ (B) દક્ષિણ  
(C) ઉત્તર (D) પશ્ચિમ

(70) નીચે પૈકી કયો વેન ડાયાગ્રામ વિશ્વ, એશિયા, ભારત અને ગુજરાતને દર્શાવે છે.



- (71) 'परिरंभ' शब्दનો સમાનાર્થી શબ્દ શું થાય ?  
 (A) તેજ (B) બનાવટ (C) આલિંગન (D) લુચ્ચું
- (72) શુદ્ધ શબ્દ કયો છે ?  
 (A) મબલખ (B) શૃંગાર (C) ઔદ્યોગીકરણ (D) પ્રિયવંદા
- (73) 'એ પરીક્ષા : નિમિષ નહિ ચક્ષ, વિરજ વસ્ત્ર, ઊભા અંતરિક્ષ' - પંક્તિમાં રેખાંકિત કરેલ શબ્દ 'વિરજ'નો અર્થ શું થાય છે ?  
 (A) મુલાયમ (B) રેશમી (C) રંગીન (D) સ્વચ્છ
- (74) આપેલાં વાક્યોમાં 'વિધ્યર્થ વાક્ય' કયું છે ?  
 (A) ભગવાન ભજયા હોત તો ખોટું કાર્ય ન કરત. (B) આટલું મારું માનશો તો સો વર્ષ જીવશો.  
 (C) પહેરજે, શર્ટ ફાડી નાખતો નહીં. (D) ભાઈ, કર્યા ભોગવવાં છે !
- (75) શબ્દ અને તેના અનેકાર્થી શબ્દોની ખોટી જોડ હોય તેવો વિકલ્પ કયો છે ?  
 (A) મકરંદ - ભમરો, કોકિલ (B) કોઠો - મન, અંતઃકરણ  
 (C) અર્ક - કિરણ, આકડો (D) પટ - ઢાંકણ, ગડી
- (76) 'પગ મૂકી શકાય નહીં એવું' ? - શબ્દસમૂહ માટેનો એક શબ્દ કયો છે ?  
 (A) અગોચર (B) અચિંત્ય (C) અચર (D) અછડતું
- (77) પદ્ધત્તમ યોગ્ય રીતે સચવાયો હોય તેવું વાક્ય કયું છે ?  
 (A) ગામમાં એક અનાજ વેચતો ફેરિયો દેખાયો.  
 (B) મેં આજે ચામડાની, એક, નાનકડી બેગ ખરીદી  
 (C) વ્યાયામવીરો રોજ સવારે ઝડપથી મેદાનમાં દોડતા હોય છે.  
 (D) રોજ સવારે માળી બગીચામાં ઝાડને પાણી પાય છે.
- (78) નીચે આપેલાં વાક્યોમાં 'અધિકરણ વિભક્તિ'નો પ્રયોગ થયો હોય તેવું વાક્ય કયું છે ?  
 (A) તે કાલે રાત્રે ગયો. (B) કૂતરી તેનાં ગલુડિયાં સાથે આવી.  
 (C) ભાવનગરથી અંબાજી ઘણું દૂર છે. (D) સમીરે તેને ગુલાબ આપ્યું.
- (79) શબ્દાર્થની ખોટી જોડ હોય તેવો કયો વિકલ્પ છે ?  
 (A) રબીશ - અર્થહીન (B) હિચકારું - હીન કોટિનું  
 (C) અજંપો - કુદાર (D) આશલેષ - ભેટવું
- (80) ભાષાકીય રીતે શુદ્ધ વાક્ય કયું છે ?  
 (A) ગોપાલભાઈ સજ્જન વ્યક્તિ છે.  
 (B) વિદ્યાર્થીનું એક માત્ર લક્ષ હોય છે - ઉત્તમ અભ્યાસ.  
 (C) આ ટીશર્ટની શી કિંમત છે ?  
 (D) ઓફિસમાં સફાઈકામ કરતા કર્મચારીઓ એકઠા થવાના છે.
- (81) 'મંદિરની આગળ એક નાનકડો બગીચો છે.' - વાક્યમાં વપરાયેલ નામયોગી ઓળખો.  
 (A) મંદિર (B) ની (C) આગળ (D) બગીચો

- (82) 'તુંબડીમાં કાંકરા હોવા' રૂઢિપ્રયોગનો અર્થ શું થાય ?  
 (A) કશી જ સમજ ન પડવી (B) નુકશાનમાં વધુ નુકસાન  
 (C) ભેદભાવ હોવો (D) વજૂદ વિનાનું હોવું
- (83) સંધિની કઈ જોડ ખોટી છે ?  
 (A) કલા + ઊર્મિ = કલોર્મિ (B) નવ + ઓઢા = નવોઢા  
 (C) અનુ + એષણા = અન્વેષણા (D) વાકૂ + આડંબર = વાગાડંબર
- (84) વિરામચિહ્નોનો ઉચિત પ્રયોગ ન થયો હોય તેવું વાક્ય કયું છે ?  
 (A) એણે કહ્યું : હું ત્યાં ક્યારેય આવીશ નહીં.  
 (B) મા'રાજ, આ માટે શું જોઈશે ?  
 (C) બધાં જ તત્ત્વજ્ઞાન (?) સમજી શકતા હશે ?  
 (D) "બોલે એનાં બોર વેચાય"
- (85) ખોટી જોડણી કયા શબ્દની છે ?  
 (A) કમિશનર (B) ઉતુંગ (C) કમિટી (D) નૈર્ઝત્ય
- (86) Find the different word from following words.  
 (A) retrieve (B) rescue (C) salvage (D) evade
- (87) Neither you nor your friend was sick ..... ?  
 (Put a suitable question tag choosing from the given options below.)  
 (A) Wasn't he ? (B) Was he ? (C) Weren't they ? (D) Were they ?
- (88) If Mr. Shah had saved money earlier, he ..... a new car.  
 (A) bought (B) have had bought  
 (C) will have bought (D) would have bought
- (89) Shruti said to Neha, "You are my best friend now." - find correct indirect speech.  
 (A) Shruti told Neha the she was her best friend then.  
 (B) Shruti told Neha that she was her best friend now.  
 (C) Shruti told Neha that she was her best friend then.  
 (D) Shruti said Neha that she is her best friend then.
- (90) The lightning has a tongue of flame. Identify the figure of speech used in the sentence.  
 (A) Irony (B) Personification  
 (C) Metaphor (D) Simile
- (91) Dr. Harris welcomed the members of the committee and went on ..... the subject of the meeting.  
 Put Proper verb form.  
 (A) introduced (B) introducing  
 (C) introduces (D) to introduce

- (92) Find out similar word for : Assault  
 (A) Defence (B) Beating (C) Shooting (D) Attack
- (93) Select the correct sentence.  
 (A) Unless you worked hard, you will fail.  
 (B) Unless you don't work hard, you will fail.  
 (C) Unless you work hard, you will fail.  
 (D) Unless you will work hard, you will fail.
- (94) Intelligent ..... he is, he could not pass that exam.  
 (A) though (B) however (C) yet (D) as
- (95) Parth filled ten litres of petrol to go to Ahmedabad. Select the most appropriate option to get the underlined word as answer.  
 (A) How much petrol Parth filled to go to Ahmedabad ?  
 (B) How much petrol did Parth filled to go to Ahmedabad ?  
 (C) How much petrol did Parth fill to go to Ahmedabad ?  
 (D) How much petrol Parth fill to go to Ahmedabad ?
- (96) Let her kill the mouse. Select the correct passive sentence.  
 (A) The mouse was killed by her.  
 (B) Let the mouse be killed by her.  
 (C) Let the mouse is killed by her.  
 (D) Let her kill the mouse.
- (97) No sooner did I reach the college .....  
 (Select correct option to complete the sentence)  
 (A) when it started to rain. (B) and it started to rain.  
 (C) than it started to rain. (D) after it started to rain.
- (98) Neither of your friend will come. Identify the Pronoun.  
 (A) Distributive (B) Demonstrative  
 (C) Indefinite (D) Reciprocal
- (99) Many times he helps those ..... he doesn't know.  
 (A) who (B) which (C) what (D) whom
- (100) If you ..... the rumour, you .....  
 (A) had spread, would have been arrested.  
 (B) had spread, would have arrested  
 (C) had spreaded, would have been arrested  
 (D) had spreaded, could have arrested

- (101) જો વિજય રૂ. 4000 નો માલ 10% રોકડ વટાવથી પરેશ પાસેથી ખરીદે છે. તો ખરીદનોંધમાં કેટલા રૂપિયાની ખરીદી નોંધવામાં આવશે ?  
 (A) 400/- (B) 4400/- (C) 3600/- (D) 4000/-
- (102) કયા ચોપડાને, “ચોપડાઓનો રાજા” કહેવામાં આવે છે ?  
 (A) રોકડમેળ (B) આમનોંધ ચોપડો (C) પેટાનોંધ ચોપડો (D) ખાતાવહી
- (103) કયા સરવૈયામાં શેની નોંધ કરવામાં આવે છે ?  
 (A) દરેક ખાતાની બાકી (B) આમનોંધ (C) દરેક ખાતાની યાદી (D) હવાલા નોંધ
- (104) પાસબુક પ્રમાણેની જમાબાકી એટલે વેપારી માટે શું કેહવાય ?  
 (A) બેન્ક સિલક (B) રોકડ સિલક (C) દેવું (D) બેન્ક ઓવરડ્રાફ્ટ
- (105) જો યંત્રની ખરીદી ખરીદ ખાતે ઉધારેલ હોય તો તે કઈ ભૂલ ગણાય ?  
 (A) વીસરચૂક (B) સિદ્ધાંતની ભૂલ  
 (C) ખોટા પત્રકમાં લખવાની ભૂલ (D) મૂળ ચોપડો લખતાં થયેલ ભૂલ
- (106) નીચેનામાંથી કઈ મિલકત માટે ઘસારાની સીધી લીટીની પદ્ધતિની ગણતરી યોગ્ય છે ?  
 (A) જમીન (B) કોપીરાઈટ  
 (C) મિલકતમાં રોકાયેલ મૂડીનું વ્યાજ (D) ઉપરોક્તમાંથી એક પણ નહિ
- (107) સામાન્ય રીતે મૂડી અનામતનો ઉપયોગ નીચેનામાંથી કયા કારણસર વાપરી શકાય નહિ ?  
 (A) પાઘડી માંડી વાળવા માટે  
 (B) ડિબેન્ચર વટાવ માટે  
 (C) મિલકતના પુનઃ મૂલ્યાંકનની ખોટ માંડી વાળવા માટે  
 (D) બોનસ શેર વહેંચવા માટે
- (108) કુશળ પ્લાન્ટ મેનેજર રાજનામું આપે ત્યારે કયા હિસાબી સિદ્ધાંત કે પ્રણાલી અનુસાર તેની નોંધ કરવામાં આવતી નથી ?  
 (A) નાણાકીય માપના ખ્યાલ પ્રમાણે (B) મહત્વના ખ્યાલ પ્રમાણે  
 (C) એક્સ્ટ્રાના ખ્યાલ પ્રમાણે (D) સંપાદનના ખ્યાલ પ્રમાણે
- (109) શા માટે કાયમી મિલકતો પાકા સરવૈયામાં તેની ઘસારાબાદની કિંમતે દર્શાવવામાં આવે છે નહિ કે તેની ઉપજવાલાયક કિંમતે ?  
 (A) પડતરના ખ્યાલ પ્રમાણે (B) રૂઢિચુસ્તતાપણાના ખ્યાલ પ્રમાણે  
 (C) પૂર્ણ રજૂઆતના ખ્યાલ પ્રમાણે (D) ચાલુ પેઢીના ખ્યાલ પ્રમાણે
- (110) હિસાબી ધોરણો કોના દ્વારા બહાર પાડવામાં આવ્યા છે ?  
 (A) NACAS (B) ASB (C) ICAI (D) IASC
- (111) વસિયત દ્વારા બિનવેપારી સંસ્થાને મળતી મિલકત શેમાં ઉમેરવામાં આવે છે ?  
 (A) મૂડી ભંડોળમાં (B) ખાસ હેતુ ફંડમાં (C) મિલકત ભંડોળમાં (D) ઉપજ ખાતામાં

- (112) જીમખાના કલબના કુલ 150 સભ્યો છે. દરેક વાર્ષિક રૂ. 400 લવાજમ ભરે છે. 2013-14 ના વર્ષમાં 20 સભ્યોએ 2014-15 ના વર્ષનું લવાજમ ભરેલ છે. ચાલુ વર્ષમાં રૂ. 45000/- મળ્યા તો 31-03-2015 ના પૂરા થતા વર્ષનું કેટલું લવાજમ બાકી રહે ?  
 (A) 15,000/- (B) 19,000/- (C) 8,000/- (D) 7,000/-
- (113) નીચેનામાંથી શું કમ્પ્યુટર હિસાબી પદ્ધતિના અંગ તરીકે ગણાય ?  
 (A) હ્યુમનવેર (B) હાર્ડવેર  
 (C) સોફ્ટવેર (D) ઉપરના બધા - ત્રણેય
- (114) વસ્તુઓ અને સેવાઓ કર (GST) નો ભારત દેશમાં કઈ તારીખથી અમલ કરવામાં આવેલ છે ?  
 (A) 1-4-2017 (B) 1-7-2017 (C) 1-1-2017 (D) 1-10-2017
- (115) જ્યારે માલ ધર્માદામાં આપવામાં આવે ત્યારે નીચેનામાંથી કયા ખાતે જમા થશે ?  
 (A) ધર્માદા ખર્ચ ખાતે (B) વેચાણ ખાતે (C) ખરીદ ખાતે (D) પરચુરણ ખર્ચ ખાતે
- (116) જ્યારે કાચું સરવૈયું ન મળે ત્યારે કામચલાઉ ધોરણે કયા ખાતા દ્વારા કાચું સરવૈયું મેળવી લેવામાં આવે છે ?  
 (A) વેપાર ખાતા (B) નફા-નુકશાન ખાતા  
 (C) પાકા સરવૈયા (D) ઉપલક ખાતા
- (117) ધંધા માટે નીચેનામાંથી કઈ અનામત ઊભી કરવી યોગ્ય નથી ?  
 (A) સામાન્ય અનામત (B) કારીગર અકસ્માત વળતર ભંડોળ  
 (C) ગુપ્ત અનામત (D) મૂડી અનામત
- (118) જો ભાગીદારી કરારપત્રમાં સ્પષ્ટતા ન હોય, તો પેઢીને ભાગીદારે ધીરેલી લોન પર કેટલા ટકા વ્યાજ ગણાય ?  
 (A) 6 ટકા (B) 9 ટકા  
 (C) 10 ટકા (D) વ્યાજ ગણાશે નહિ
- (119) ભારતમાં ભાગીદારી કાયદો કયા વર્ષથી અમલમાં આવ્યો છે ?  
 (A) 1956 (B) 1949 (C) 1932 (D) 1923
- (120) નીચેનામાંથી કઈ વિગત નફા-નુકશાન ફાળવણી ખાતાની ઉધાર બાજુ દર્શાવાય છે ?  
 (A) ચોખ્ખો નફો (B) ઉપાડ પર વ્યાજ  
 (C) સામાન્ય અનામત ખાતે લઈ જવાની રકમ (D) ચાલુ ખાતાની ઉધાર બાકીનું વ્યાજ
- (121) અપેક્ષિત નફો = .....  
 (A)  $\frac{\text{રોકાયેલી મૂડી} \times \text{અપેક્ષિત વળતરનો દર}}{100}$  (B)  $\frac{\text{સરેરાશ નફો} \times \text{અપેક્ષિત વળતરનો દર}}{100}$   
 (C)  $\frac{\text{મિલકતો} \times \text{અપેક્ષિત વળતરનો દર}}{100}$  (D)  $\frac{\text{ભારિત સરેરાશ નફો} \times \text{અપેક્ષિત વળતરનો દર}}{100}$
- (122) X, Y અને Z સરખે હિસ્સે નફો-નુકશાન વહેંચતા ભાગીદારો છે. તેમનું નવું પ્રમાણ 1 : 2 : 3 છે. ભાગીદાર 'Y' નો ત્યાગ નક્કી કરો.  
 (A)  $\frac{1}{6}$  (B)  $-\frac{1}{6}$  (C) 0 (D)  $\frac{3}{6}$

- (123) A અને B એક પેઢીના 3 : 2 ના પ્રમાણમાં નફો-નુકશાન વહેંચી લેતા ભાગીદારો છે. C ને નફામાં  $\frac{1}{4}$  ભાગ આપવાની શરતે પ્રવેશ આપ્યો. નફા-નુકશાનના નવા પ્રમાણ જણાવો.
- (A) 9 : 6 : 5 (B) 5 : 6 : 9 (C) 9 : 5 : 6 (D) 6 : 9 : 5
- (124) ભાગીદારી પેઢીના વિસર્જન સમયે ભાગીદારી પેઢીની મિલકતો અને જવાદારીઓની હિસાબી અસર આપવા માટે તૈયાર કરવામાં આવતું ખાતું ..... છે.
- (A) નફા-નુકશાન ખાતું (B) નફા-નુકશાન ફાળવણી ખાતું  
(C) પુનઃ મૂલ્યાંકન ખાતું (D) સંપાદન ખાતું
- (125) જ્યારે જપ્ત થયેલ બધાં જ શેર ફરીથી બહાર પાડવામાં આવે ત્યારે શેર જપ્તી ખાતાની બાકી ..... ખાતે લઈ જવામાં આવે છે.
- (A) શેર મૂડી (B) નફા-નુકશાન  
(C) મૂડી અનામત (D) સામાન્ય અનામત
- (126) 'બોર્ડ ઓફ કન્ટ્રોલ ફોર ક્રિકેટ ઇન ઇન્ડિયા' (BCCI) કંપની કયા પ્રકારની કંપનીનું ઉદાહરણ છે ?
- (A) શેરથી મર્યાદિત કંપની (B) બાંધધરીથી મર્યાદિત કંપની  
(C) જવાબદારીથી મર્યાદિત કંપની (D) જાહેર કંપની
- (127) જો પ્રેફરન્સ શેરની રમક અમુક નક્કી કરેલા સમય બાદ અથવા યોગ્ય નોટિસ આપ્યા બાદ પરત કરવામાં આવે તો તેને કયા પ્રકારના પ્રેફરન્સ શેર કહેવામાં આવે છે ?
- (A) ક્યુમ્યુલેટિવ (B) રિડીમેબલ  
(C) પાર્ટીસિપેટિંગ (D) કન્વર્ટિબલ
- (128) કંપનીધારા 2013 અનુસાર પાકા સરવૈયા પછીના 12 માસ દરમિયાન વેચાણપાત્ર ચંત્રને ..... કહે છે.
- (A) ચાલુ મિલકતો (B) બિન ચાલુ મિલકતો  
(C) બિન ચાલુ રોકાણો (D) ખર્ચ
- (129) ચાલુ મિલકતોમાં વધારો થાય ત્યારે નીચેનામાંથી કયા ગુણોત્તરમાં અસર થશે ?
- (A) ચાલુ ગુણોત્તરમાં વધારો (B) ચાલુ ગુણોત્તરમાં ઘટાડો  
(C) પ્રવાહી ગુણોત્તર ઘટે (D) કાચા નફાના ગુણોત્તરમાં ઘટાડો
- (130) એક કંપનીમાં ખરીદી રૂ. 90,000, ખરીદીના ખર્ચ રૂ. 15,000, સ્ટોકમાં ફેરફાર રૂ. 15,000 અને વેચાણ રૂ. 1,50,000 હોય તો કાચા નફાનો ગુણોત્તર શોધો.
- (A) 40% (B) 20% (C) 30% (D) 13.33%
- (131) નામાનાં મૂળતત્ત્વો વિષયમાં ઉધાર ચિઠ્ઠી અને જમા ચિઠ્ઠિ, કાચુ સરવૈયુ અને પાકું સરવૈયુ તફાવત દર્શાવતા સ્વાધ્યાય ..... છે.
- (A) અવલોકન સ્વાધ્યાય (B) તુલનાત્મક સ્વાધ્યાય  
(C) ક્રિયાત્મક સ્વાધ્યાય (D) લેખન પ્રેરક સ્વાધ્યાય
- (132) નામાના મૂળતત્ત્વો શિક્ષણ માટેની કથન પદ્ધતિને બીજા કયા નામે ઓળખવામાં આવે છે ?
- (A) વર્ણન પદ્ધતિ (B) તુલનાત્મક પદ્ધતિ  
(C) સમસ્યા ઉકેલ પદ્ધતિ (D) આગમન પદ્ધતિ



- (133) જમીન, મકાન, પ્લાન્ટ, યંત્રો વગેરેનો સમાવેશ કઈ મિલકતોમાં કરવામાં આવે છે ?  
 (A) અવાસ્તવિક મિલકતો (B) ચાલુ મિલકતો  
 (C) બિન ચાલુ મિલકતો (D) બિન ચાલુ જવાબદારી

- (134) સીધી લીટીની પદ્ધતિમાં નીચેના પૈકી કયું સૂત્ર વાર્ષિક ઘસારો શોધવાનું છે ?

(A)  $D = \frac{C - S}{N}$  (B)  $D = \frac{C}{N} \times 100$   
 (C)  $D = \frac{S \times R}{100}$  (D)  $D = N \times \frac{R}{100}$

- (135) અંબિકા સ્ટોર્સને રૂ. 15,000 નો માલ મોકલી આપવાનો ઓર્ડર આપ્યો. આ વ્યવહાર કયા પ્રકારનો ગણાય ?

- (A) રોકડ વ્યવહાર (B) ઉધાર વ્યવહાર  
 (C) આર્થિક વ્યવહાર (D) બિન આર્થિક વ્યવહાર

- (136) કંપનીએ રૂ. 10 ની મૂળકિંમતના 'Y' ના 500 ઈક્વિટી શેર તા. 31-3-2022 ના રોજ જપ્ત કર્યા. 'Y' એ આખરી હપ્તાના શેરદીઠ રૂ. 3 લેખે નાણાં ભર્યા ન હતાં. શેર જપ્તી વખતે કેટલી રકમ નોંધાશે ?

- (A) 5000 (B) 1500 (C) 3500 (D) 6500

- (137) 'R' કંપનીને વેચેલ માલની પડતર રૂ. 4,80,000, કામગીરીના ખર્ચા રૂ. 1,20,000 નાણાંકીય ખર્ચા રૂ. 1,00,000 અને વેચાણ રૂ. 8,00,000 છે. કામગીરી ગુણોત્તર કેટલા ટકા થશે ?

- (A) 25% (B) 50%  
 (C) 75% (D) 80%

- (138) નીચેની માહિતી પરથી ભારિત સરેરાશ નફાની રકમ શું થશે ?

વર્ષ	નફો (રૂ.)
2018-19	60,000
2019-20	70,000
2020-21	90,000
2021-22	1,10,000

- (A) 90,000 (B) 91,000  
 (C) 92,000 (D) 93,000

- (139) એક પેઢીનો છેલ્લા ચાર વર્ષનો ભારિત સરેરાશ નફો રૂ. 44,000 છે. ભારિત સરેરાશ નફાની બે વર્ષની ખરીદીને આધારે પાઘડીની કિંમત નક્કી કરો.

- (A) રૂ. 8,800 (B) રૂ. 22,000 (C) રૂ. 88,000 (D) રૂ. 11,000

- (140) X અને Y સરખા હિસ્સાના ભાગીદારો છે તેઓ Z ને 1/4 ભાગે ભાગીદાર તરીકે દાખલ કરે છે. X અને Y ના ત્યાગનું પ્રમાણ નક્કી કરો.

- (A) 1 : 4 (B) 4 : 1 (C) 1 : 1 (D) 1 : 3

- (141) હીસાબી વર્ષ 31-3-2023 ના રોજ પૂરું થાય છે. તારીખ 30-6-2023 ના રોજ ભાગીદારનું મૃત્યુ થાય છે. તેનો નફામાં ભાગ  $\frac{1}{3}$  છે. ગયા વર્ષના નફા રૂ. 24,000/- ને આધારે નફામાં ભાગ મળવાપાત્ર હોય, તો તેને મૃત્યુ વખતે નફાના ભાગ તરીકે કેટલી રકમ મળશે ?  
 (A) રૂ. 8,000 (B) રૂ. 24,000 (C) રૂ. 1,333 (D) રૂ. 2,000
- (142) વિસર્જન સમયે ઘાલખાધ અનામત રૂ. 2,000 બાદ કર્યા પછી દેવાદારો રૂ. 40,000 છે. માલ-મિલકત નિકાલ ખાતે ઉધાર બાજુ દેવાદારો કઈ રકમથી નોંધાશે ?  
 (A) 40,000 (B) 42,000 (C) 38,000 (D) 2,000
- (143) એક કંપનીના ચાલુ વર્ષે વપરાયેલ માલની પડતર રૂ. 3,30,000 છે તેમાં પાછલા વર્ષની સરખામણીમાં 10% વધારો થયો હોય તો પાછલા વર્ષમાં વપરાયેલ માલની પડતર કેટલી હશે ?  
 (A) 30,000 (B) 33,000 (C) 33,00,000 (D) 3,63,000
- (144) કાયમી અદૃશ્ય મિલકતમાં કોનો સમાવેશ થાય છે ?  
 (A) હાર્ડવેર (B) સોફ્ટવેર (C) લાઈસન્સ (D) ફેન્ચાઈઝી
- (145) બેકરી ઉદ્યોગ એ કયા ઉદ્યોગનું ઉદાહરણ છે ?  
 (A) પ્રાથમિક ઉદ્યોગ (B) ગૌણ ઉદ્યોગ  
 (C) સહાયક ઉદ્યોગ (D) અનુષાંગિક ઉદ્યોગ
- (146) RTGS પદ્ધતિમાં કેટલી રકમની ફેરબદલી કરી શકાય છે ?  
 (A) 50,000 રૂ. થી વધુ (B) 1,00,000 રૂ. થી વધુ  
 (C) 2,00,000 રૂ. થી વધુ (D) 90,000 રૂ. થી વધુ
- (147) એક જ કેમ્પસના કમ્પ્યુટર્સ એક બીજા સાથે જોડાયેલા હોય તે કમ્પ્યુટર નેટવર્કનો કયો પ્રકાર છે ?  
 (A) LAN (B) MAN (C) WAN (D) CAN
- (148) ધંધાકીય વ્યવસ્થાના કયા સ્વરૂપને લોકશાહીની તાલીમ શાળા કહે છે ?  
 (A) વૈયક્તિક માલીકી (B) કંપની  
 (C) ભાગીદારી પેઢી (D) સહકારી મંડળી
- (149) ભારતમાં હાલમાં કયો કંપની ધારો અમલમાં છે ?  
 (A) 1932 (B) 1951 (C) 2005 (D) 2013
- (150) કંપનીને અસ્તિત્વમાં લાવવા માટે નોંધણીનું પ્રમાણપત્ર કોની પાસેથી મેળવવું પડે છે.  
 (A) કેન્દ્ર સરકાર (B) સેબી (C) કંપની રજીસ્ટ્રાર (D) સુપ્રિમ કોર્ટ
- (151) ભારતીય રેલવે એ જાહેરક્ષેત્રના સંચાલનનું કયું સ્વરૂપ છે ?  
 (A) ખાતાકીય સંચાલન (B) સરકારી કંપની  
 (C) જાહેર નિગમ (D) સંયુક્ત સાહસ
- (152) કંપનીના વિસર્જન સમયે સૌ પ્રથમ કોને મૂડી પરત મળે છે ?  
 (A) પ્રેફરન્સ શેર હોલ્ડરોને (B) ઈક્વીટી શેર હોલ્ડરોને  
 (C) સ્થાપકોને (D) ડિબેંચર હોલ્ડરોને

- (153) ભારતમાં વિશિષ્ટ આર્થિક વિસ્તાર (SEZ) નો કાયદો કયા વર્ષથી અમલમાં આવ્યો ?  
 (A) 2005 (B) 2006 (C) 2010 (D) 2013
- (154) જહાજી કંપની અને નિકાસકાર વચ્ચે આખુ જહાજ ભાડે રાખવા માટે જે કરાર કરવામાં આવે છે તેને શું કહે છે ?  
 (A) નિકાસ કરાર (B) ઈન્ડેન્ટ કરાર (C) ચાર્ટર પાર્ટી કરાર (D) શાખાનો કરાર
- (155) કંપનીધારા - 2013 ની જોગવાઈ મુજબ કંપનીએ સામાજિક જવાબદારી પેટે કેટલો ખર્ચ કરવો ફરજિયાત છે ?  
 (A) સરેરાશ વાર્ષિક નફાના ઓછામાં ઓછા 2 ટકા (B) સરેરાશ વાર્ષિક નફાના ઓછામાં ઓછા 5 ટકા  
 (C) સરેરાશ વાર્ષિક નફાના વધુમાં વધુ 2 ટકા (D) સરેરાશ વાર્ષિક નફાના વધુમાં વધુ 5 ટકા
- (156) મુખ્ય વહિવટી અધિકારી તરફથી પ્રાપ્ત થયેલા હુકમો અને સૂચનાઓનો અમલ કઈ સપાટી કરે છે ?  
 (A) ઉચ્ચ સપાટી (B) મધ્યસપાટી  
 (C) તળ સપાટી (D) નિરીક્ષકોની સપાટી
- (157) પીટર કૂકરે દર્શાવેલ સંચાલન કાર્યોના વર્ગીકરણમાં નીચેના પૈકી કોનો સમાવેશ થતો નથી ?  
 (A) ધંધાનું સંચાલન (B) કામદારો અને કામનું સંચાલન  
 (C) બજારનું સંચાલન (D) સંચાલકોનું સંચાલન
- (158) નવ-પ્રશિષ્ટ વિચાર ધારાના પ્રણેતા કોણ હતા ?  
 (A) એલ્ટન મેયોને (B) હેનરી ફેયોલ (C) ફેડરીક ટેલર (D) હેનરી ફોર્ડ
- (159) ધ્યેયલક્ષી સંચાલનના સિદ્ધાંત પ્રણેતા કોણ હતા ?  
 (A) ફેડરીક ટેલર (B) પીટર એફ ડ્રૂકર (C) મેક્સ વેબર (D) હેનરી ફેયોલ
- (160) રૂઢિગત પદ્ધતિમાં મજૂરો હુકમ અનુસાર કામ કરવા ટેવાયેલા હતા તેને શું કહે છે ?  
 (A) Rule of Law (B) Rule of Tongue (C) Rule of order (D) Rule of Thumb
- (161) જે કાર્યો અંગે રોજબરોજ નિર્ણયો લેવાના હોય તેવા કાર્યો માટે કઈ યોજના તૈયાર કરવામાં આવે છે ?  
 (A) કાયમી યોજના (B) વ્યૂહાત્મક યોજના  
 (C) કાર્યકારી યોજના (D) સુનિયોજિત યોજના
- (162) રૈખિક વ્યવસ્થાતંત્રમાં સર્વોચ્ચ સ્થાન કોનું હોય છે ?  
 (A) સંચાલક મંડળ (B) જનરલ મેનેજર (C) વિભાગીય અધિકારી (D) ફોરમેન
- (163) તાલીમ એ કેવી પ્રક્રિયા છે ?  
 (A) ટૂંકાગાળાની (B) લાંબાગાળાની (C) સતત (D) કામચલાઉ
- (164) એકમના ઉચ્ચ સંચાલકો અને વિભાગીય અધિકારીઓને આપવામાં આવતું સૈદ્ધાંતિક અને પ્રાયોગિકજ્ઞાન એટલે શું ?  
 (A) દોરવણી (B) વિકાસ (C) તાલીમ (D) બઢતી
- (165) નિરીક્ષણનું કાર્ય સંચાલનની કઈ સપાટીએ વધારે જોવા મળે છે ?  
 (A) ઉચ્ચ સપાટી (B) મધ્ય સપાટી  
 (C) ઉચ્ચ અને મધ્ય સપાટી (D) તળ સપાટી

- (166) અબ્રાહ્મ માસ્લોએ પાંચ પ્રકારની જરૂરિયાતોનો ક્રમ કયા આધારે નક્કી કર્યો છે ?  
 (A) જરૂરિયાતોની તીવ્રતા કે પ્રબળતા (B) જરૂરિયાતોનો સમયગાળો  
 (C) જરૂરિયાતોનું સ્વરૂપ (D) જરૂરિયાતોનો ખર્ચ
- (167) સુધારાલક્ષી પગલાં એ કઈ પ્રક્રિયાનો છેલ્લો તબક્કો છે ?  
 (A) અંકુશ (B) આયોજન (C) વ્યવસ્થાતંત્ર (D) સંકલન
- (168) સંપત્તિના મહત્તમી કરણનો હેતુ બીજા કયા નામે ઓળખાય છે ?  
 (A) ચોખ્ખુ વર્તમાન મૂલ્ય (B) ઇક્વિટી પરનો વેપાર (C) મૂડી રોકાણ (D) સામાજિક કલ્યાણ
- (169) માહિતીસંચાર પ્રક્રિયાની સફળતા કયા મુદ્દા દ્વારા નક્કી કરી શકાય ?  
 (A) બોલનાર (B) પ્રતિભાવ (C) સાંભળનાર (D) માધ્યમ
- (170) માલસામાનને શાખ પર આપતા પહેલાં કેટલી બાબતોની ચકાસણી કરવામાં આવે છે ?  
 (A) ચાર (B) પાંચ (C) છ (D) ત્રણ
- (171) અમર્યાદિત જવાબદારી વાળી કંપની જેને શેર હોય, તેણે કયા પ્રકારના ટેબલ મુજબ આવેદનપત્ર તૈયાર કરવું પડે ?  
 (A) ટેબલ - B (B) ટેબલ - C (C) ટેબલ - E (D) ટેબલ - D
- (172) નિયમનપત્ર કોના માટે ખૂબ જ ઉપયોગી છે ?  
 (A) સંચાલક (B) લેણદારો (C) સેક્રેટરી (D) શેરહોલ્ડરો
- (173) કંપનીની કુલ મૂડીના કેટલા ટકાથી વધુ સ્વેટ ઇક્વિટી શેર ફાળવી શકે નહીં ?  
 (A) 35% (B) 20% (C) 10% (D) 25%
- (174) કયું લક્ષણ પત્રનો આત્મા છે ?  
 (A) સંક્ષિપ્તતા (B) સ્પષ્ટતા (C) સંપૂર્ણતા (D) સચોટતા
- (175) વિજ્ઞાપનપત્ર કોના જેવા સ્વરૂપનું હોય છે ?  
 (A) ઠરાવ (B) પરિપત્ર (C) હુકમનામું (D) પરિચયપત્ર
- (176) વિશિષ્ટ પ્રકારની શૈલી, કૌશલ્ય અને યોગ્ય માધ્યમનો ઉપયોગ કરીને માહિતીની આપણે માટે કરવામાં આવતી પ્રવૃત્તિ એટલે...  
 (A) વાણિજ્ય પત્રવ્યવહાર પ્રક્રિયા (B) વાણિજ્ય સંચાર પ્રક્રિયા  
 (C) માહિતી પ્રેષક પ્રક્રિયા (D) માહિતી સંચાર પ્રક્રિયા
- (177) પત્રલેખનની કઈ શૈલીમાં પત્રનો જમણો ભાગ બિલકુલ ખાલી લાગે છે ?  
 (A) હેગિંગ ઇન્ડેન્ટેડ શૈલી (B) ફુલ્લી ઇન્ડેન્ટેડ શૈલી  
 (C) ફુલ્લી બ્લોકડ શૈલી (D) મોડિફાઈડ બ્લોક શૈલી
- (178) અમેરિકન પદ્ધતિ મુજબ સંબોધન પછી કયું ચિહ્ન મુકાય છે ?  
 (A) પૂર્ણવિરામ (B) અલ્પવિરામ (C) અર્ધવિરામ (D) મહાવિરામ
- (179) પેઢીના બેન્કના કયા પ્રકારના ખાતાને પેઢીના અરીસા સમાન ગણવામાં આવે છે ?  
 (A) રિકરિંગ ખાતાને (B) બચત ખાતાને (C) ચાલુ ખાતાને (D) સંયુક્ત ખાતાને

- (180) ઓર્ડર રદ કરતો પત્ર કેવી ખાતરી આપવાની સાથે પૂરો થવો જોઈએ ?  
 (A) સહકારની (B) ધીરજની (C) આભારની (D) દિલગીરીની
- (181) નીચેનામાંથી સૂક્ષ્મ અધ્યાપનનો અંતિમ તબક્કો કયો છે ?  
 (A) પુનઃ આયોજનનો તબક્કો (B) પ્રતિપોષણનો તબક્કો  
 (C) પુનઃ પ્રતિપોષણનો તબક્કો (D) શિક્ષણનો તબક્કો
- (182) મેળવેલા જ્ઞાનનો તદ્દન નૂતન અને નિશ્ચિત કે અનિશ્ચિત પરિસ્થિતિમાં ઉપયોગ કરવાની શક્તિ-સામર્થ્ય કે ક્ષમતાને શું કહે છે ?  
 (A) ઉપયોજન (B) જ્ઞાનની સમજ (C) વિશ્લેષણ (D) સંશ્લેષણ
- (183) વિદ્યાર્થીની મૌખિક અભિવ્યક્તિને અસરકારક બનાવવાનો ઉપાય નીચેમાંથી કયો છે ?  
 (A) શિક્ષક દ્વારા વાર્તાકથન (B) એકપાત્રીય અભિનય  
 (C) ક્વીઝ સ્પર્ધાનું આયોજન (D) વક્તૃત્વ સ્પર્ધાનું આયોજન
- (184) પાઠ્યપુસ્તકના પ્રકરણ પર QR કોડ આપેલ છે. તે કઈ એપ્લિકેશન સાથે સ્કેન કરવામાં આવે છે ?  
 (A) AYUSH (B) DIKSHA (C) ODL (D) WHATSAPP
- (185) વર્ગખંડમાં એક તાસ દરમિયાન જે મુદ્દો શીખવવાનો છે તેના માટે શિક્ષક પાસે મુખ્ય કઈ પૂર્વ તૈયારી હોવી જોઈએ ?  
 (A) પાઠ્ય પુસ્તક (B) મૂલ્યાંકન કસોટી (C) સંદર્ભ પુસ્તક (D) આયોજન
- (186) શાળાકીય વાર્ષિક પરીક્ષા પદ્ધતિમાં નીચેના પૈકી કઈ બાબત લાગુ પડતી નથી ?  
 (A) વિદ્યાર્થીના વ્યક્તિત્વનાં પાસાંઓનું મૂલ્યાંકન થાય છે.  
 (B) લેખિત અભિવ્યક્તિ દ્વારા તેની સિદ્ધિનું માપન થાય છે.  
 (C) કથન અભિવ્યક્તિનું મૂલ્યાંકનમાં સ્થાન નથી.  
 (D) પરીક્ષા વિદ્યાર્થીએ લખીને આપાની હોય છે.
- (187) શિક્ષકે વર્ગખંડમાં વિષયાભિમુખ કૌશલ્ય હસ્તગત કરવા માટે કયા પ્રકારનું અનિચ્છનીય વર્તન કરવાનું ટાળવું જોઈએ ?  
 (A) કડક વલણ (B) સાહજિકતા પૂર્વકનું વર્તન  
 (C) હાસ્ય પૂર્વકનું વર્તન (D) સાતત્યભંગનું વર્તન
- (188) કસોટીની રચના માટે ત્રિપરિમાણદર્શક કોષ્ટક (Blue Print) ની રચના શાના આધારે કરવામાં આવે છે ?  
 (A) હેતુઓ આધારિત ગુણભાર નક્કી કરવો.  
 (B) વિષયવસ્તુ આધારિત ગુણભાર નક્કી કરવો  
 (C) પ્રશ્નના પ્રકાર આધારિત ગુણભાર નક્કી કરવો.  
 (D) ઉપરોક્ત ત્રણેય બાબતોને ધ્યાનમાં લઈને ત્રિપરિમાણ દર્શક કોષ્ટક રચવું.
- (189) ઉપચારાત્મક કાર્યમાં વિદ્યાર્થીઓની ભૂલોનો ઉપચાર કરવામાં આવે છે.  
 (A) સાચું (B) ખોટું (C) અંશતઃ સાચું (D) અંશતઃ ખોટું
- (190) રજૂ થયેલા ઉદાહરણોના અભ્યાસથી વિદ્યાર્થીઓ જે સિદ્ધાંત તારવે તેને કઈ પદ્ધતિ કહેવાય છે ?  
 (A) અર્થબોધ પદ્ધતિ (B) નિગમન પદ્ધતિ (C) આગમન પદ્ધતિ (D) પ્રત્યક્ષ પદ્ધતિ

- (191) પ્રત્યક્ષ પદ્ધતિ અન્ય કયા નામે ઓળખાય છે.  
 (A) અર્થબોધ પદ્ધતિ (B) પરોક્ષ પદ્ધતિ (C) આગમન પદ્ધતિ (D) પ્રાકૃતિક પદ્ધતિ
- (192) પાઠ આયોજનનો ફાયદો જણાવો.  
 (A) પાઠ આયોજનથી શિક્ષણ કાર્ય માત્ર જડ, યુસ્ત અને યાંત્રિક બને છે.  
 (B) પાઠ આયોજનથી શિક્ષણ માહિતીપ્રધાન બને છે, વિદ્યાર્થીઓ નિષ્ક્રિય રહે છે.  
 (C) પાઠ આયોજનથી શિક્ષણ વિષયકેન્દ્રી બને છે, વિદ્યાર્થી કેન્દ્રી રહેતો નથી.  
 (D) પાઠ આયોજનથી અધ્યાપન કાર્ય સુઆયોજિત, નિયમિત, પદ્ધતિસરનું અને અસરકારક બને છે.
- (193) નીચેના પૈકી કઈ શિક્ષણ પદ્ધતિ એ અધ્યેતાકેન્દ્રી શિક્ષણ પદ્ધતિ નથી ?  
 (A) પ્રોજેક્ટ પદ્ધતિ (B) પ્રયોગ પદ્ધતિ (C) વ્યાખ્યાન પદ્ધતિ (D) જૂથ ચર્ચા પદ્ધતિ
- (194) વ્યાખ્યાન પદ્ધતિથી શૈક્ષણિક કાર્ય કરાવવાથી શો ફાયદો થાય છે ?  
 (A) તે શિક્ષક કેન્દ્રી હોવાથી વિદ્યાર્થી-શિક્ષક વચ્ચે આંતરક્રિયા સંભવિત નથી.  
 (B) માહિતી પ્રધાન એકમો વાળો લાંબો અભ્યાસક્રમ નિર્ધારિત સમયમાં પૂર્ણ કરી શકાય છે.  
 (C) વિદ્યાર્થી નિષ્ક્રિય શ્રોતા બની રહે છે.  
 (D) વિદ્યાર્થીઓની વિષયવસ્તુને ગોખવાની વૃત્તિ પ્રબળ બને છે.
- (195) વિદ્યાર્થીઓમાં વૈજ્ઞાનિક વલણો, સર્જનાત્મકતા, તાર્કિક ચિંતન, જિજ્ઞાસાવૃત્તિ, સંશોધનાત્મકતા કેળવવા હેતુસરની અને હૃદયપૂર્વક સહઅધ્યેતાઓ સાથે હાથ ધરવામાં આવતી પ્રવૃત્તિને શું કહે છે ?  
 (A) પ્રોજેક્ટ પદ્ધતિ (B) વ્યાખ્યાન પદ્ધતિ (C) કથન-ચર્ચા પદ્ધતિ (D) સ્વાધ્યાય પદ્ધતિ
- (196) માઈક્રોટીચીંગમાં સમય મર્યાદા કેટલી હોય છે.  
 (A) 4 થી 6 મિનીટ (B) 5 થી 7 મિનીટ (C) 3 થી 5 મિનીટ (D) 5 થી 10 મિનીટ
- (197) નિરીક્ષીત અભ્યાસ પદ્ધતિની મર્યાદા કઈ છે ?  
 (A) કાર્યનો અનુભવ મળતો નથી. (B) શિક્ષણમાં વ્યક્તિગત શિક્ષણ શક્ય બને છે.  
 (C) વિદ્યાર્થીઓને અધ્યયનથી આત્મસંતોષ મળે છે. (D) નવરાશના સમયનો ઉપયોગ કરવાની ટેવ પડે છે.
- (198) વર્ગખંડમાં વિદ્યાર્થીઓનું ધ્યાન કેન્દ્રીત કરી તેને સાતત્યપૂર્ણ ટકાવી રાખવા માટે શિક્ષકના વર્તન તરાહમાં કરવાના કૌશલ્યને શું કહે છે ?  
 (A) વિષયાભિમુખ કૌશલ્ય (B) ઉત્તેજના પરિવર્તન કૌશલ્ય  
 (C) સ્પષ્ટીકરણ કૌશલ્ય (D) કા. પા. કૌશલ્ય
- (199) વિષયાભિમુખ કૌશલ્યના ઈચ્છીત ઘટકોમાં કયા ઘટકનો સમાવેશ ના થઈ શકે ?  
 (A) પૂર્વજ્ઞાનનો ઉપયોગ કરવો (B) યોગ્ય પ્રયુક્તિનો ઉપયોગ કરવો  
 (C) કૃત્રિમ રીતે મથાળું કઢાવવું (D) યોગ્ય પદ્ધતિનો ઉપયોગ કરવો
- (200) વર્ગખંડમાં કેવા પ્રકારના પ્રશ્નો પૂછવાનું ટાળવું જોઈએ ?  
 (A) હા કે ના માં ઉત્તર મળે તેવા. (B) વિષયવસ્તુના મુદ્દા સાથે સુસંગત હોય તેવા.  
 (C) વિષયવસ્તુના મુદ્દા સાથે સુસંગત હોય તેવા. (D) પ્રશ્નોમાં વૈવિધ્ય હોય તેવા.



રફ કામ માટેનું પેઈજ

## રફ કામ માટેનું પેઈજ

પરીક્ષા પૂરી થયા બાદ ઉત્તરપત્ર (OMR SHEET) ખંડ નિરીક્ષકને ખુલ્લું (કવરમાં મુક્યા વગર) પરત કર્યા બાદ જ પરીક્ષા ખંડ છોડવાનો રહેશે. તેમ કરવામાં કસૂર થયેથી શિસ્તભંગના પગલાં ગણી પરીક્ષા માટે જે તે ઉમેદવારને ગેરલાયક ઠેરવવામાં આવશે.