

GEOGRAPHY

(Gujarati Medium)

કેટેગરી

A

પરીક્ષાર્થીનો બેઠક ક્રમાંક

--	--	--	--	--	--	--	--	--	--

પરીક્ષાનો બ્લોક નંબર

--

પરીક્ષાર્થીની સહી

--

બ્લોક સુપરવાઈઝરની સહી

--

પરીક્ષાર્થીઓ માટે અગત્યની સૂચનાઓ

- તમને કહેવામાં ન આવે ત્યાં સુધી પ્રશ્ન પુસ્તિકા ખોલવી નહીં.
- પરીક્ષા દરમ્યાન પરીક્ષાર્થી પાસેથી કોઈ પણ સાહિત્ય ગાઈડ, માર્ગદર્શિકા, કાપલી, સ્લીપો, અન્ય હસ્ત લિખિત કે પ્રિન્ટેડ સાહિત્ય, મોબાઈલ ફોન, કેલક્યુલેટર, સ્પાય કેમરા, હેડ ફોન કે અન્ય વીજાણું ઉપકરણો હોવાનું જણાશે તો પરીક્ષાર્થીને ગેરલાયક ગણવામાં આવશે.
- ચાલુ પરીક્ષા દરમ્યાન અંદરોઅંદર વાતચીત કરવી, અવાજ કરવો કે સુપરવાઈઝરની સૂચનાઓનું ઉલ્લંઘન કરવું તે ગેરશિસ્ત ગણાશે.
- પ્રશ્નપત્ર મળે કે તરત જ ઉત્તરપત્ર (OMR SHEET) માં નિયત કરેલ જગ્યાએ પોતાનો બેઠક નંબર સ્વચ્છ અક્ષરે લખવો.
- ઉત્તરપત્ર (OMR SHEET) માં નિશ્ચિત જગ્યા સિવાય પરીક્ષાર્થીએ પોતાનો બેઠક ક્રમાંક લખવો નહીં તથા પોતાની આગવી ઓળખ છતી થાય તેવી નામ સહિતની અન્ય કોઈ પણ પ્રકારની નિશાની કરવાની સખ્ત મનાઈ છે. તેમ છતાં પણ કોઈ પણ નિશાની કે ઓળખ માલૂમ પડશે તો તેને સંપૂર્ણ ગેરશિસ્ત ગણવામાં આવશે અને પરીક્ષા માટે ગેરલાયક ગણવામાં આવશે.
- ઉત્તરપત્ર (OMR SHEET) ના પ્રમાણપત્રમાં પરીક્ષાર્થી તથા સુપરવાઈઝર બંનેની સહી ફરજિયાત છે. બંનેની સહી વિનાના ઉત્તરપત્ર (OMR SHEET) નું મુલ્યાંકન થશે નહીં. જેથી ઉમેદવારે સુપરવાઈઝરશ્રીની સહી અવશ્ય મેળવી લેવી.
- પરીક્ષાર્થીએ બ્લ્યુ/બ્લેક બોલપોઈન્ટ પેનનો ઉપયોગ કરી શકાશે. અન્ય શાહી કે પેન કે પેન્સિલ તથા સફેદ શાહીનો ઉપયોગ કરી શકશે નહીં.
- પ્રશ્નપત્રમાં આપેલ વિકલ્પોમાં કોઈપણ પ્રકારની નિશાની કરવી નહીં.
- આ કસોટી પત્રમાં કુલ -200 પ્રશ્નો છે. પ્રત્યેક પ્રશ્નનો ઉત્તર A, B, C અને D પૈકી કોઈ એક છે. દરેક પ્રશ્ન માટે ચાર વિકલ્પો આપવામાં આવેલ છે. તમારે બધા જ પ્રશ્નોના ઉત્તર આપવાના છે.
ઉદાહરણ તરીકે : ગુજરાતનું પાટનગર કયું છે ?
(A) અમદાવાદ (B) ગાંધીનગર (C) વડનગર (D) પાટણ
અહીં જવાબ (B) ગાંધીનગર જવાબ સાચો હોય, OMR SHEET માં વિકલ્પ (B) નું વર્તુળ ઘૂંટવાનું (Encode) કરવાનું થાય.
A ● C D
- પ્રત્યેક સાચા જવાબદીઠ 1 (એક) ગુણ મળવાપત્ર થશે. પ્રત્યેક ખોટા ઉત્તર માટે 0.25 ગુણ કપાશે (નેગેટીવ 0.25) જો ઉમેદવાર કોઈ પ્રશ્નનો ઉત્તર આપવા માંગતા ન હોય તો વિકલ્પ E પસંદ કરવાનો રહેશે. વિકલ્પ E માટે નેગેટીવ ગુણ રહેશે નહીં.
- છેકછાકવાળા જવાબ તથા એકથી વધારે વિકલ્પમાં આપેલ જવાબ તથા બ્લેડ કે રબ્બર કે વાઈટનર (સફેદ શાહી) નો ઉપયોગ કરી બદલાવેલ જવાબ માટે 0.25 નેગેટીવ ગુણ મળશે.
- પરીક્ષા પૂરી થયા બાદ ઉત્તરપત્ર (OMR SHEET) બ્લોક સુપરવાઈઝરને પરત કર્યા બાદ વર્ગખંડ છોડવાનો રહેશે. તેમ કરવામાં કસૂર થયેથી શિસ્ત ભંગના પગલાં ગણી પરીક્ષા માટે જે તે ઉમેદવારને ગેરલાયક ઠેરવવામાં આવશે.
- આ પરીક્ષાનો સમય 180 મિનિટનો છે.
- સૌથી યોગ્ય વિકલ્પ જવાબ તરીકે ધ્યાને લેવાશે.

રફ કામ માટેનું પેઈજ

- (1) 'સંવિધાનને વફાદાર રહેવાની અને તેના આદર્શો અને સંસ્થાઓના રાષ્ટ્રધ્વજનો અને રાષ્ટ્રગીતનો આદર કરવાની જોગવાઈ ભારતના સંવિધાનની કઈ કલમમાં દર્શાવવામાં આવી છે ?'
- (A) 51. ક (ક) (B) 51. ક (છ) (C) 51. ક (ડ) (D) 51. ક (ગ)
- (2) ભારતીય સંવિધાનના ભાગ-4માં 'રાજનીતિના માર્ગદર્શક સિદ્ધાંતો' ની જોગવાઈ કઈ કલમથી ક્યાં સુધીની કલમમાં કરવામાં આવેલ છે ?
- (A) 36 થી 45 (B) 35 થી 48 (C) 34 થી 50 (D) 36 થી 51
- (3) દરિયાના જળનું ઘનત્વ (Density) વધતું જાય છે, તેમ તેમ.....
- (A) ઉંડાણ અને ખારાશ ઘટે છે. (B) ઉંડાણ વધે છે અને ખારાશ ઘટે છે.
(C) ઉંડાણ ઘટે છે અને ખારાશ વધે છે. (D) ઉંડાણ અને ખારાશ વધે છે.
- (4) ભારતની પ્રાચીનતમ ક્રુટબોલ ટૂર્નામેન્ટ કઈ છે ?
- (A) સંતોષ ટ્રાફી (B) ડૂરંડ કપ
(C) રોવર્સ કપ (D) આઈ. એફ. એ. શીલ્ડ
- (5) હડપ્પા સંસ્કૃતિના પ્રમુખ સ્થળ 'લોથલ'ની શોધ કોણે કરી હતી ?
- (A) વી. ડી. શર્મા (B) યજ્ઞદત્ત શર્મા
(C) એસ. આર. રાવ (D) પ્રો. સુરજભાન
- (6) વધારે મેહસુલ પ્રાપ્તિ માટે કરવેરા ઉઘરાવવાના સંદર્ભમાં વિકાસના હેતુથી કયા કાળને પ્રમુખ માનવામાં આવે છે ?
- (A) મોર્યકાળ (B) ઉત્તર વૈદિકકાળ
(C) ગુપ્તકાળ (D) છઠ્ઠી શતાબ્દિ ઈસ્વી. પૂર્વ
- (7) પ્રાથમિક શિક્ષણમાં પ્રવેશ માટે લંબાવેલી મુદત, શાળાના શૈક્ષણિક વર્ષ શરૂ થયાથી કેટલા મહિના સુધીની રહેશે ?
- (A) 5 મહિના (B) 3 મહિના (C) 9 મહિના (D) 6 મહિના
- (8) રાષ્ટ્રીય શિક્ષણનીતિ-2020 માં સામાજિક અને આર્થિક રીતે પછાત વિસ્તારો માટે વિદ્યાર્થીઓ અને શિક્ષકનો રેશિયો કેટલો નિર્ધારિત કરેલ છે ?
- (A) 30:1 (B) 35:1 (C) 25:1 (D) 20:1
- (9) રાષ્ટ્રીય શિક્ષણનીતિ-2020માં નેશનલ ક્યુરીક્યુલમ ફ્રેમવર્કને કેટલા વર્ષમાં રીવાઈઝ્ડ અને અદ્યતન રાખવાની ભલામણ કરવામાં આવેલ છે ?
- (A) પાંચ વર્ષ (B) ત્રણ વર્ષ (C) આઠ વર્ષ (D) પ્રતિવર્ષ
- (10) 'જ્યાં સુધી માતૃભાષા (ગુજરાતી)ને હું ઉચ્ચ સ્થાન પર નહીં મૂકું ત્યાં સુધી હું પાઘડી નહીં બાંધું' એવું કોણે કહ્યું હતું ?
- (A) કવિ પ્રેમાનંદ (B) કવિ નર્મદ (C) કવિ કલાપી (D) કવિ સુન્દરમ્
- (11) 'વિશ્વ વસતી દિન' ક્યારે ઉજવવામાં આવે છે ?
- (A) 11 ઓગસ્ટ (B) 11 ઓક્ટોબર (C) 11 જૂન (D) 11 જુલાઈ
- (12) આગામી ઓલીમ્પીક કઈ જગ્યાએ યોજનાર છે ?
- (A) જાપાન (ટોક્યો) (B) ચીન (શાંઘાઈ)
(C) ફ્રાન્સ (પેરીસ) (D) ઈંગ્લેન્ડ (લંડન)

- (13) નવી ખાનગી માધ્યમિક શાળાની મંજૂરી કોણ આપે છે ?
 (A) જિલ્લાશિક્ષણાધિકારી (B) નિયામક, શાળાઓની કચેરી
 (C) શિક્ષણ સચિવ - શિક્ષણ વિભાગ (D) ગુજરાત માધ્યમિક અને ઉ.મા. શિક્ષણ બોર્ડ
- (14) 'મારે ટોડલે બેઠો રે મોર' ગીતને કોણે ચિરસ્મરણીય કર્યું ?
 (A) દમયંતી બરડાઈ (B) મીનાબેન પટેલ
 (C) દિવાળીબેન ભીલ (D) ગીતાબેન રબારી
- (15) ભારતનું કયું નગર 'સિલિકોન વેલી' તરીકે જાણીતું બન્યું છે ?
 (A) દિલ્લી (B) મુંબઈ (C) કલકત્તા (D) બેંગલુરુ
- (16) હાલમાં ગુજરાતમાં વર્લ્ડ બેંકના વડા તેમજ અમેરિકાના ટ્રેઝરી સેક્રેટરીએ નીચે પૈકી કઈ શૈક્ષણિક સંસ્થાની મુલાકાત લીધી હતી ?
 (A) જી.સી.ઈ.આર.ટી. (B) વિદ્યા સમીક્ષા કેન્દ્ર
 (C) ગુજરાત યુનિવર્સિટી (D) આયુર્વેદ યુનિવર્સિટી
- (17) દૂરવર્તી શિક્ષણમાં અભ્યાસ કેવી રીતે થઈ શકે ?
 (A) કોલેજ ગ્રંથાલયમાં છપાયેલી અધ્યયન સામગ્રી દ્વારા
 (B) જ્યાં રહેતા હોય ત્યાં માધ્યમો દ્વારા તથા છપાયેલી અધ્યયન સામગ્રી દ્વારા
 (C) કોલેજમાં અધ્યયનની વિવિધ પદ્ધતિઓ દ્વારા
 (D) કોલેજમાં હાજરી આપ્યા સિવાય સ્વપ્રયત્નો દ્વારા
- (18) 'શિક્ષણમાં સંપૂર્ણ ગુણવત્તા વ્યવસ્થાપન' પુસ્તકના લેખક કોણ છે ?
 (A) પ્રો. યશપાલ (B) ડૉ. ગુણવંત શાહ
 (C) પ્રો. મર્મર મુખોપાધ્યાય (D) ડૉ. ભદ્રાયુ વચ્છરાજાની
- (19) કેન્દ્ર સરકાર દ્વારા શરૂ કરવામાં આવેલી 'વિદ્યાંજલિ' યોજના શાના માટે છે ?
 (A) વાંચન વિકસાવવા માટેની યોજના
 (B) શાળા પુસ્તકાલય સમૃદ્ધ બનાવવા પુસ્તક દાન માટેની યોજના
 (C) શાળાની વિવિધ શૈક્ષણિક પ્રક્રિયામાં રસ ધરાવતાં સમાજના વ્યક્તિઓ માટે શિક્ષણ દાન માટેની યોજના
 (D) નબળા બાળકોને દત્તક લઈ સઘન શિક્ષણ આપવાની યોજના
- (20) 21 મી સદીના પડકારોને પહોંચી વળવા માટે ડેલોર્સ રિપોર્ટ Learning The Treasure within માં શિક્ષણના કયા બે સ્તંભનો ઉલ્લેખ કર્યો છે ?
 (i) ટકાઉ વિકાસ પ્રાપ્ત કરતાં શીખવું.
 (ii) શાંતિપૂર્ણ સહઅસ્તિત્વ સિદ્ધ કરતાં શીખવું.
 (iii) શીખતાં શીખવું
 (iv) સહજીવન શીખવું
 (A) i, ii (B) i, iii (C) iii, iv (D) ii, iii
- (21) કયું લક્ષણ અવૈધિક શિક્ષણનું છે ?
 (A) પરીક્ષા અને સર્ટિફિકેટનું મહત્ત્વ (B) શીખવનારની ઉચ્ચ લાયકાત
 (C) બાળકમાં જીવન-કૌશલ્યોનો વિકાસ કરવાનો ઉદ્દેશ (D) સાક્ષરતા કરતાં આજીવિકાલક્ષી શિક્ષણ પર ભાર

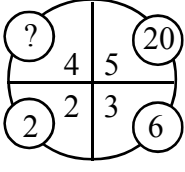
- (22) વર્ગ-શિક્ષણ દરમિયાન આદર્શવાદી શિક્ષક નીચેના પૈકી કઈ પદ્ધતિનો ઉપયોગ નહીં કરે ?
 (A) આગમન (B) ચર્ચા-સંવાદ (C) પ્રશ્નોત્તરી (D) પ્રવચન
- (23) ગાંધીજીએ આપેલી શિક્ષણની વ્યાખ્યામાં શિક્ષણનું કયું ધ્યેય પ્રગટ થાય છે ?
 (A) વ્યક્તિલક્ષી (B) સામાજિક (C) વિશિષ્ટ (D) આધ્યાત્મિક
- (24) “બાળક એ કંઈ પ્રૌઢની લઘુ આવૃત્તિ નથી.” - આ ગૃહીત/ધારણા કોણે રજૂ કરી ?
 (A) ડ્યૂઈ (B) રૂસો (C) પ્લેટો (D) સોક્રેટીસ
- (25) શિક્ષણના ત્રણ ‘વાદ’ અને તેમાં સ્વીકૃત થયેલા વિદ્યાર્થીના સ્વરૂપ અંગેના ખ્યાલોને યોગ્ય રીતે જોડો :
 1. આદર્શવાદ અ. સામાજિક સ્વરૂપ
 2. પ્રકૃતિવાદ બ. આત્મિક સ્વરૂપ
 3. વ્યવહારવાદ ક. શારીરિક સ્વરૂપ
 સાચો વિકલ્પ પસંદ કરો.
 (A) 1-બ, 2-અ, 3-ક, (B) 1-અ, 2-ક, 3-બ,
 (C) 1-ક, 2-બ, 3-અ, (D) 2-બ, 2-ક, 3-અ,
- (26) “વાસ્તવના સ્વરૂપનું તાર્કિક અન્વેષણ એ તત્ત્વજ્ઞાન છે.” - આ વ્યાખ્યા કોણે આપી છે ?
 (A) ડૉ. રાધાકૃષ્ણાન્ (B) મહર્ષિ અરવિંદ
 (C) રવિન્દ્રનાથ ટાગોર (D) જે. કૃષ્ણમૂર્તિ
- (27) નીચેનામાંથી કઈ પ્રક્રિયા - સાચી રીતે આગળ વધે છે ?
 (A) તત્ત્વજ્ઞાન - શિક્ષણ ઉદ્દેશો - પાઠ્યક્રમ - અભ્યાસક્રમ
 (B) તત્ત્વજ્ઞાન - શિક્ષણ ઉદ્દેશો - અભ્યાસક્રમ - પાઠ્યક્રમ
 (C) શિક્ષણ ઉદ્દેશો - તત્ત્વજ્ઞાન - અભ્યાસક્રમ - પાઠ્યક્રમ
 (D) પાઠ્યક્રમ - અભ્યાસક્રમ - તત્ત્વજ્ઞાન - શિક્ષણ ઉદ્દેશો
- (28) “વિદ્યાર્થીમાં રહેલા સદ્અંશો, સદ્વૃત્તિઓ અને સુરુચિઓ જાગૃત કરવાનું, વિકસાવવાનું અને યોગ્ય માર્ગે વાળવાનું કામ કેળવણીનું છે ?” - આ વિચાર કોણે આપ્યો ?
 (A) વિનોબાજી (B) નાનાભાઈ ભટ્ટ
 (C) ગાંધીજી (D) શ્રી અરવિંદ
- (29) શિક્ષણની કઈ વિચારધારામાં વસ્તુ કરતાં વિચારને વધુ મહત્ત્વ આપવામાં આવે છે ?
 (A) પ્રકૃતિવાદ (B) આદર્શવાદ
 (C) વ્યવહારવાદ (D) અસ્તિત્વવાદ
- (30) વ્યવહારવાદ અનુસાર શિક્ષણ આપવાના હેતુઓ સંદર્ભે કયો હેતુ યોગ્ય નથી ?
 (A) બાળક અનુભવ મળતા જ નવા પ્રકારના જ્ઞાનનું સર્જન કરે છે.
 (B) બાળકમાં સર્જનાત્મક શક્તિનો વિકાસ કરવો જોઈએ.
 (C) બાળકનો આધ્યાત્મિક વિકાસ કરવો જોઈએ.
 (D) બાળકને સમસ્યા ઉકેલ રીતથી વાકેફ કરવો જોઈએ.

- (31) સમગ્ર જીવનની અગીયાર અવસ્થાઓ પૈકી નીચે આપેલી અવસ્થાઓને ક્રમાનુસાર ગોઠવો.
 (A) બાલ્યાવસ્થા
 (B) વૃદ્ધાવસ્થા
 (C) પ્રારંભિક પુખ્તાવસ્થા
 (D) મધ્યવય
 (E) પ્રારંભિક બાલ્યાવસ્થા
 (A) E, A, B, C, D (B) A, E, C, D, B (C) A, E, D, C, B (D) A, E, B, C, D
- (32) અધ્યાપન મનોવિજ્ઞાન
- (A) વાતાવરણની દેન છે.
 (B) વારસો અને વાતાવરણની વચ્ચેની આંતરક્રિયાનું પરિણામ છે.
 (C) વારસાનું અસરનું પરિણામ છે.
 (D) જે મનોવિજ્ઞાનના સિદ્ધાંતોના ઉપયોગ દ્વારા અધ્યયનની પ્રક્રિયાની સુધારણા માટે સિદ્ધાંતો અને નિયમો આપે છે.
- (33) અહં - આદર્શની રચના એ કઈ અવસ્થા દરમિયાન વ્યક્તિત્વ વિકાસનું લક્ષણ છે ?
 (A) તુરુણાવસ્થા (B) પ્રારંભિક બાલ્યાવસ્થા (C) ઉત્તર - બાલ્યાવસ્થા (D) વૃદ્ધાવસ્થા
- (34) સિદ્ધાંતો અને તેના જનકનાં સાચાં જોડકાં બનાવો.
 1) બહુ અવયવ સિદ્ધાંત a) ગોલમેન
 2) સાંવેગિક બુદ્ધિ સિદ્ધાંત b) સ્ટર્નબર્ગ
 3) બહુવિધબુદ્ધિ સિદ્ધાંત c) થર્સ્ટન
 4) ત્રિ-સ્વરૂપિય બુદ્ધિસિદ્ધાંત d) ગાર્ડનર
 (A) 1) c, 2) a, 3) d, 4) b (B) 1) a, 2) c, 3) b, 4) d
 (C) 1) d, 2) c, 3) b, 4) a (D) 1) a, 2) b, 3) d, 4) c
- (35) શૈક્ષણિક મનોવિજ્ઞાનનું જ્ઞાન ધરાવતા શિક્ષક...
 1) વિદ્યાર્થીની કક્ષાને અનુરૂપ અધ્યાપનની તૈયારી કરે છે.
 2) યોગ્ય ઝડપે આગળ વધે છે.
 3) શિક્ષક દ્વારા રજૂ થતું વિષયવસ્તુ વિદ્યાર્થીની ક્ષમતાને અનુરૂપ હોય છે.
 (A) (1) અને (2) સાચાં છે. (B) (2) અને (3) સાચાં છે.
 (C) (1), (2) અને (3) સાચાં છે. (D) (1) અને (3) સાચાં છે.
- (36) અધ્યયનના નિયમો (Laws of Learning) સંદર્ભે નીચે પૈકી કયો નિયમ લાગુ પડતો નથી ?
 (A) અસરનો નિયમ (B) પુનરાવર્તનનો નિયમ (C) ભૂલનો નિયમ (D) તત્પરતાનો નિયમ
- (37) કઈ અધ્યયન પદ્ધતિ દ્વારા વિદ્યાર્થીઓ 'કઈ રીતે શીખવું' તે શીખે છે ?
 (A) પ્રયત્ન અને ભૂલ (B) કારક અભિસંધાન
 (C) ઈરણ ઘટાડાનો સિદ્ધાંત (D) અન્વેષણાત્મક અધ્યયન
- (38) 'પોતાના દોષો બીજામાં જોવાનો પ્રયત્ન કરવો.' - આ કયા પ્રકારની બચાવ પ્રયુક્તિ છે ?
 (A) પ્રક્ષેપણ (B) દમન (C) સ્થગિતતા (D) પ્રાયશ્ચિત

- (39) એરિક એરિકશનના મતે વ્યક્તિત્વ પર અસર કરતાં પરિબળો પૈકી નીચેનામાંથી કયું લાગુ પડતું નથી ?
 (A) અહમ્ (B) સામાજિકતા (C) સંસ્કૃતિ (D) આનુવંશિકતા
- (40) નીચેના પૈકી કઈ બાબત શાસ્ત્રીય અભિસંધાન માટે લાગુ પડતી નથી ?
 (A) પાવલોવે કૂતરા પર પ્રયોગો કરી આ અભિસંધાનનો સિદ્ધાંત આપ્યો.
 (B) આ અભિસંધાનમાં ઉદ્દીપક હોવો જરૂરી છે.
 (C) આ અનુસંધાન R પ્રકારનું અભિસંધાન પણ કહેવાય છે.
 (D) મુખ્ય ઉદ્દીપક સાથે ગૌણ ઉદ્દીપક મૂકવામાં આવે છે.
- (41) વ્યક્તિને કોઈ વસ્તુ, અન્ય વ્યક્તિ કે પ્રવૃત્તિ પર ધ્યાન આપવા માટે પ્રેરિત કરતી શક્તિ એટલે શું ?
 (A) પ્રેરણા (B) બુદ્ધિ
 (C) રસ (અભિરુચિ) (D) અભિયોગ્યતા
- (42) અધ્યયન પ્રક્રિયાની સમજ પ્રયોગો દ્વારા આપનારમાં નીચેના પૈકી કોનો સમાવેશ થતો નથી ?
 (A) પાવલોવ (B) સ્કીનર (C) સ્ટ્રોંગ (D) થોર્નડાઈક
- (43) ગણિતમાં નિષ્ફળ જનાર વ્યક્તિ જ્યારે ચિત્રકામમાં પ્રાવીણ્ય મેળવીને સિદ્ધિ હાંસલ કરે તો તેને કઈ બચાવપ્રયુક્તિ કહેવાય ?
 (A) યૌક્તિકીકરણ (B) પ્રક્ષેપણ
 (C) ઊર્ધ્વીકરણ (D) ક્ષતિપૂર્તિ
- (44) મેદ પ્રધાન અને સ્નાયુ પ્રધાન એવા વ્યક્તિત્વના પ્રકારો કયા મનોવૈજ્ઞાનિકે રજૂ કર્યા છે ?
 (A) શેલ્ડન (B) ટર્મેન (C) યુંગ (D) કેશમર
- (45) 1927માં પાંચ વિભાગમાં તૈયાર થયેલ રસસંશોધનિકાના રચયિતા મનોવૈજ્ઞાનિક કોણ હતા ?
 (A) કુડર (B) થર્સ્ટન (C) સ્ટ્રોંગ (D) ગીલફર્ડ
- (46) ગુજરાતમાં 1960 માં યાંત્રિક અભિયોગ્યતા કસોટી કોણે પ્રમાણિત કરી હતી ?
 (A) ડૉ. કે.જી. દેસાઈ (B) ડૉ. જે. સી. પરીખ
 (C) પ્રો. ટી. પી. લેલે (D) ડૉ. આર. બી. નાયક
- (47) બેન્જમિન બ્લૂમે રજૂ કરેલ મૂલ્યાંકન ત્રિકોણમાં કઈ બાબત સમાવિષ્ટ નથી ?
 (A) સાહિત્ય નિર્માણ (B) અધ્યાપન અનુભવો
 (C) શિક્ષણના હેતુઓ (D) મૂલ્યાંકન
- (48) નીચેના પૈકી કયું ક્રિયાત્મક કસોટીનું લક્ષણ છે ?
 (A) બોલ્યા વગર જવાબ આપી શકાય નહિ.
 (B) મૂલ્યાંકન સામૂહિક રીતે હાથ ધરી શકાય.
 (C) જ્ઞાન, સમજ, ઉપયોજન અને કૌશલ્યોનું માપન થઈ શકે છે.
 (D) અનૌપચારિક રીતે હાથ ધરાય છે.
- (49) $Z = 3M - \bar{X}$ આ સૂત્ર દ્વારા શું શોધી શકાય છે ?
 (A) મધ્યક (B) વિચલન (C) મધ્યસ્થ (D) બહુલક

- (50) આંકડાશાસ્ત્રની દૃષ્ટિએ નીચેમાંથી કઈ માહિતી એ પ્રાથમિક માહિતી નથી.
 (A) સંશોધક દ્વારા સૌ પ્રથમ વખત અસલ સ્વરૂપે એકઠી કરાયેલ હોય તેવી માહિતી.
 (B) નેશનલ સેમ્પલ સર્વે ઓર્ગેનાઈઝેશન દ્વારા એકત્રિત કરાયેલ હોય તેવી ભારતની વસ્તી ગણતરીની માહિતી.
 (C) ભારતના રજિસ્ટ્રાર ઓફિસ, ન્યુ દિલ્લી દ્વારા મૃત્યુદર અને જન્મદરને લગતી પ્રકાશિત માહિતી.
 (D) ભારતની વસ્તી ગણતરીની માહતી જે U.N. Statistical Abstract માં પ્રકાશિત કરવામાં આવેલ હોય.
- (51) એક વર્ગખંડમાં નીચે મુજબની પ્રવૃત્તિઓ થતી જોવા મળે છે.
 1. શિક્ષક વિદ્યાર્થીઓ સમક્ષ સાતત્યપૂર્ણ રીતે વિવિધ ઊદાહરણો રજૂ કરે છે.
 2. શિક્ષક વિદ્યાર્થીઓને પોતાના દ્વારા રજૂ થયેલ ઊદાહરણો પરથી સામાન્ય સિદ્ધાંત તારવવાનું કહે છે.
 ઉપરોક્ત બે પ્રવૃત્તિઓને જોતા આપને શિક્ષણના કયા અભિગમનો ઉપયોગ થયેલ જોવા મળે છે.
 (A) આગમન અભિગમ (B) નિગમન અભિગમ
 (C) સમસ્યા ઊકેલ અભિગમ (D) પૂછપરછ અભિગમ
- (52) શિક્ષણમાં વિવિધ અભ્યાસક્રમો ટેકનોલોજીના માધ્યમથી વિદ્યાર્થીઓ સુધી પહોચાડવામાં ઉપયોગમાં આવતું પ્લેટફોર્મ DIKSHA એટલે ...
 (A) Digital Infrastructure for Knowledge Sharing (B) Digital Initiative for Knowledge Sharing
 (C) Digital Interactive for Knowledge Sharing (D) Digital Interface for Knowledge Sharing
- (53) ધોરણ - 11 અને ધોરણ - 12 ના NCERT આધારિત અભ્યાસક્રમ માટે SWAYAM MOOCS ના જુદાં જુદાં ઓનલાઈન કોર્સનું નિર્માણ થયેલ છે. MOOC ને નીચેનામાંથી કયા નામથી ઓળખવામાં આવે છે ?
 (A) Module open online courses (B) Massive open online courses
 (C) Mathematics open online courses (D) Management open online courses
- (54) બ્લુમ ટેક્સોનોમીના મુખ્ય ત્રણ સૂત્રોમાં નીચેનામાંથી કયા મુખ્યક્ષેત્રનો સમાવેશ થતો નથી ?
 (A) જ્ઞાનાત્મક (Cognitive) (B) ભાવાત્મક (Affective)
 (C) ક્રિયાત્મક (Psychomotor) (D) અનુભવાત્મક (Experiential)
- (55) રચનાત્મક મૂલ્યાંકનના સંદર્ભમાં નીચેનામાંથી શું સાચું નથી.
 (A) રચનાત્મક મૂલ્યાંકન એ વર્ગખંડ શિક્ષણનો એકભાગ છે.
 (B) રચનાત્મક મૂલ્યાંકન શિખવાની પ્રક્રિયા પર ભાર મૂકે છે.
 (C) રચનાત્મક મૂલ્યાંકન માટે અવલોકન, પ્રશ્નોત્તરી, વર્કસીટ, પ્રોજેક્ટ જેવી પદ્ધતિઓનો ઉપયોગ થાય છે.
 (D) રચનાત્મક મૂલ્યાંકન નિર્ધારિત પાઠ્યક્રમને ઉપયોગ કરીને ઔપચારિક રીતે કરવામાં આવે છે.
- (56) પાંચ લાકડી A, B, C, D અને S છે. A, B થી નાની પણ S થી લાંબી છે. C તેમાં સૌથી લાંબી છે. D, B થી થોડી નાની અને A થી થોડી મોટી છે. લાકડીને લંબાઈના ઉતરતા ક્રમમાં ગોઠવતાં ચોથા ક્રમે કઈ લાકડી આવશે ?
 (A) A (B) B (C) S (D) D
- (57) P, Q, R, S, T, V, W અને Z કેન્દ્ર તરફ મોં રાખીને ગોળાકાર ટેબલની આજુબાજુ બેઠા છે. દરેક ઉપરના ક્રમમાં બેઠા નથી. S, P ની જમણે ત્રીજા સ્થાને છે. P, V ની જમણે બીજા સ્થાને છે. R, V ની ડાબી બાજુ બીજા સ્થાને અને Q ની જમણે ત્રીજા સ્થાને છે. W, V ની સામે બેઠો છે. Z, T ની જમણે બીજા સ્થાને છે. તો T ની ડાબે પ્રથમ સ્થાને કોણ બેઠું છે ?
 (A) V (B) R (C) P (D) Q

(58) નીચેની આકૃતિમાં પ્રશ્નાર્થ ચિહ્નની જગ્યાએ શું આવે ?



- (A) 12 (B) 10 (C) 14 (D) 16

(59) વ્યક્તિ A પૂર્વ દિશામાં 6 મીટર ચાલે છે ત્યાંથી ઉત્તર દિશામાં 8 મીટર ચાલે છે. ત્યાંથી નૈઋત્ય દિશામાં 12 મીટર ચાલે છે તો વ્યક્તિ મૂળબિંદુથી કેટલો દૂર હશે ?

- (A) 10 મીટર (B) 2 મીટર (C) 26 મીટર (D) 4 મીટર

(60) શ્રેણી પૂર્ણ કરો.

4, 8, 9, 27, 16, 64, 25?.....

- (A) 101 (B) 98 (C) 100 (D) 125

(61) આપેલ શબ્દોને અંગ્રેજી મૂળાક્ષરોનાં ક્રમ પ્રમાણે ગોઠવો.

(1) TEACHER

(2) TRAINEE

(3) TUTION

(4) TUTORIAL

(5) TRAILER

- (A) 1, 2, 5, 3, 4 (B) 1, 5, 2, 4, 3 (C) 1, 5, 2, 3, 4 (D) 1, 2, 5, 4, 3

(62) નીચે આપેલ શ્રેણી પૂર્ણ કરો.

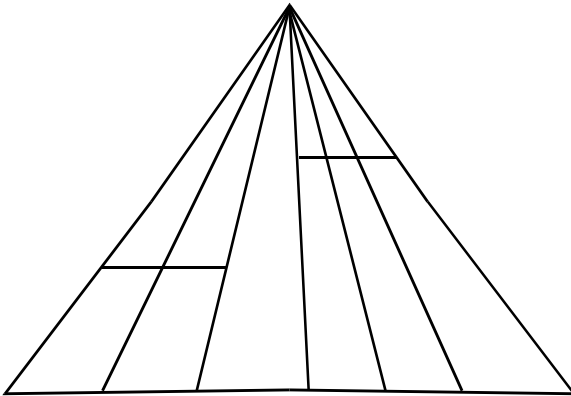
1, 2, 10, 37,?.....

- (A) 61 (B) 47 (C) 64 (D) 101

(63) આજે સોમવાર છે. 62 દિવસ પછી કયો વાર આવશે ?

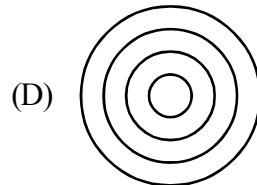
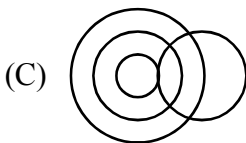
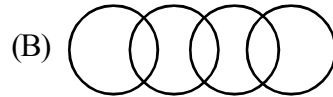
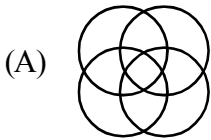
- (A) શનિવાર (B) રવિવાર (C) મંગળવાર (D) બુધવાર

(64) આકૃતિમાં કેટલા ત્રિકોણ છે ?



- (A) 21 (B) 24 (C) 27 (D) 28

- (65) એક વ્યક્તિ પૂર્વ દિશા તરફ મોં રાખીને ઊભો છે. તે 90° ના ખૂણે ઘડિયાળના કાંટાની વિરુદ્ધ દિશામાં ફરે છે. ફરી પાછો ઘડિયાળના કાંટાની દિશામાં 45° ફરે છે. ત્યાંથી પાછો ઘડિયાળના કાંટાની દિશામાં 180° ફરે છે. ત્યાર બાદ ઘડિયાળના કાંટાની વિરુદ્ધ દિશામાં 270° ફરે છે. તો હવે તે કઈ દિશામાં મોં રાખીને ઊભો હશે ?
- (A) ઉત્તર - પશ્ચિમ (B) પશ્ચિમ - દક્ષિણ
(C) દક્ષિણ - પૂર્વ (D) ઉત્તર - પૂર્વ
- (66) ફૂલ : પાંદડી
નીચેના પૈકી યોગ્ય જૂથ શોધો જે ઉપરના જૂથને રજૂ કરે.
- (A) બોલ : બેટ (B) ટાયર : સાઈકલ
(C) પેન્સીલ : નોટ (D) આખડિયો : વેલણ
- (67) રાજેશ ખૂબ મોટા મોલમાંથી કેટલીક વસ્તુ ખરીદીને તેનું પેમેન્ટ પોતાના ડેબીટ કાર્ડથી કરે છે. મોલની સામે આવેલ મેટ્રો સ્ટેશનથી તે મેટ્રો ટ્રેન પકડી પોતાના ઘરે પહોંચે છે તો રાજેશ ક્યાં રહેતો હશે ?
- (A) સુરત (B) પુરી
(C) હૈદરાબાદ (D) જોધપુર
- (68) (i) છેલ્લાં બે વર્ષથી જિલ્લાનો સાક્ષરતા દર વધે છે.
(ii) જિલ્લા પ્રસાસને છેલ્લાં કેટલાક સમયથી સાક્ષરતા ઝુંબેશ સાથે સંકળાયેલ વ્યક્તિઓની સઘન તાલીમ કરેલ છે અને તેમના કાર્યનું નિરીક્ષણ કરવામાં આવે છે.
- (A) વિધાન (i) એ કારણ છે અને વિધાન (ii) એ અસર છે.
(B) વિધાન (i) અને વિધાન (ii) એ બન્ને સ્વતંત્ર અસર છે.
(C) વિધાન (ii) કારણ છે અને વિધાન (i) એ અસર છે.
(D) વિધાન (i) અને (ii) બન્ને કારણ છે.
- (69) મહેશનું મોઢું પૂર્વદિશામાં છે તે હવે 180° કલોક વાઈઝ ફરે છે ત્યાર બાદ 90° એન્ટી કલોક વાઈઝ ફરે છે. તો હવે તેનું મોઢું કઈ દિશામાં હશે ?
- (A) પૂર્વ (B) દક્ષિણ
(C) ઉત્તર (D) પશ્ચિમ
- (70) નીચે પૈકી કયો વેન ડાયાગ્રામ વિશ્વ, એશિયા, ભારત અને ગુજરાતને દર્શાવે છે.



- (71) 'परिरंभ' शब्दનો સમાનાર્થી શબ્દ શું થાય ?
 (A) તેજ (B) બનાવટ (C) આલિંગન (D) લુચ્ચું
- (72) શુદ્ધ શબ્દ કયો છે ?
 (A) મબલખ (B) શૃંગાર (C) ઔદ્યોગીકરણ (D) પ્રિયવંદા
- (73) 'એ પરીક્ષા : નિમિષ નહિ ચક્ષ, વિરજ વસ્ત્ર, ઊભા અંતરિક્ષ' - પંક્તિમાં રેખાંકિત કરેલ શબ્દ 'વિરજ'નો અર્થ શું થાય છે ?
 (A) મુલાયમ (B) રેશમી (C) રંગીન (D) સ્વચ્છ
- (74) આપેલાં વાક્યોમાં 'વિધ્યર્થ વાક્ય' કયું છે ?
 (A) ભગવાન ભજયા હોત તો ખોટું કાર્ય ન કરત. (B) આટલું મારું માનશો તો સો વર્ષ જીવશો.
 (C) પહેરજે, શર્ટ ફાડી નાખતો નહીં. (D) ભાઈ, કર્યા ભોગવવાં છે !
- (75) શબ્દ અને તેના અનેકાર્થી શબ્દોની ખોટી જોડ હોય તેવો વિકલ્પ કયો છે ?
 (A) મકરંદ - ભમરો, કોકિલ (B) કોઠો - મન, અંતઃકરણ
 (C) અર્ક - કિરણ, આકડો (D) પટ - ઢાંકણ, ગડી
- (76) 'પગ મૂકી શકાય નહીં એવું' ? - શબ્દસમૂહ માટેનો એક શબ્દ કયો છે ?
 (A) અગોચર (B) અચિંત્ય (C) અચર (D) અછડતું
- (77) પદ્ધત્તમ યોગ્ય રીતે સચવાયો હોય તેવું વાક્ય કયું છે ?
 (A) ગામમાં એક અનાજ વેચતો ફેરિયો દેખાયો.
 (B) મેં આજે ચામડાની, એક, નાનકડી બેગ ખરીદી
 (C) વ્યાયામવીરો રોજ સવારે ઝડપથી મેદાનમાં દોડતા હોય છે.
 (D) રોજ સવારે માળી બગીચામાં ઝાડને પાણી પાય છે.
- (78) નીચે આપેલાં વાક્યોમાં 'અધિકરણ વિભક્તિ'નો પ્રયોગ થયો હોય તેવું વાક્ય કયું છે ?
 (A) તે કાલે રાત્રે ગયો. (B) કૂતરી તેનાં ગલુડિયાં સાથે આવી.
 (C) ભાવનગરથી અંબાજી ઘણું દૂર છે. (D) સમીરે તેને ગુલાબ આપ્યું.
- (79) શબ્દાર્થની ખોટી જોડ હોય તેવો કયો વિકલ્પ છે ?
 (A) રબીશ - અર્થહીન (B) હિચકારું - હીન કોટિનું
 (C) અજંપો - કુદાર (D) આશલેષ - ભેટવું
- (80) ભાષાકીય રીતે શુદ્ધ વાક્ય કયું છે ?
 (A) ગોપાલભાઈ સજ્જન વ્યક્તિ છે.
 (B) વિદ્યાર્થીનું એક માત્ર લક્ષ હોય છે - ઉત્તમ અભ્યાસ.
 (C) આ ટીશર્ટની શી કિંમત છે ?
 (D) ઓફિસમાં સફાઈકામ કરતા કર્મચારીઓ એકઠા થવાના છે.
- (81) 'મંદિરની આગળ એક નાનકડો બગીચો છે.' - વાક્યમાં વપરાયેલ નામયોગી ઓળખો.
 (A) મંદિર (B) ની (C) આગળ (D) બગીચો

- (82) 'તુંબડીમાં કાંકરા હોવા' રૂઢિપ્રયોગનો અર્થ શું થાય ?
 (A) કશી જ સમજ ન પડવી (B) નુકશાનમાં વધુ નુકસાન
 (C) ભેદભાવ હોવો (D) વજૂદ વિનાનું હોવું
- (83) સંધિની કઈ જોડ ખોટી છે ?
 (A) કલા + ઊર્મિ = કલોર્મિ (B) નવ + ઓઢા = નવોઢા
 (C) અનુ + એષણા = અન્વેષણા (D) વાકૂ + આડંબર = વાગાડંબર
- (84) વિરામચિહ્નોનો ઉચિત પ્રયોગ ન થયો હોય તેવું વાક્ય કયું છે ?
 (A) એણે કહ્યું : હું ત્યાં ક્યારેય આવીશ નહીં.
 (B) મા'રાજ, આ માટે શું જોઈશે ?
 (C) બધાં જ તત્ત્વજ્ઞાન (?) સમજી શકતા હશે ?
 (D) "બોલે એનાં બોર વેચાય"
- (85) ખોટી જોડણી કયા શબ્દની છે ?
 (A) કમિશનર (B) ઉતુંગ (C) કમિટી (D) નૈર્ઝત્ય
- (86) Find the different word from following words.
 (A) retrieve (B) rescue (C) salvage (D) evade
- (87) Neither you nor your friend was sick ?
 (Put a suitable question tag choosing from the given options below.)
 (A) Wasn't he ? (B) Was he ? (C) Weren't they ? (D) Were they ?
- (88) If Mr. Shah had saved money earlier, he a new car.
 (A) bought (B) have had bought
 (C) will have bought (D) would have bought
- (89) Shruti said to Neha, "You are my best friend now." - find correct indirect speech.
 (A) Shruti told Neha the she was her best friend then.
 (B) Shruti told Neha that she was her best friend now.
 (C) Shruti told Neha that she was her best friend then.
 (D) Shruti said Neha that she is her best friend then.
- (90) The lightning has a tongue of flame. Identify the figure of speech used in the sentence.
 (A) Irony (B) Personification
 (C) Metaphor (D) Simile
- (91) Dr. Harris welcomed the members of the committee and went on the subject of the meeting.
 Put Proper verb form.
 (A) introduced (B) introducing
 (C) introduces (D) to introduce

- (92) Find out similar word for : Assault
 (A) Defence (B) Beating (C) Shooting (D) Attack
- (93) Select the correct sentence.
 (A) Unless you worked hard, you will fail.
 (B) Unless you don't work hard, you will fail.
 (C) Unless you work hard, you will fail.
 (D) Unless you will work hard, you will fail.
- (94) Intelligent he is, he could not pass that exam.
 (A) though (B) however (C) yet (D) as
- (95) Parth filled ten litres of petrol to go to Ahmedabad. Select the most appropriate option to get the underlined word as answer.
 (A) How much petrol Parth filled to go to Ahmedabad ?
 (B) How much petrol did Parth filled to go to Ahmedabad ?
 (C) How much petrol did Parth fill to go to Ahmedabad ?
 (D) How much petrol Parth fill to go to Ahmedabad ?
- (96) Let her kill the mouse. Select the correct passive sentence.
 (A) The mouse was killed by her.
 (B) Let the mouse be killed by her.
 (C) Let the mouse is killed by her.
 (D) Let her kill the mouse.
- (97) No sooner did I reach the college
 (Select correct option to complete the sentence)
 (A) when it started to rain. (B) and it started to rain.
 (C) than it started to rain. (D) after it started to rain.
- (98) Neither of your friend will come. Identify the Pronoun.
 (A) Distributive (B) Demonstrative
 (C) Indefinite (D) Reciprocal
- (99) Many times he helps those he doesn't know.
 (A) who (B) which (C) what (D) whom
- (100) If you the rumour, you
 (A) had spread, would have been arrested.
 (B) had spread, would have arrested
 (C) had spreaded, would have been arrested
 (D) had spreaded, could have arrested

- (101) ભારતનો પ્રવાસ કરી ભારતની ભૂમિ અને લોક જીવનનું વર્ણન કરનાર કોણ હતા ?
 (A) ઈબ્ન-બતૂતા (B) આર્યભટ્ટ (C) ચંદ્ર ગુપ્ત (D) વરાહમિહિર
- (102) સૂર્યનો વ્યાસ પૃથ્વીના વ્યાસ કરતા આશરે કેટલા ગણો વધુ છે ?
 (A) 107 (B) 109 (C) 111 (D) 114
- (103) સાઈમાં સ્તરમાં કયા પ્રકારના ખડકો જોવા મળે છે ?
 (A) ગ્રેનાઈટ ખડકો (B) બેસાલ્ટ ખડકો
 (C) લાવાના ખડકો (D) પ્રસીર ખડકો
- (104) મેદાનો કુલ ભૂમિખંડોનો કેટલો ભાગ રોકે છે ?
 (A) 41% (B) 21% (C) 33% (D) 29%
- (105) તાપમાનના ઊર્ધ્વ ઘટાડાના દરને શું કહે છે ?
 (A) સૂર્યકલંક (B) લેપ્સરેટ (C) સૌર-અચળાંક (D) ઓલ્બીડો
- (106) ભારતના કયા રાજ્યમાં શિયાળાની ઋતુમાં વૃષ્ટિ થાય છે ?
 (A) તામિલનાડુ (B) ગુજરાત (C) મધ્ય પ્રદેશ (D) ઉત્તર પ્રદેશ
- (107) દુનિયાની સૌથી ઊંચી ભરતીનાં મોજા કયા અખાતમાં ઉછળે છે ?
 (A) કચ્છના અખાતમાં
 (B) ખંભાતના અખાતમાં
 (C) મેક્સિકોના અખાતમાં
 (D) કેનેડાના ફન્ડીના અખાતમાં
- (108) સમુદ્રોમાં કેટલા કિ.મી.ની ઊંડાઈ સુધી જીવસૃષ્ટિ પાંગરેલી છે ?
 (A) 6 કિ.મી. (B) 7 કિ.મી. (C) 11 કિ.મી. (D) 9 કિ.મી.
- (109) આરસપહાણ ખડક કયા પ્રકારના ખડકનું દૃષ્ટાંત છે ?
 (A) આગ્નેય (B) પ્રસ્તર (C) રૂપાન્તરીત (D) જ્વાળામુખી
- (110) રેડિયો પ્રસારણ માટે અનુકૂળ આવરણ કયું ?
 (A) મધ્યાવરણ (B) ઉષ્માવરણ
 (C) સમતાપ આવરણ (D) ક્ષોભ આવરણ
- (111) બે આક્ષાંશવૃત્તાનો વચ્ચે કેટલા કિ.મી.નું અંતર હોય છે ?
 (A) 139 (B) 111 (C) 122 (D) 211
- (112) આંતરિક ભૂગર્ભની ઘનતા લગભગ કેટલા ગ્રામ/ઘન સે.મી. હોય છે ?
 (A) 5 (B) 4.7 (C) 13 (D) 19
- (113) ભારતીય ભૂ-તકતી આશરે કેટલા મિલિયન વર્ષો પહેલા એન્ટાર્કટિકાથી છુટી પડી હતી ?
 (A) 78 (B) 76 (C) 188 (D) 75

- (114) સૂર્યની સપાટીનું તાપમાન આશરે કેટલા 0° સે અનુમાનવામાં આવે છે ?
 (A) 6000 0° સે (B) 5000 0° સે (C) 1.5 કરોડ 0° સે (D) 1000 0° સે
- (115) મનુષ્યની બધી જ ક્રિયાઓ પર્યાવરણ દ્વારા નિયંત્રિત થાય છે. આ વિચારધારા એટલે...
 (A) સંભવવાદ (B) પ્રત્યક્ષવાદ
 (C) નિયતિવાદ (D) માનવતાવાદ
- (116) ભારતમાં તમાકુનો છોડ લાવનાર પ્રજા કઈ હતી ?
 (A) અંગ્રેજો (B) ફ્રેન્ચો (C) ડચ (D) પોર્ટુગીઝો
- (117) ઉચ્ચકક્ષાના નિર્ણાયકો કઈ પ્રવૃત્તિ સાથે જોડાયેલા ગણાય છે ?
 (A) પ્રાથમિક (B) ચતુર્થક (C) તૃતીયક (D) પંચમ
- (118) માનવીને આપી શકાય તેવી સેવાઓને કઈ પ્રવૃત્તિ કહે છે ?
 (A) પ્રાથમિક (B) દ્વિતીયક (C) તૃતીયક (D) ચતુર્થક
- (119) વિશ્વમાં સૌથી લાંબામાં લાંબી પાઈપ લાઈન કઈ છે ?
 (A) બીગદરા (B) સાઈબીરિયન (C) કોમેકોન (D) વોલ્ગા
- (120) ગુજરાતમાંથી કયા નંબરનો રાષ્ટ્રીય ધોરી માર્ગ પસાર થાય છે ?
 (A) 7 (B) 8 (C) 6 (D) 5
- (121) ભારતમાં રેડિયોનું પ્રથમ પ્રસારણ ક્યારે થયું ?
 (A) 1923 (B) 1936 (C) 1975 (D) 1957
- (122) ચીન અને દક્ષિણ-પ્રશ્ચિમ એશિયાના મધ્યમાં થઈને પસાર થતા માર્ગને કયા નામે ઓળખવામાં આવે છે ?
 (A) ગ્રાંડરોડ (B) સમજૈતામાર્ગ
 (C) રેશમ-માર્ગ (D) મહામાર્ગ
- (123) ખનીજતેલની કિંમત સબંધી નીતિઓ તૈયાર કરનાર સંગઠન કયું છે ?
 (A) નાફ્ટા (B) આસિયાન (C) સાર્ક (D) ઓપેક
- (124) વિક્ટોરિયા સરોવર કયા ખંડમાં આવેલું છે ?
 (A) આફ્રિકા (B) યુરોપ (C) એશિયા (D) અમેરિકા
- (125) કેનેડાનું વિનિપેગ શહેર કયા પ્રકારનું કેન્દ્ર છે ?
 (A) વહિવટી (B) વ્યાપાર (C) ઔદ્યોગિક (D) સંરક્ષણ
- (126) GIS ના પિતા તરીકે કોણ જાણીતા છે ?
 (A) સ્ટ્રાબો (B) રોઝરટોમલિનસન (C) કાન્ટ (D) કુ. એલન. સેમ્પલ
- (127) 'આર્યભટ્ટે' ભૂગોળની કઈ વિગત વિશ્વને આપી ?
 (A) ભૂગોળ મંડળ (B) પૃથ્વીની ઉત્પત્તિ (C) સૂર્યમંડળ (D) ગુરુત્વાકર્ષણ વિશે

- (128) આંતરતારાકીય ધૂલી વાદળ ઉત્કલ્પના કોણે આપી ?
 (A) ઓટો શિમડે (B) કાન્ટે (C) જેમ્સ જિન્સ (D) વરાહ મિહિર
- (129) પાણી કરતા વરાળ કેટલા ગણી વધુ જગ્યા રોકે છે ?
 (A) 1100 (B) 1200 (C) 1300 (D) 1400
- (130) પૃથ્વીનું કુલ ક્ષેત્રફળ કેટલા કરોડ ચો.કિમી છે ?
 (A) 30.68 (B) 50.68 (C) 40.68 (D) 55.68
- (131) આદિ મહાખંડની આસપાસ એક વિશાળ છીછરો આદિ મહાસાગર વીંટળાયેલો હતો તેને શું કહેવામાં આવે છે ?
 (A) પેન્જિઆ (B) પેન્થાલસા
 (C) પુરેશિયન (D) ખંડપ્રવાહન
- (132) હોરી હંસે રજૂ કરેલો સિદ્ધાંત.....
 (A) ખંડપ્રવાહન સિદ્ધાંત
 (B) ચતુષ્ફલક સિદ્ધાંત
 (C) ધ્રુવોના ભ્રમણનો સિદ્ધાંત
 (D) સમુદ્રતળ પ્રસરણનો સિદ્ધાંત
- (133) સૌથી નરમ ખનીજ કઈ છે ?
 (A) ટાસ્ટ (B) સોનુ (C) ચાંદી (D) તાંબુ
- (134) ખનીજ તેલ કયા પ્રકારના ખડકમાંથી મળી આવે છે ?
 (A) ગ્રેનાઈટ (B) આગ્નેય (C) રૂપાંતરીત (D) પ્રસ્તર
- (135) બાહ્ય બળોનો આદિસ્ત્રોત કયો છે ?
 (A) નદી (B) પવન (C) સૂર્ય (D) જમીન
- (136) ઉચ્ચ પ્રદેશો કુલ ભૂમિખંડોનો કેટલો ભાગ રોકે છે ?
 (A) 25% (B) 50% (C) 30% (D) 33%
- (137) ગ્રીન હાઉસ વાયુ કયો છે ?
 (A) ઓક્સીજન (B) નાઈટ્રસ ઓક્સાઈડ (C) સલ્ફર (D) બેન્જામીન
- (138) નીચેનામાંથી કયો પ્રવાહ ઠંડો પ્રવાહ નથી ?
 (A) ક્યુરોશિયો (B) લાબ્રાડોર (C) કેલફોર્નિયા (D) બેગ્વિલા
- (139) નીચેનામાંથી કયુ પરિબળ સૂર્યઘાતના વિતરણ પર અસર કરતું નથી ?
 (A) મહાસાગરના પ્રવાહો
 (B) દિવસની લંબાઈ
 (C) રાત્રીની લંબાઈ
 (D) સમુદ્રથી ઊંચાઈ

- (140) સમુદ્ર સપાટીથી ઊંચે જતા સરેરાશ દર કેટલા મીટરની ઊંચાઈએ 1 સે.મી. દબાણ ઘટે છે ?
 (A) 265 (B) 365 (C) 165 (D) 465
- (141) પૃથ્વીની સપાટીથી કેટલા કિ.મી. ની ઊંચાઈ પછીના વાતાવરણમાં ભેજ લગભગ હોતો નથી ?
 (A) 1 થી 2 (B) 10 થી 12 (C) 20 થી 22 (D) 30 થી 32
- (142) કયા વાદળને રીંછડી વાદળ પણ કહે છે ?
 (A) ખડ વાદળ (B) વર્ષા વાદળ (C) તંતુ વાદળ (D) ઢગ વાદળ
- (143) 'સોનોરાન' રણ પ્રદેશ કયા ખંડમાં છે ?
 (A) એશિયા (B) આફ્રિકા (C) ઓસ્ટ્રેલિયા (D) ઉત્તર અમેરિકા
- (144) ભરતીના કુલ કેટલા પ્રકાર છે ?
 (A) 3 (B) 4 (C) 5 (D) 6
- (145) ભૂમિખંડોના કિનારા પાસે આવેલ સમુદ્ર અને મહાસાગરના આશરે કેટલા મીટર ઊંડાઈ સુધીના મેદાની ભાગને ખંડીય છાજલી કહે છે ?
 (A) 100 મીટર (B) 200 મીટર
 (C) 300 મીટર (D) 400 મીટર
- (146) ક્યુરેશિયો પ્રવાહ કયા દેશના પૂર્વ કિનારે વહે છે ?
 (A) કેનેડા (B) અમેરિકા (C) જાપાન (D) ઈન્ડોનેશિયા
- (147) નીચેના પૈકી કોનું તાપમાન ઊંચું રહે છે ?
 (A) હિંદ મહાસાગર
 (B) પેસિફિક મહાસાગર
 (C) રાતો સમુદ્ર
 (D) આર્કટિક મહાસાગર
- (148) જૈવિક વિવિધતાની દૃષ્ટિએ અતિ સમુદ્ર દેશોની સંખ્યા કેટલી છે ?
 (A) 10 (B) 12 (C) 14 (D) 11
- (149) વીજળીનો ચમકારો એ કયા જૈવ-રાસાયણિક ચક્ર સાથે જોડાયેલી ઘટના છે ?
 (A) નાઈટ્રોજન (B) ઓક્સીજન
 (C) કાર્બન ડાયોક્સાઈડ (D) ફોસ્ફરસ
- (150) ભારતના કેટલા જિલ્લા સંભવિત દુષ્કાળ ક્ષેત્રે છે ?
 (A) 100 (B) 110 (C) 191 (D) 151
- (151) નકશામાં પીળા રંગથી શું દર્શાવવામાં આવે છે ?
 (A) જમીનના પ્રકારો (B) પવનોના પ્રકારો
 (C) ખેતી (D) નદી

- (152) ભૌગોલિક પર્યાવરણ તથા માનવીની ક્રિયાઓના પરસ્પર સંબંધોનો અભ્યાસ એટલે માનવ ભૂગોળ આ વ્યાખ્યા નીચેના પૈકી કોણે આપી હતી ?
- (A) ફેડરિક રેટ્ઝેલ
(B) કુમારી એલન સી સેમ્પલ
(C) પોબ વિડાલ-ડી-લા-બ્લાશ
(D) હંટિંગ્ટન
- (153) 'સંભવવાદ' શબ્દનો સર્વપ્રથમ ઉપયોગ કોણે કર્યો હતો ?
- (A) કાન્ટ
(B) લુસિયન ફાવરે
(C) રીટર
(D) હમ્બોલ્ટ
- (154) કયા બે રાજ્યોની વસ્તીનો સરવાળો ભારતની લગભગ ચોથા ભાગની વસ્તી થાય છે ?
- (A) ઉત્તર પ્રદેશ અને બિહાર
(B) ઉત્તર પ્રદેશ અને ઝારખંડ
(C) ઉત્તર પ્રદેશ અને મહારાષ્ટ્ર
(D) ઉત્તર પ્રદેશ અને ગુજરાત
- (155) દર ચોરસ કિમી એ 09 મી ઓછી વસ્તી ગીચતા ધરાવતા પ્રદેશો પૈકી નીચેનામાંથી કયા પ્રદેશનો સમાવેશ થાય છે ?
- (A) રાજસ્થાન અજમેર વિસ્તારનો કેટલોક ભાગ
(B) રાજસ્થાન જયપુર વિસ્તારનો કેટલોક ભાગ
(C) રાજસ્થાન ઉદયપુર વિસ્તારનો કેટલોક ભાગ
(D) રાજસ્થાન બિકાનેર વિસ્તારનો કેટલોક ભાગ
- (156) વિશ્વની કુલ વસ્તીના સંદર્ભમાં નીચે પૈકી સાચું વિધાન જણાવો.
- (A) વિશ્વની કુલ વસ્તીના 80% વસ્તી ઉત્તર ગોળાર્ધમાં વસે છે.
(B) વિશ્વની કુલ વસ્તીના 50% વસ્તી 20⁰ થી 40⁰ ઉ. અક્ષાંશની વચ્ચે વસે છે.
(C) વિશ્વની કુલ વસ્તીના 60% વસ્તી 60⁰ ઉ. અક્ષાંશની પાસે રહે છે.
(D) વિશ્વની કુલ વસ્તીના 5% વસ્તી 50⁰ ઉ. અક્ષાંશની પાસે રહે છે.
- (157) ભારતમાં 895 સ્ત્રી-પુરુષ પ્રમાણ ધરાવતું રાજ્ય કયું છે ?
- (A) ગુજરાત
(B) હરિયાણા
(C) પંજાબ
(D) સિક્કિમ
- (158) ભારતમાં આશરે કેટલા ટકા બોદ્ધ ધર્મ પાળવામાં આવે છે ?
- (A) 0.66%
(B) 0.63%
(C) 0.70%
(D) 0.73%
- (159) કોલકત્તાથી ચેન્નઈ (વાયા વિજયવાડા, વિશાખાપટ્ટનમ) કયા રાષ્ટ્રીય ધોરી માર્ગ આવેલ છે ?
- (A) રાષ્ટ્રીય ધોરી માર્ગ - 2
(B) રાષ્ટ્રીય ધોરી માર્ગ - 4
(C) રાષ્ટ્રીય ધોરી માર્ગ - 5
(D) રાષ્ટ્રીય ધોરી માર્ગ - 6

- (160) ભારતના જળ માર્ગના સંદર્ભમાં નીચેના પૈકી કયુ વિધાન સાચું છે ?
 (A) ભારતમાં લગભગ 1400 કિ.મી. લંબાઈનો જળ માર્ગ આવેલ છે.
 (B) ભારતમાં લગભગ 14,477 કિ.મી. લંબાઈનો જળમાર્ગ આવેલ છે.
 (C) ભારતમાં લગભગ 13,477 કિ.મી. લંબાઈનો જળમાર્ગ આવેલ છે.
 (D) ભારતમાં લગભગ 14,000 કિ.મી. લંબાઈનો જળમાર્ગ આવેલ છે.
- (161) નીચેના પૈકી કયો જળમાર્ગ જળપાશ (lock System) પ્રણાલી ધરાવે છે ?
 (A) કેપ ઓફ ગુડ હોપ માર્ગ
 (B) દક્ષિણ એટલેન્ટિક માર્ગ
 (C) ઉપર પેસિફિક માર્ગ
 (D) પનામા નહેર માર્ગ
- (162) ભારતમાં હવાઈ પરિવહનનું રાષ્ટ્રીયકરણ ક્યારે થયું ?
 (A) 1950 (B) 1957 (C) 1953 (D) 1955
- (163) હિન્દ મહાસાગરમાં દક્ષિણ વિષુવવૃત્તિય ગરમ પ્રવાહ બારે માસ કઈ દિશામાં વહે છે ?
 (A) ઉત્તર (B) દક્ષિણ (C) પૂર્વ (D) પશ્ચિમ
- (164) નીચેનામાંથી કયુ ફેરીબંદર છે ?
 (A) બ્રીમર હેવન (B) ન્યુ હેવન (C) સલાયા (D) બફેલો
- (165) સાફ્ટા (SAFTA) ની સ્થાપના કયા વર્ષમાં થઈ હતી ?
 (A) 1967 (B) 1991 (C) 2008 (D) 2006
- (166) ફ્રાન્સ અને જર્મનીમાં કયા પ્રકારની વસાહત પ્રણાલીનું પ્રમાણ વધુ છે ?
 (A) લંબચોરસ (B) ત્રિકોણીય (C) તારક (D) નિહારીકા
- (167) નીચેના પૈકી કયુ શહેર ખનીજ ખોદકામને લીધે વિકસેલુ શહેર છે ?
 (A) ઝાંસી (B) જરીયા (C) જયપુર (D) પોરબંદર
- (168) વિશ્વની સૌથી લાંબી નદી કઈ છે ?
 (A) ગંગા (B) નાઈલ (C) કાંગો (D) મિસિસિપી
- (169) ફંડીની ખાડીમાં કેટલા મીટર સુધીના મોજાં ઊછળે છે ?
 (A) 10 (B) 12 (C) 15 (D) 17
- (170) મધ્ય અમેરિકાથી કયો પાક વિશ્વના દેશોમાં ફેલાયો ?
 (A) ઘઉં (B) ડાંગર (C) તમાકુ (D) મકાઈ
- (171) વિકાસશીલ દેશોની મુખ્ય સમસ્યા કઈ છે ?
 (A) પીવાનું પાણી (B) મકાન (C) ગરીબી (D) ગંદકી

- (172) નીચે આપેલા આંકડાકીય માહિતીનો મધ્યસ્થ શોધો. 235, 85, 210, 115, 120, 75, 230
 (A) 130 (B) 125 (C) 120 (D) 135
- (173) સંપાદિત આંકડાઓને જુદાં જુદાં ઢાંચામાં ગોઠવવાની પ્રક્રિયાને શું કહે છે ?
 (A) પ્રસ્તૂતીકરણ (B) વર્ગીકરણ
 (C) એકત્રીકરણ (D) સંપાદન
- (174) એક જ પરિમાણ દર્શાવતો આલેખ કયો છે ?
 (A) સાદો સ્તંભ - આલેખ (B) વર્તુળ આલેખ
 (C) પાઈ ડાયાગ્રામ (D) રેખા આલેખ
- (175) નકશા તૈયાર કરતી કોલકત્તામાં આવેલી સંસ્થાનું નામ શું છે ?
 (A) નાટમો (B) સર્વે ઓફ ઇન્ડિયા
 (C) નાટો (D) નાપ
- (176) GPS પ્રણાલિ વિકસાવનાર દેશ કયો હતો ?
 (A) રશિયા (B) આફ્રિકા (C) જર્મની (D) યુ.એસ.એ.
- (177) બધાજ એકમોના સમુહને શું કહે છે ?
 (A) નમૂનો (B) દ્વિતીયક માહિતી
 (C) સમસ્ટિ (D) બહુલક
- (178) જંગલોમાં વૃક્ષોને કાપીને કરાતી ખેતીનું નામ શું છે ?
 (A) સાધન ખેતી (B) ઝૂમખેતી
 (C) બહુવિધ ખેતી (D) આધુનિક ખેતી
- (179) ક્ષોભ સિમા એટલે કે જ્યાં ક્ષોભ આવરણની ઉપરની સપાટીનું તાપમાન
 (A) વધતું અટકી જાય છે. (B) વધે છે.
 (C) ઘટતું અટકી જાય છે. (D) ઘટે છે.
- (180) ‘+’ આ રૂઢ સંજ્ઞા દ્વારા શું દર્શાવવામાં આવે છે ?
 (A) ઝરો (B) દેવળ (C) મસ્જિદ (D) પેગોડા
- (181) શિક્ષણની કાર્યક્ષમતા વધારવામાં કયો કાર્યક્રમ મહત્ત્વની ભૂમિકા ભજવે છે ?
 (A) શિક્ષક સભાનો
 (B) શિક્ષક પ્રશિક્ષણનો
 (C) શિક્ષણ ભરતીનો
 (D) શિક્ષક બઢતીનો
- (182) માઈક્રોટીચિંગ શબ્દનો પ્રયોગ સૌ પ્રથમ વખત કોણે કર્યો ?
 (A) ડવાઈટ એલને (B) આર્નોલ્ડ ટોયમ્બીએ
 (C) વી.ડી. ઘાટે (D) મેઈટલેન્ડે

- (183) માઈક્રોટીચીંગની સંચાલન તરાહનો બીજો તબક્કો કયો છે ?
 (A) પુનઃ શિક્ષણનો તબક્કો (B) પુનઃ આયોજનનો તબક્કો
 (C) શિક્ષણનો તબક્કો (D) પ્રતિપોષણનો તબક્કો
- (184) પ્રશ્ન કૌશલ્યને કેટલા પ્રકારોમાં વહેંચી શકાય ?
 (A) બે (B) ત્રણ (C) ચાર (D) પાંચ
- (185) વિદ્યાર્થીઓમાં તર્કશક્તિ, ચિંતનશક્તિ, અવલોકન કલ્પનાશક્તિનો વિકાસ થાય તે માટે કેવા પ્રશ્નો પૂછવામાં આવે છે ?
 (A) આરંભ પ્રશ્નો (B) હેતુલક્ષી પ્રશ્નો
 (C) વિચારપ્રેરક પ્રશ્નો (D) પૂર્તિ પ્રશ્નો
- (186) વિદ્યાર્થીઓ ભૌગોલિક જ્ઞાનની સમજ કેળવે-વિકસાવે તે કયો હેતુ છે ?
 (A) જ્ઞાનપ્રાપ્તિનો હેતુ
 (B) સમજના વિકાસનો હેતુ
 (C) જ્ઞાનનો ઉપયોજનનો હેતુ
 (D) કૌશલ્યોના વિકાસનો હેતુ
- (187) અધ્યયનની કઈ પદ્ધતિ શિક્ષકકેન્દ્રી પદ્ધતિ છે ?
 (A) કથન પદ્ધતિ (B) પ્રોજેક્ટ પદ્ધતિ
 (C) સ્વાધ્યાય પદ્ધતિ (D) નિરીક્ષીત પદ્ધતિ
- (188) નીચેનામાંથી કયું સોપાન નિરીક્ષીત અભ્યાસ પદ્ધતિનું સોપાન નથી ?
 (A) આયોજન અને તૈયારી (B) મૂલ્યાંકન
 (C) સાધનસામગ્રી (D) કૌશલ્ય
- (189) ‘પાઠ આયોજન એટલે શૈક્ષણિક હેતુઓની સિદ્ધિપ્રાપ્તિ અર્થે શિક્ષક જે ક્રિયાઓનું આયોજન કરે તેનો આલેખપત્ર’ - આ વ્યાખ્યા કોણે આપી ?
 (A) મિલર (B) રવિન્દ્રનાથ ટાગોર
 (C) બોસિંગ (D) બિનિંગ
- (190) જર્મન કેળવણીકાર હર્બર્ટના મતે પાઠ આયોજનનું પહેલું સોપાન કયું છે ?
 (A) રજૂઆત (B) વિષયાભિમુખ
 (C) સંબંધ (D) સામાન્યીકરણ
- (191) વિદ્યાર્થીઓની અભિનયશક્તિ અને સર્જનાત્મકતાને ખિલવતી પ્રયુક્તિ કઈ છે ?
 (A) પ્રવાહ (B) સંગ્રહસ્થાન
 (C) સમયરેખા (D) નાટ્યીકરણ
- (192) નીચેનામાંથી કયું દૃશ્ય-શ્રાવ્ય સમૂહ માધ્યમ નથી ?
 (A) ફિલ્મ (B) ટી.વી.
 (C) વર્તમાનપત્ર (D) વી.સી.ડી.

- (193) 'નદીઓના ફળદ્રુપ મેદાનોમાં' માનવ સંસ્કૃતિના વિકાસનું કારણ ત્યાં વસવાટ માટેના અનુકૂળ સંજોગો છે' - આ ઘટના ભૂગોળના કયા વિષય સાથેનો અનુબંધ દર્શાવે છે ?
- (A) વિજ્ઞાન સાથે (B) ઇતિહાસ સાથે
(C) અર્થશાસ્ત્ર સાથે (D) ગણિત સાથે
- (194) સારા પ્રશ્નપત્રની રચના માટેની આધારશિલા કઈ છે ?
- (A) બ્લૂ પ્રિન્ટ (B) અભ્યાસક્રમ
(C) પાઠ્યપુસ્તક (D) એક પણ નહિ
- (195) શિક્ષણની પ્રક્રિયામાં મુખ્ય ત્રણ ધ્રુવો કયાં છે ?
- (A) શિક્ષક - વાલી - વિદ્યાર્થી
(B) શિક્ષક - અભ્યાસક્રમ - વાલી
(C) વિદ્યાર્થી - અભ્યાસક્રમ - વાલી
(D) શિક્ષક - વિદ્યાર્થી - અભ્યાસક્રમ
- (196) શિક્ષણમાં શિખવાની પ્રક્રિયાને વધારવા માટે ટેકનોલોજીનો ઉપયોગ તરીકે ઓળખાય છે.
- (A) માહિતી ટેકનોલોજી
(B) કોમ્યુનિકેશન ટેકનોલોજી
(C) ICT
(D) આમાંથી કોઈ નહીં
- (197) શિક્ષણ કાર્યની શરૂઆત કરતા પહેલા શિક્ષકે નીચેના પૈકી કયા કૌશલ્યનો ઉપયોગ કરવો જોઈએ ?
- (A) પ્રશ્ન પ્રવાહિતા (B) કા.પા. કાર્ય
(C) ઉદાહરણ (D) વિષયાભિમુખ
- (198) શિક્ષકના નીચેનામાંથી કયો ગુણ વિદ્યાર્થીઓને સૌથી વધુ ગમશે ?
- (A) આદર્શવાદી ફિલોસોફી (B) કરુણા
(C) શિસ્ત (D) મનોરંજક સ્વભાવ
- (199) 'મેથડ' શબ્દ ગ્રીક શબ્દ 'મેથોડોસ' પરથી આવ્યો છે જેનો અર્થ થાય છે.
- (A) પ્રક્રિયા (B) સિસ્ટમ
(C) કાર્યવાહી (D) વિશ્લેષણ
- (200) કોરસ્પોન્ડન્સ લર્નિંગ, ડિસ્ટન્સ લર્નિંગ અને ઓપન લર્નિંગ ના ભાગો છે.
- (A) ઔપચારિક શિક્ષણ
(B) અનૌપચારિક શિક્ષણ
(C) બિન-ઔપચારિક શિક્ષણ
(D) શાળા શિક્ષણ



રફ કામ માટેનું પેઈજ

રફ કામ માટેનું પેઈજ

પરીક્ષા પૂરી થયા બાદ ઉત્તરપત્ર (OMR SHEET) ખંડ નિરીક્ષકને ખુલ્લું (કવરમાં મુક્યા વગર) પરત કર્યા બાદ જ પરીક્ષા ખંડ છોડવાનો રહેશે. તેમ કરવામાં કસૂર થયેથી શિસ્તભંગના પગલાં ગણી પરીક્ષા માટે જે તે ઉમેદવારને ગેરલાયક ઠેરવવામાં આવશે.